

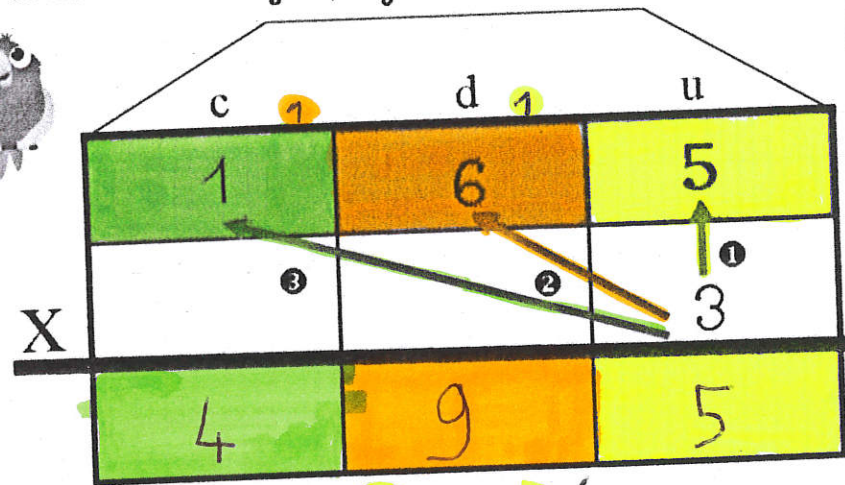


# Calculer des produits en colonnes avec retenue

J'ai acheté trois perroquets à 165 € l'un.  
Combien vais-je payer ?



1 Je regarde les unités  
 $5 \times 3 = 15$   
 10 pièces de 1 (échange : 1 dizaine (retenue))

2 Je regarde les dizaines  
 $6 \times 3 = 18$   
 $18 + 1(\text{retenue}) = 19$   
 10 billets de 10 → 1 centaine (retenue)

3 Je regarde les centaines  
 $1 \times 3 = 3$   
 $3 + 1(\text{retenue}) = 4$  centaines  
 Je vais payer 4 centaines, 9 dizaines, 5 unités

Calcule :

|   |   |   |
|---|---|---|
| 3 | 1 | 8 |
| X |   | 6 |

|   |   |   |
|---|---|---|
| 9 | 3 |   |
| X |   | 7 |

|   |   |   |   |
|---|---|---|---|
| 4 | 5 | 2 |   |
| X |   |   | 8 |