









**EX
Géo 5**







Repérage de cases dans un quadrillage

1. Indique les coordonnées des différents symboles :

	1	2	3	4	5
A					
B					
C					
D					
E					

Exemple :







 : B 4


-  :
-  :
-  :
-  :
-  :
-  :

2. Dessine les symboles à l'endroit indiqué :

Exemple :

 : E 4

-  : A 1
-  : D 1
-  : C 5
-  : E 2
-  : C 3
-  : A 4

	1	2	3	4	5
A					
B					
C					
D					
E					

3. Colorie les cases selon les couleurs indiquées :

	1	2	3	4	5
A					
B					
C					
D					
E					

En noir : A1, A5, E1, E5 et C3

En jaune : A2, A4, B1, B5, D1, D5, E2 et E4

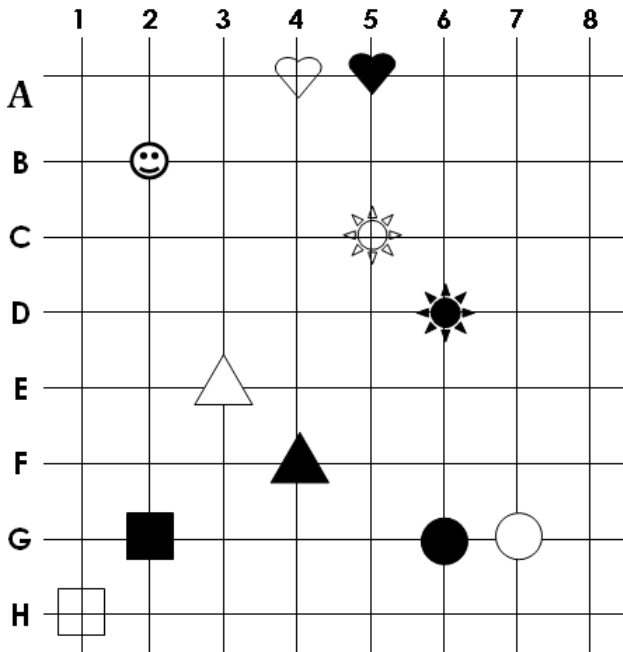
En vert : A3, B2, B4, C1, C5, D2, D4 et E3

En rouge : B3, C2, C4 et D3

**EX
Géo 5**

Repérage de cases dans un quadrillage

4. Indique les coordonnées des différents symboles

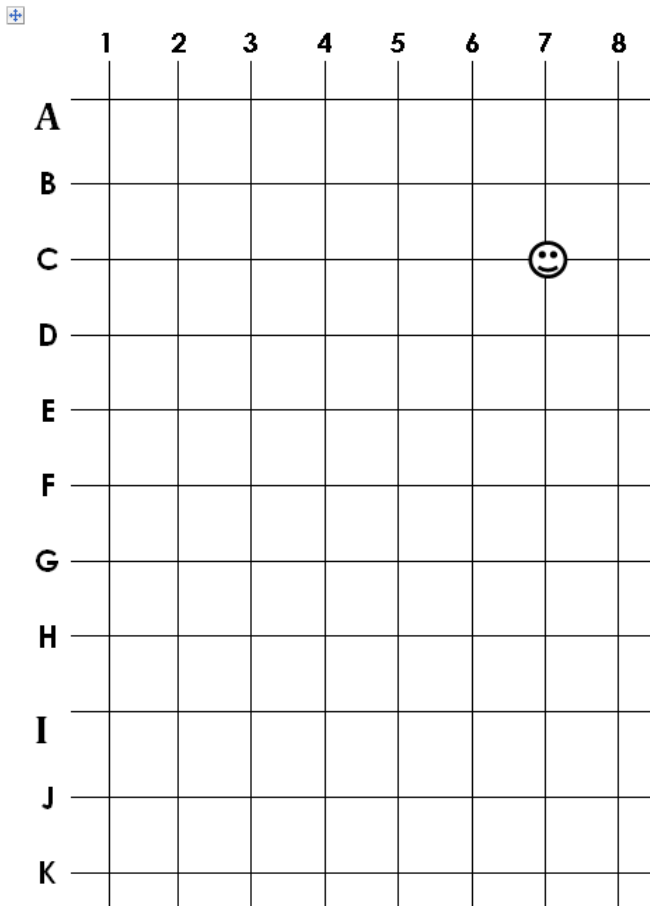


Exemple :

☺ : B 2

- | | |
|-----------|-----------|
| ☀ : | ☀ : |
| ♡ : | ♥ : |
| □ : | ■ : |
| ○ : | ● : |
| △ : | ▲ : |

5. Dessine les symboles au bon endroit :



Exemple :

☺ : C 7

- | | |
|---------|---------|
| ☀ : B 2 | ☀ : A 7 |
| ♡ : D 5 | ♥ : F 3 |
| □ : G 7 | ■ : H 1 |
| ○ : J 8 | ● : I 2 |
| △ : K 3 | ▲ : E 5 |