


Géographie : plaines et plateaux

Voici deux paysages:



Fais le croquis du premier :



Réponds à ces questions en regardant bien les deux paysages:

1. l'horizon est-il proche ou lointain ? _____
2. Les cours d'eau sont-ils affleurant ou enfoncés? _____
3. Est-il facile de circuler? _____
4. Ces photographies ont-elles été prise sur un plateau, dans une plaine ou sur une colline? _____

Géographie : plaines et plateaux

Voici deux paysages:



Fais le croquis du premier :



Réponds à ces questions en regardant bien les deux paysages:

1. l'horizon est-il proche ou lointain ? _____
2. Les cours d'eau sont-ils affleurant ou enfoncés? _____
3. Est-il facile de circuler? _____
4. Ces photographies ont-elles été prise sur un plateau, dans une plaine ou sur une colline? _____

Géographie : plaines et plateaux

Voici deux paysages:



Fais le croquis du premier :




Réponds à ces questions en regardant bien les deux paysages:

1. l'horizon est-il proche ou lointain ? _____
2. Les cours d'eau sont-ils affleurant ou enfoncés? _____
3. Est-il facile de circuler? _____
4. Ces photographies ont-elles été prise sur un plateau, dans une plaine ou sur une colline? _____

Géographie : plaines et plateaux

Leçon à retenir

cours d'eau



Une plaine forme un espace plat et étendu ;

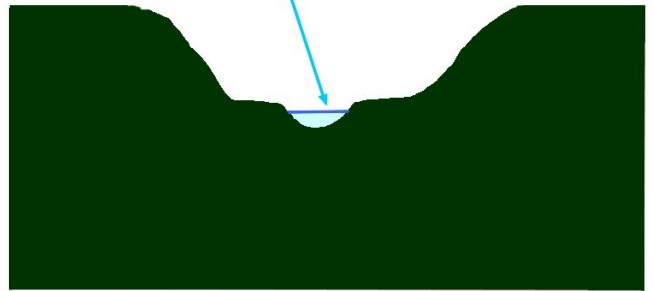
- L'horizon est lointain ;
- Les cours d'eau sont à peine enfoncés ;
- La circulation est très facile parce

qu'il n'y a pas de pentes.

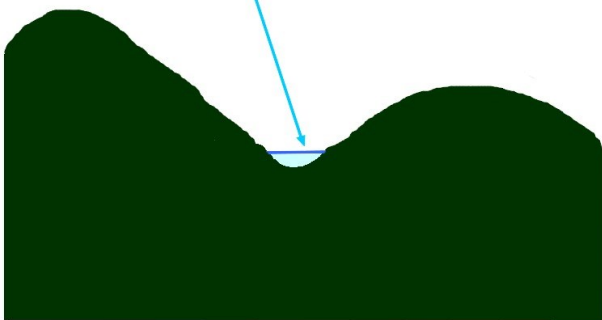
Un plateau forme un espace plat ou peu ondulé ;

- Il est traversé par des vallées encaissées parce que les cours d'eau sont enfoncés ;
- Il est souvent limité par une pente raide ;
- La circulation est moins facile à cause de la différence d'altitude créée par les vallées.

cours d'eau



cours d'eau



Une colline forme une bosse aux pentes douces et au sommet arrondi ;
Les cours d'eau serpentent entre les collines

La circulation est un peu gênée par la fréquence des pentes.