

Maths – Lundi 18 mai

Activités ritualisées :

A l'oral (ou sur l'ardoise) :

- 1) Compte de 2 en 2 jusqu'à 51 à partir de 1 : 1 - 3 - ...
- 2) Compte à rebours de 2 en 2 à partir de 51 : 51 - 49 - ...

Lecture de l'heure : Quelle heure sera-t-il si on ajoute 1 heure ?



Il sera :

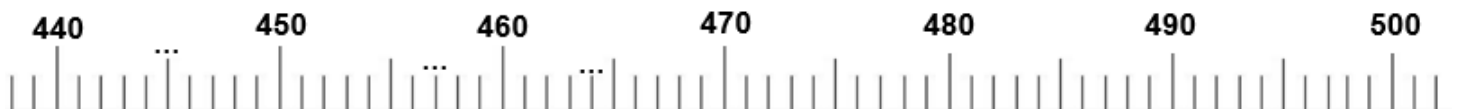


Il sera :

Calcul mental :

Exercice droite graduée :

- 1) Complète la droite graduée :



- 2) Place les nombres suivants sur la droite graduée : **475 - 492 - 502**

3) Utilise la droite graduée pour trouver les résultats des opérations suivantes :

$450 + \dots = 500$


$475 + \dots = 500$

$464 + \dots = 500$

Apprentissage : symétrie

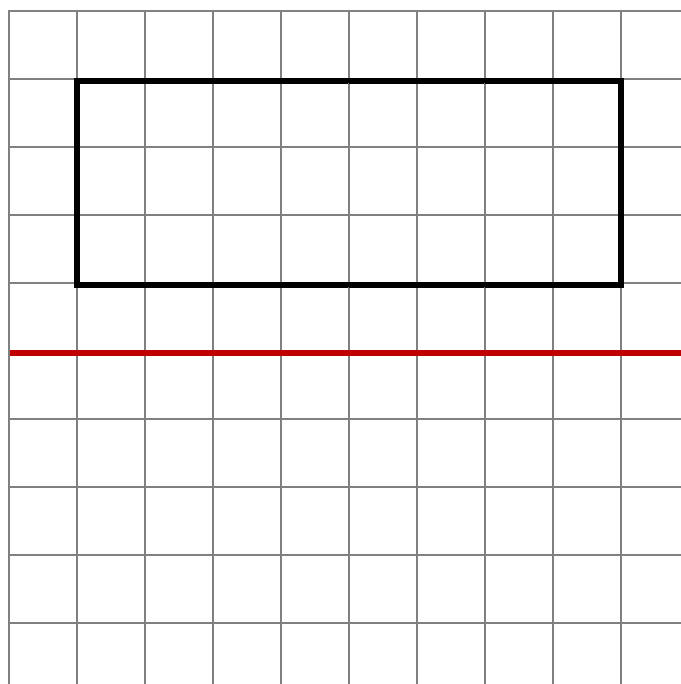
Rappel : Deux figures sont **symétriques** si elles se **superposent** parfaitement lorsque je plie le long de l'**axe de symétrie**. C'est comme si je regarde dans un miroir.

Une figure peut avoir **0, 1** ou **plusieurs axes de symétrie**.

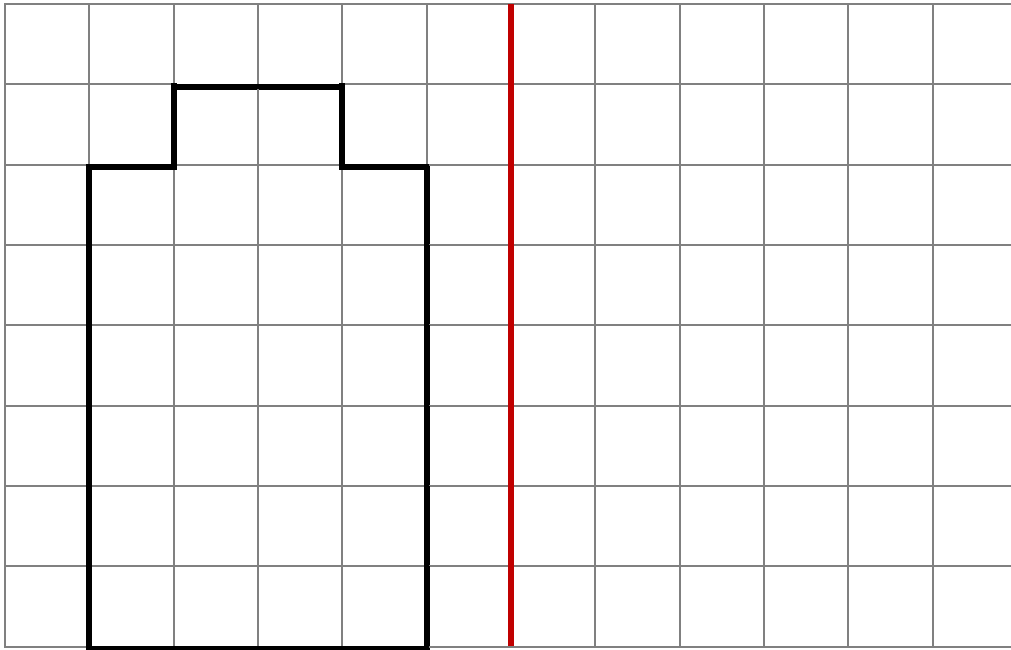


Exercice : Pour les deux figures suivantes, trace au crayon de papier et avec ta règle la figure symétrique par rapport à l'axe rouge.

1



2



FACULTATIF : Si travail fini en classe

Complète le dallage comme le modèle :

