

P3 Je révise

1 Écris les nombres en chiffres.

..... huit-cents

..... trois-cent-soixante-douze

..... neuf-cent-quatre

..... six-cent-quatre-vingts

2 Écris les nombres en lettres.

930

412

705

800

3 Calcule.

$800 + 1 =$

$500 + 80 + 4 =$

$700 + 50 + 6 =$

$8 + 40 + 600 =$

$70 + 400 =$

4 Calcule.

$(4 \times 100) + (7 \times 1) =$

$(6 \times 100) + (2 \times 10) + (4 \times 1) =$

$(5 \times 10) + (8 \times 1) + (9 \times 100) =$

$(9 \times 10) + (5 \times 100) =$

$(6 \times 1) + (2 \times 100) + (1 \times 10) =$

5 Complète avec < ou >.

758 857

514 520

910 904

580 850

470 469

$400 + 60 + 3$ $200 + 90 + 8$

$800 + 70 + 9$ $900 + 80 + 7$

$700 + 50$ $700 + 40 + 6$

$(4 \times 10) + (8 \times 100)$ $(3 \times 1) + (9 \times 100)$

$(6 \times 100) + (5 \times 1) + (4 \times 10)$ $(9 \times 10) + (6 \times 100) + (2 \times 1)$

6 Range les nombres dans l'ordre croissant.

820

500

805

498

508

280

..... < < < <

7 Complète avec le nombre qui convient.

$597 < \dots < 599$

$794 > \dots > 792$

$\dots < 950 < 951$

$898 < \dots < 900$

$701 > \dots > 699$

$\dots < 890 < 891$

Effectue les opérations. Il y a des additions et des soustractions.

8

$$\begin{array}{r} 476 \\ + 345 \\ \hline \end{array}$$

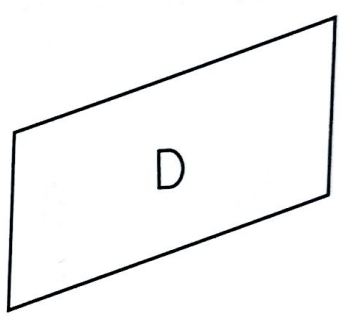

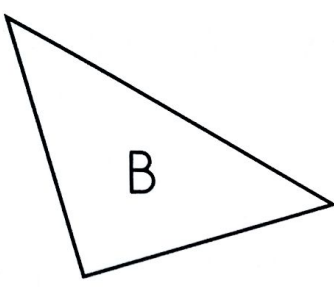
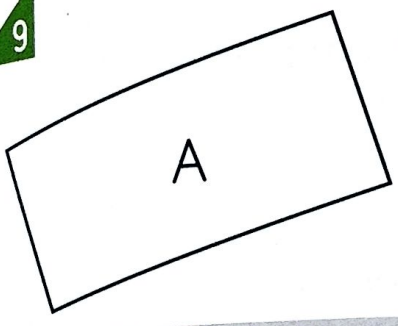
$$\begin{array}{r} 145 \\ 234 \\ + 452 \\ \hline \end{array}$$

$$\begin{array}{r} 96 \\ - 43 \\ \hline \end{array}$$

$$\begin{array}{r} 82 \\ - 46 \\ \hline \end{array}$$

De quelle figure s'agit-il?

9



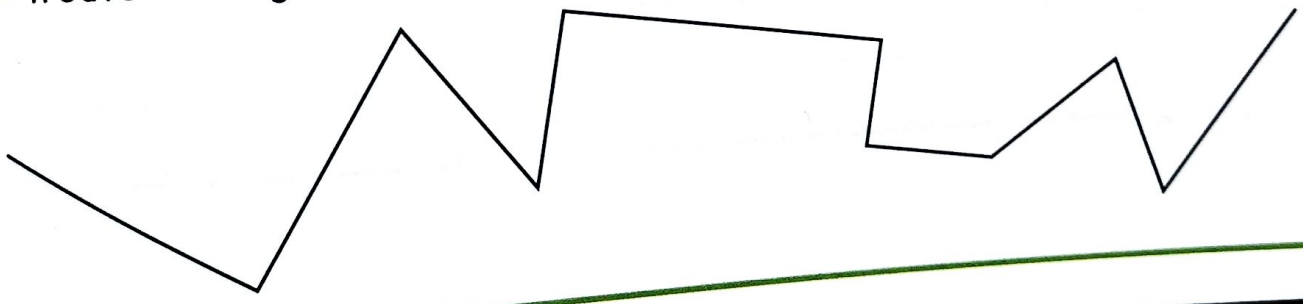
C'est une figure qui a un seul angle droit. Deux de ses côtés mesurent 3cm et un côté 4cm.
C'est la figure

C'est un rectangle dont un côté mesure 4cm et un autre côté 2cm.
C'est la figure

C'est un carré dont les côtés mesurent 3cm.
C'est la figure

Trouve les angles droits et marque-les en rouge.

10



Résous le problème dans ton cahier.

Le médecin scolaire a mesuré les élèves de CE1.

Ninon
132cm



Alice
1m27cm



Louise
1m35cm



Fatou
130cm



- Range les quatre élèves de la plus petite à la plus grande.
- Quelle est la différence de taille entre Louise et Fatou?
- Quelle est la différence de taille entre Alice et Ninon?