

1- Écrire un nombre

Écris les nombres dans lesquels tu entends 9



2- Écris le nombre en lettres.

BANQUE de l'écolier

Payez contre ce chèque

€uros

356 €

Payable en France

Banque de l'écolier

75 020 PARIS

N° de compte

M. L'appliqué

1, rue de la réussite

28120 ACQUIS

Fait à

Le

J. M. Ayudman

3- Écrire un nombre par recomposition

Écris le nombre

23 d et 2c

c'est ...



4- Comparer deux nombres // Ranger trois nombres dans l'ordre croissant/ Décroissant /

Compare



900 + 5 ... 950

5- Encadrer un nombre à l'unité, à la dizaine, à la centaine

Encadre ce nombre à la centaine.



<

627

-

40

<




6- Continue la suite des nombres (écris les trois nombres manquants en appliquant la règle) / Ajouter, soustraire deux nombres

Complète la suite des nombres




7- Compléter à la dizaine sup , à la centaine sup / Compléter à un nombre ex. $43 + \dots = 65$ ou avec retenue
 $46 + \dots = 65$

Complète




$$357 + \dots = 400$$

8- Calculer en colonne. Technique de l'addition.
Écris la valeur du singe vert et celle du gorille.



9- Donner une somme par lecture et calcul des pièces et billets en euros et en centimes d'euros.

Quelle est cette somme ? N'oublie pas l'unité !



10- Poser et calculer une addition, une soustraction (rapidement)

Pose et calcule.

La somme de 306, de 56 et de 132

