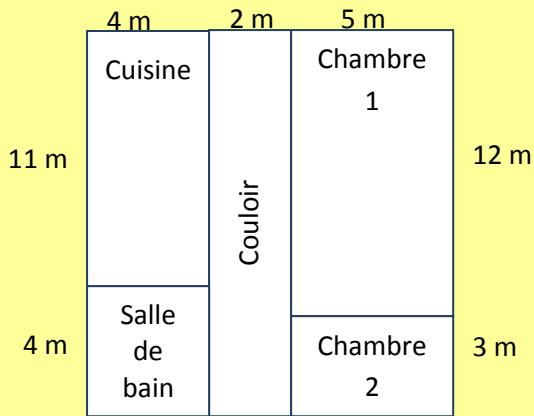


## GEOMETRIE



**Quelle est la question ?**

**Réponse :** Le périmètre de l'appartement est de 52 mètres.

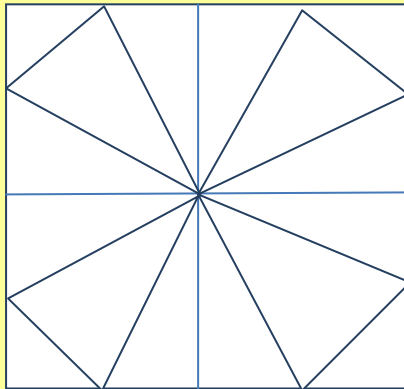
## GEOMETRIE

**Trouve la question.**



Calcule le tour de l'appartement en mètres

## GEOMETRIE



**Quelle est la question ?**

**Réponse :** Il y a 16 triangles

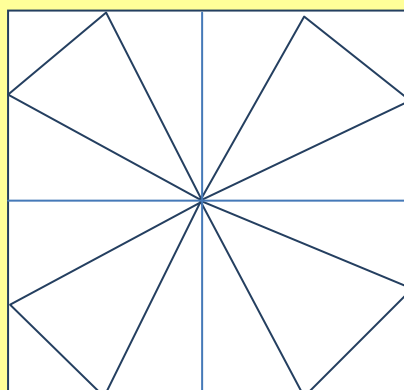
## GEOMETRIE

**Trouve la question.**



Combien y a-t-il de triangles ?

## GEOMETRIE



**Quelle est la question ?**

**Réponse :** Il y a 5 carrés

## GEOMETRIE

**Trouve la question.**



Combien y a-t-il de carrés ?

## GEOMETRIE

*Trouve la question.*



Combien y a-t-il d'axes de symétrie?

## GEOMETRIE

Dans cette figure, il y a 6 axes de symétrie.



*Quelle est la question ?*

## GEOMETRIE

*Trouve la question.*



Combien y a-t-il d'axes de symétrie?

## GEOMETRIE

Dans cette figure, il y a 4 axes de symétrie.



*Quelle est la question ?*

## GEOMETRIE

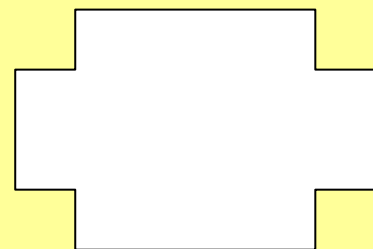
*Trouve la question.*



Combien y a-t-il d'angles droits dans cette figure ?

## GEOMETRIE

Dans cette figure, il y a 12 angles droits.



*Quelle est la question ?*