

Prénom : _____

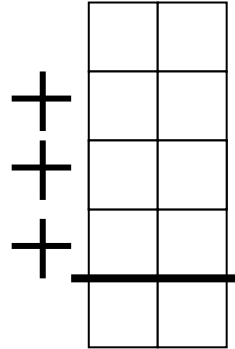
Date:

Avant de faire le calcul, dessine avec des boîtes de Picbille et des jetons les opérations.

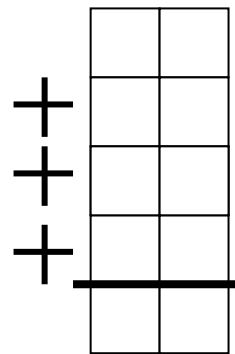
CALME

Place bien tes unités !(N'hésite pas à mettre les dizaine en orange et les unités en bleu) :

$$25 + 34 + 9 + 23$$



$$32 + 21 + 3 + 24$$



Décompose en dizaines et en unités (regarde bien le modèle !) :

17 = 10 + 7

36 = _____

52 = _____

38 = _____

16 = _____

45 = _____

Associe pour écrire en lettres :

68

dix-huit

treize

93

soixante

huit

trois

87

quatre-vingt

onze

71

sept

dix-sept

un

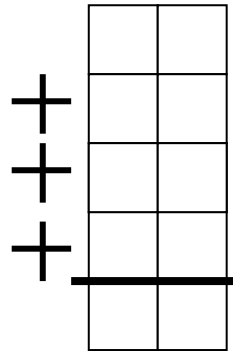
Prénom : _____

Date: _____

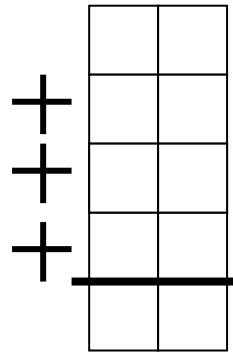
Place bien tes unités:

CALME

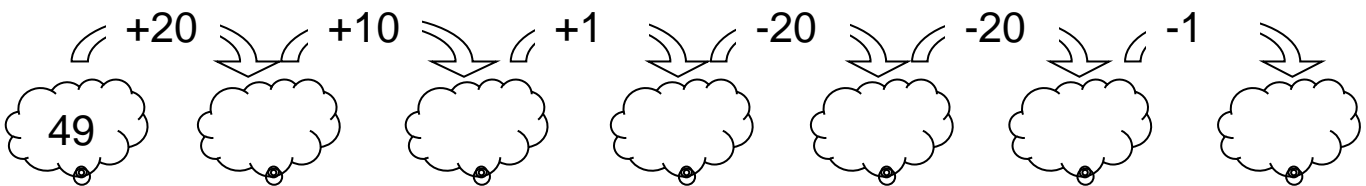
$$15 + 25 + 1 + 16$$



$$24 + 33 + 2 + 1$$



Complète les nuages : Dessine les dizaines et unités :



Calcule :

$13 - 8 = \underline{\quad}$

$14 - 5 = \underline{\quad}$

$12 - 6 = \underline{\quad}$

$18 - 9 = \underline{\quad}$

$14 - 7 = \underline{\quad}$

$16 - 10 = \underline{\quad}$

$14 - 9 = \underline{\quad}$

$12 - 3 = \underline{\quad}$