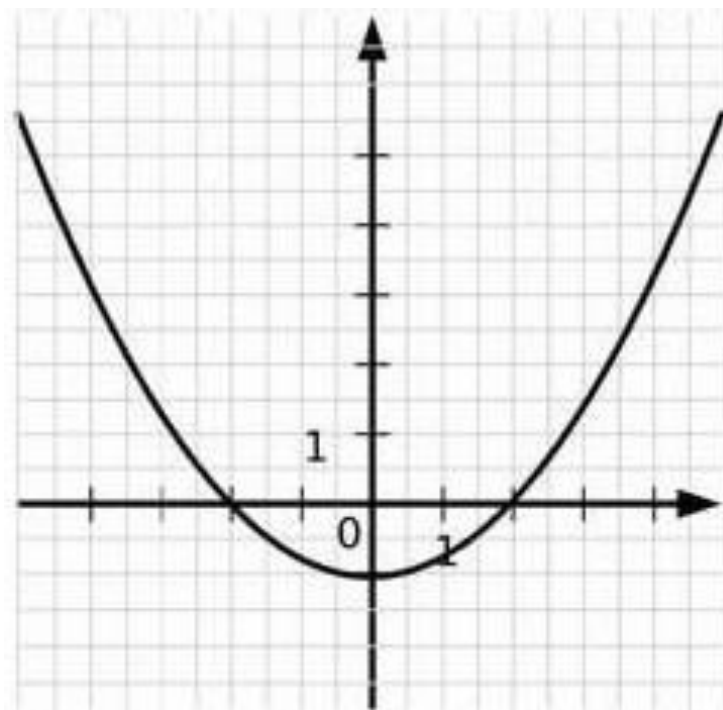


# Fonction

3

**Ce graphique représente une fonction  $h$ .**

a. Quelle est l'image de 0 par la fonction  $h$  ?

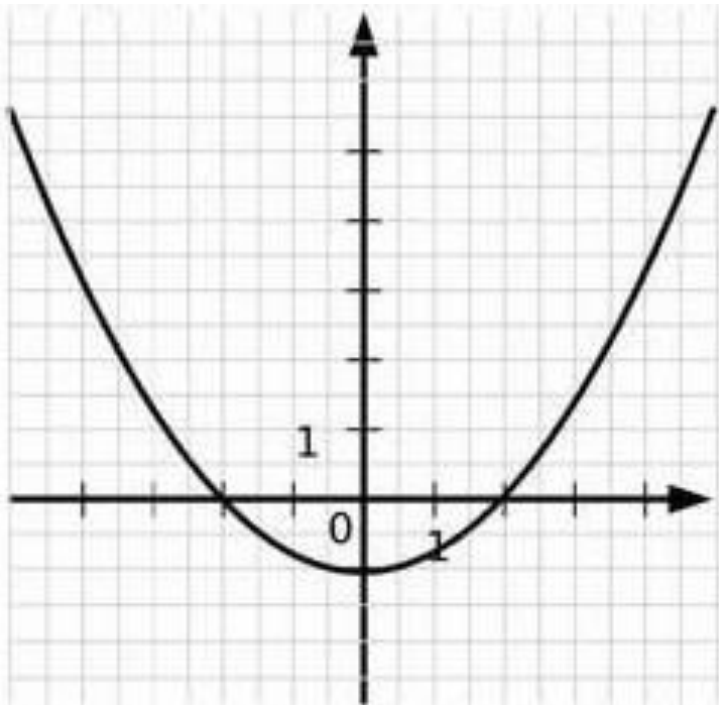


Correction :

Nous avons  $h(0) = (-1)$

**Ce graphique représente une fonction  $h$ .**

Quels nombres ont pour image 0 par la fonction  $h$  ?



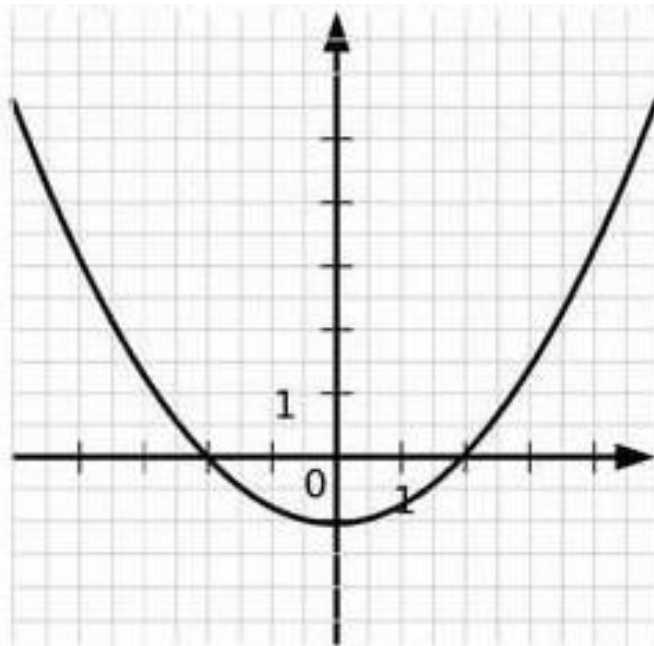
## **Correction :**

Les nombres 2 et  $-2$  ont pour image 0 par la fonction  $f$ .

**Ce graphique représente une fonction  $h$ .**

Donner une valeur approchée de :

- l'image de 4 par la fonction  $h$ .
- l'image de  $-3$  par la fonction  $h$ .



# Correction :

$$H(4) = 3,5$$

$$\text{et } h(-3) = 1,2$$