

Trois

J'écris :

3 _____

Je dessine :

1 ○	3 △	0 □	2 ↗	3 ⊕

3 dans chaque case :

--	--	--	--

Payer 3 €

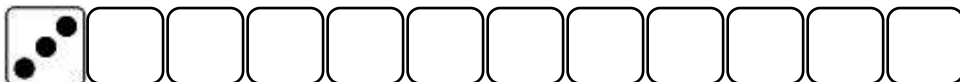
Entoure des sommes de 3 € :



Calcule avec ton matériel :


$1 + 1 = \underline{\quad}$	$1 + 2 = \underline{\quad}$	$3 + 0 = \underline{\quad}$	$3 - 3 = \underline{\quad}$
$2 + 1 = \underline{\quad}$	$3 - 2 = \underline{\quad}$	$2 - 2 = \underline{\quad}$	$3 - 1 = \underline{\quad}$

Dessine les points du dé :

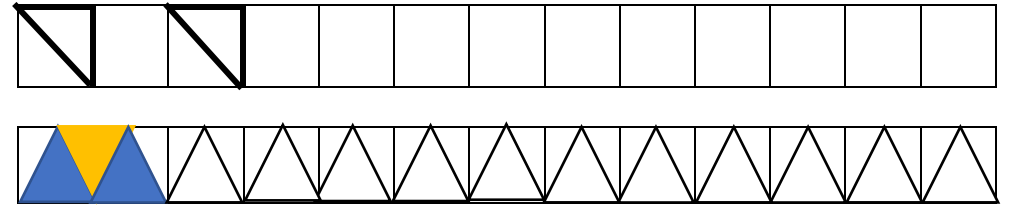


Triangles

Je relie les points selon la couleur – Je colorie les triangles :



Frises :



Quatre

J'écris :

4 _____

J'écris le nombre d'euros :

$\underline{\quad}$	$\underline{\quad}$	$\underline{\quad}$	$\underline{\quad}$

