

ATELIER MATHÉMATIQUES

LA BATAILLE DE L'HEURE 1

INFORMATION : TU VAS APPRENDRE À LIRE L'HEURE.

Le but est de gagner le plus de carte heure. Pour cela il faut savoir lire l'heure.

Consigne : à tour de rôle tire une carte heure, si tu peux lire l'heure tu gagnes la carte, sinon passe ton tour.

J'ai gagné _____ carte heure sur _____ jouées.

 <http://ouestmoncrayon.eklablog.com> 

ATELIER MATHÉMATIQUES

LA BATAILLE DE L'HEURE 2

INFORMATION : TU VAS APPRENDRE À LIRE ET ÉCRIRE L'HEURE.

Le but est de gagner le plus de carte heure. Pour cela il faut savoir lire l'heure et écrire l'heure.

Consigne : à tour de rôle tire une carte heure, si tu peux lire et écrire l'heure sur ton horloge, tu gagnes la carte, sinon passe ton tour.

J'ai gagné _____ carte heure sur _____ jouées.

 <http://ouestmoncrayon.eklablog.com> 

ATELIER MATHÉMATIQUES

LA BATAILLE DE L'HEURE

INFORMATION : TU VAS APPRENDRE À LIRE L'HEURE.

Le but est de gagner le plus de carte heure. Pour cela il faut savoir lire l'heure.

Consigne : à tour de rôle tire une carte heure, si tu peux lire l'heure tu gagnes la carte, sinon passe ton tour.

J'ai gagné _____ carte heure sur _____ jouées.

 <http://ouestmoncrayon.eklablog.com> 

ATELIER MATHÉMATIQUES

LA BATAILLE DE L'HEURE 2

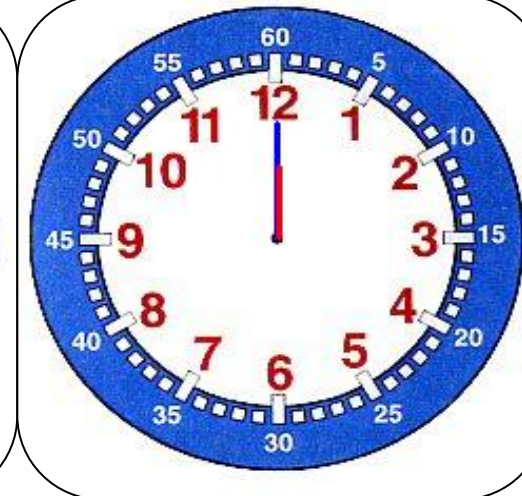
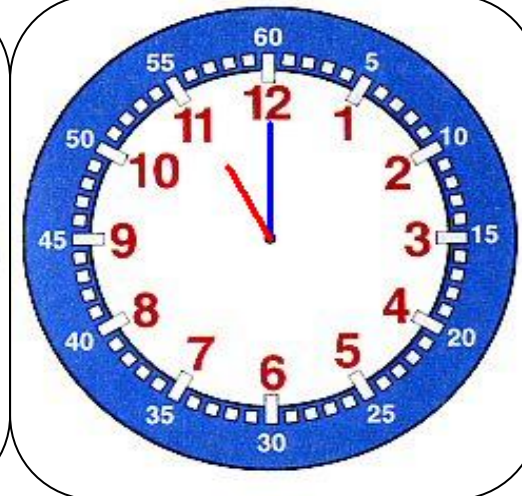
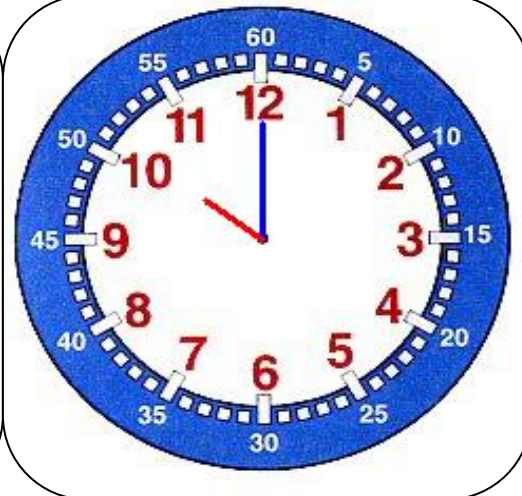
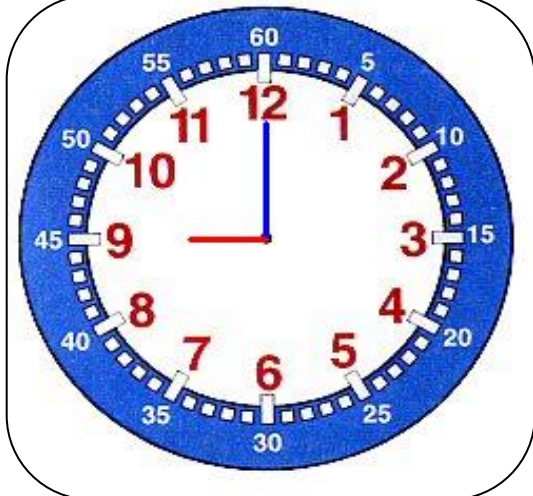
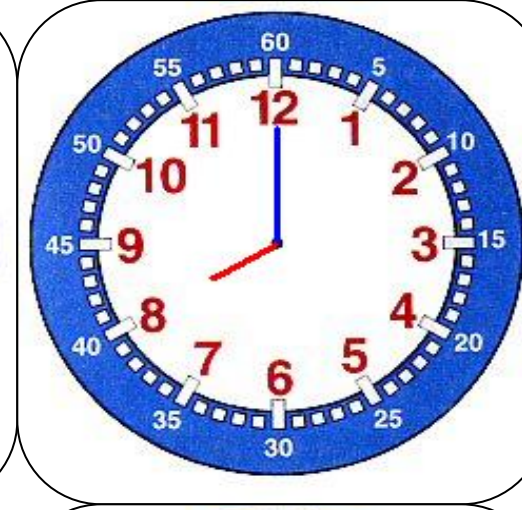
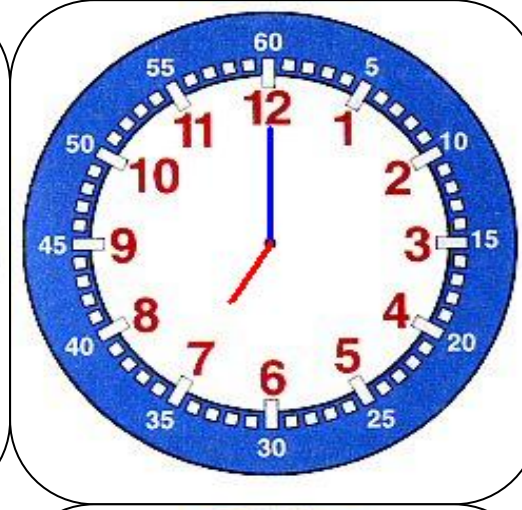
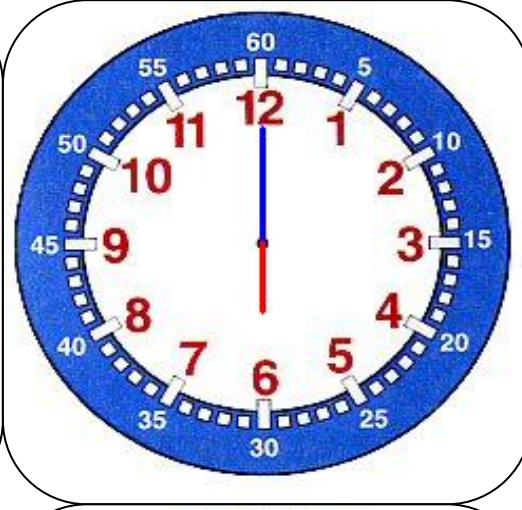
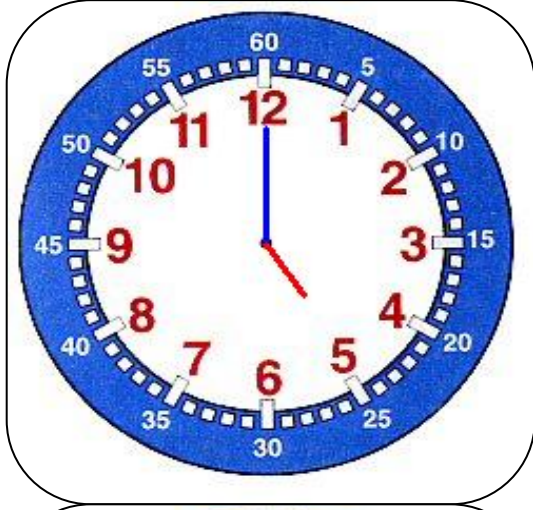
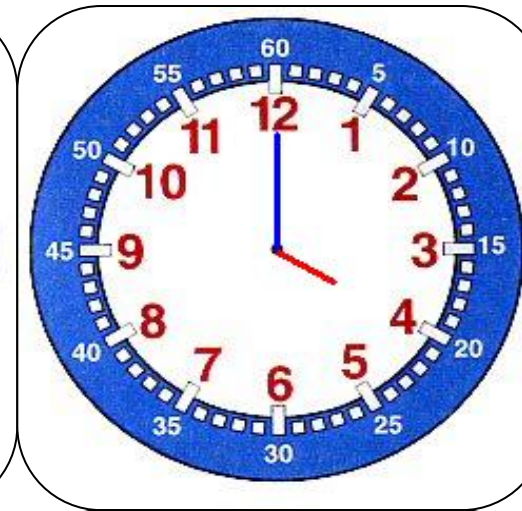
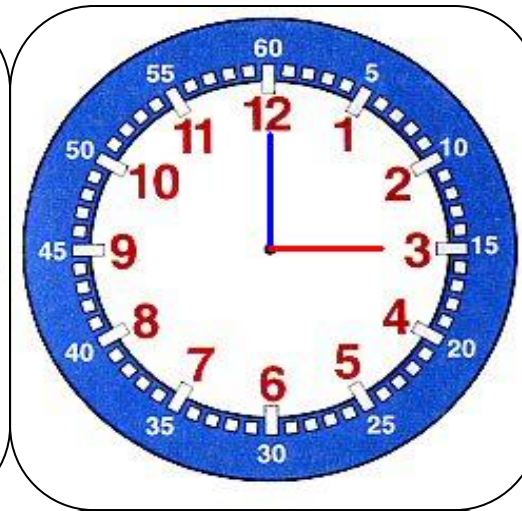
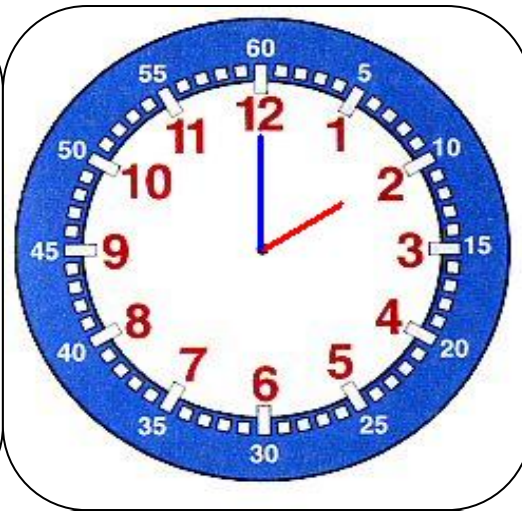
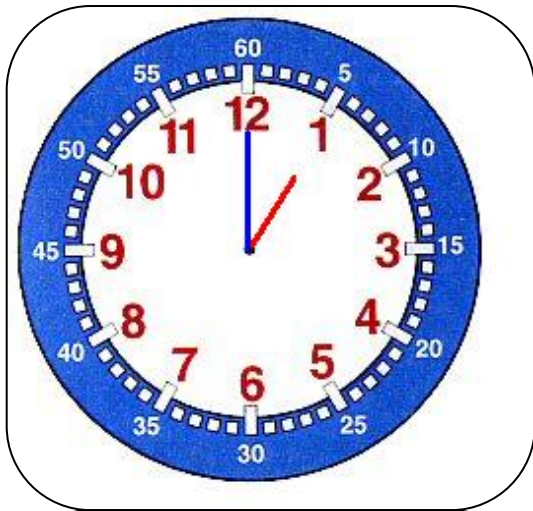
INFORMATION : TU VAS APPRENDRE À LIRE ET ÉCRIRE L'HEURE.

Le but est de gagner le plus de carte heure. Pour cela il faut savoir lire l'heure et écrire l'heure.

Consigne : à tour de rôle tire une carte heure, si tu peux lire et écrire l'heure sur ton horloge tu gagnes la carte, sinon passe ton tour.

J'ai gagné _____ carte heure sur _____ jouées.

 <http://ouestmoncrayon.eklablog.com> 



4 h 00

3 h 00

2 h 00

1 h 00

8 h 00

7 h 00

6 h 00

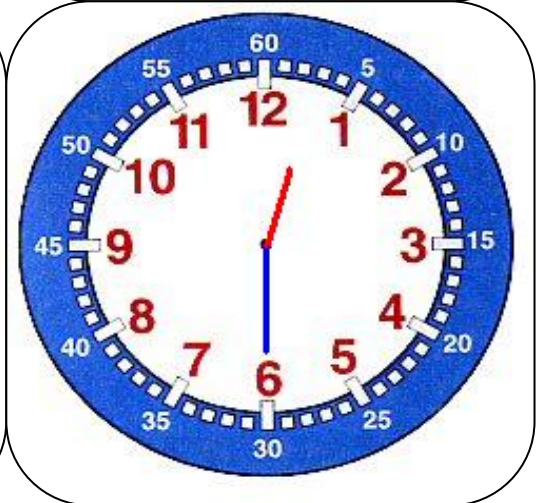
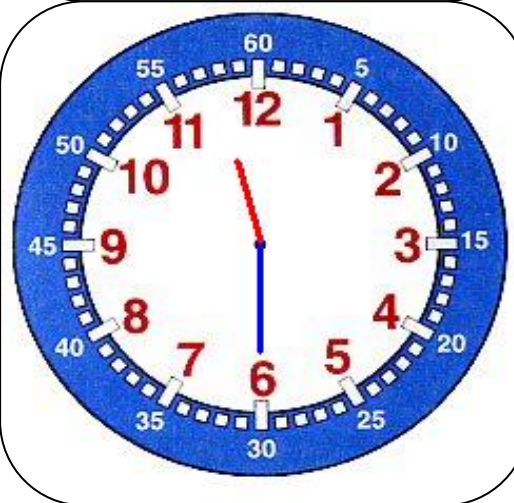
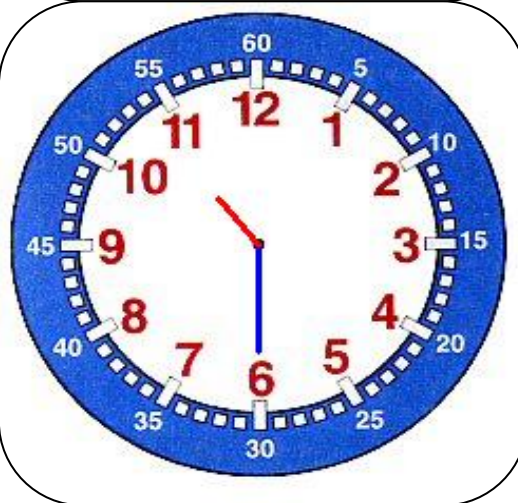
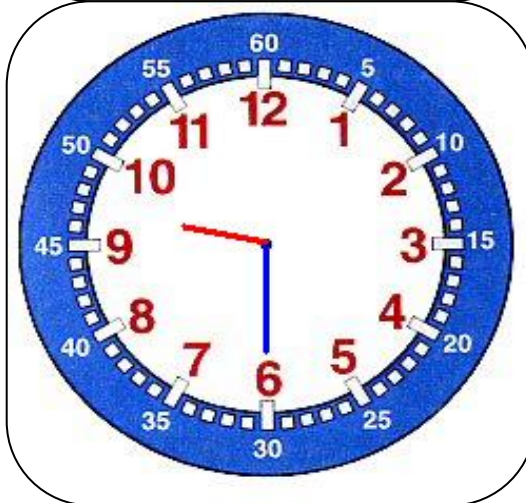
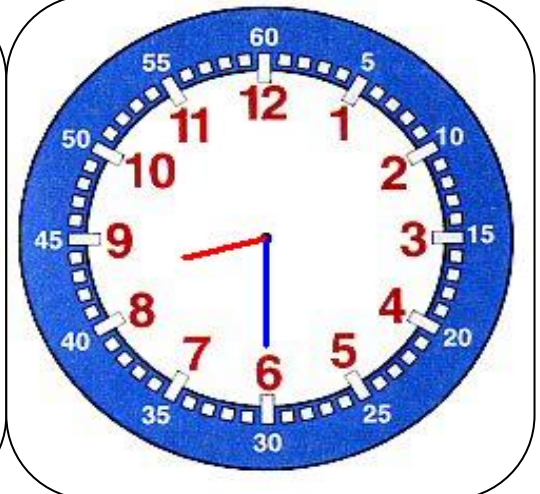
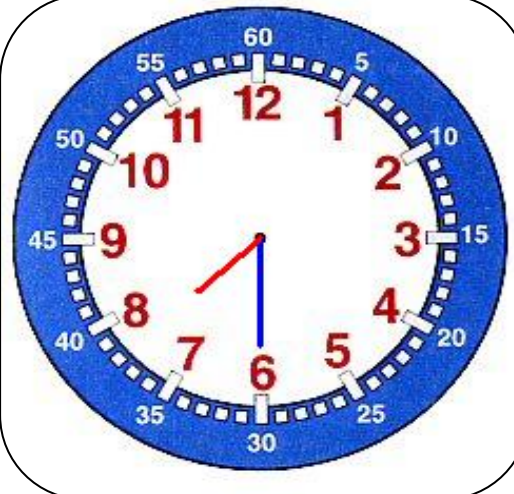
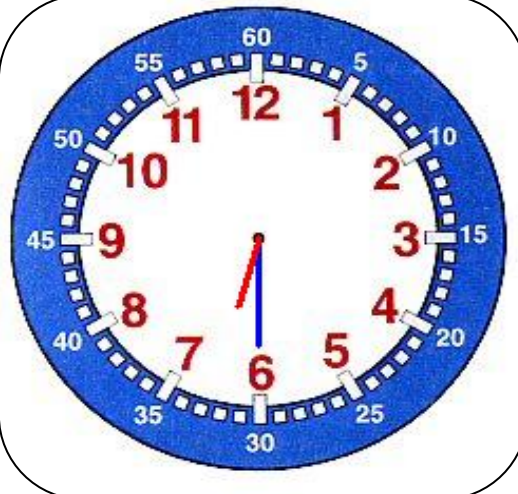
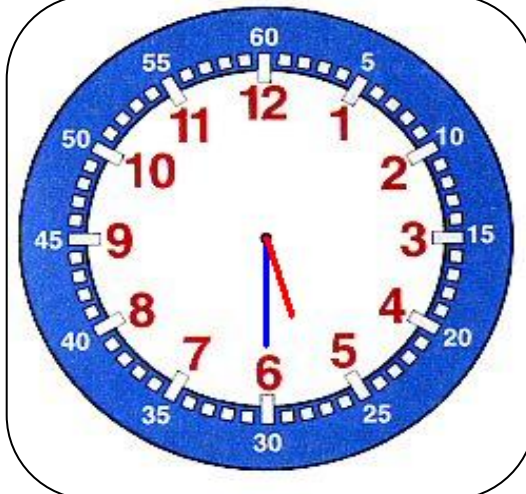
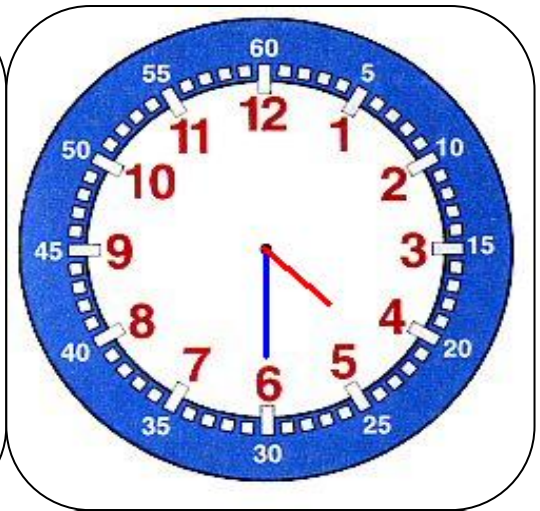
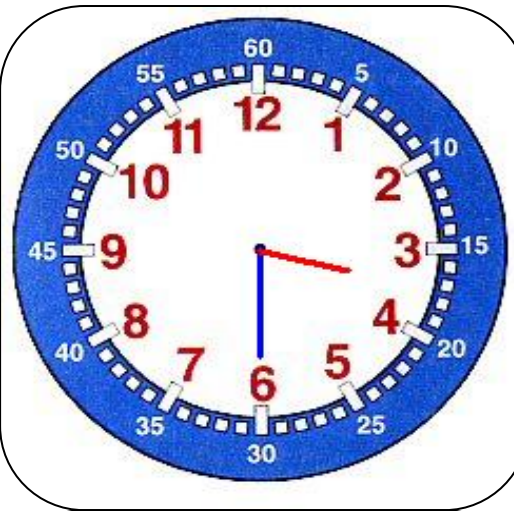
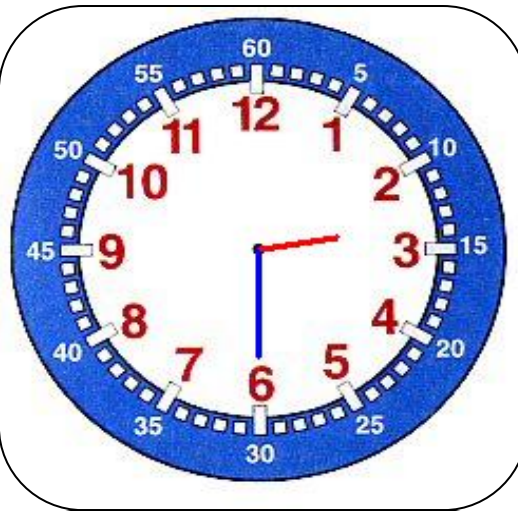
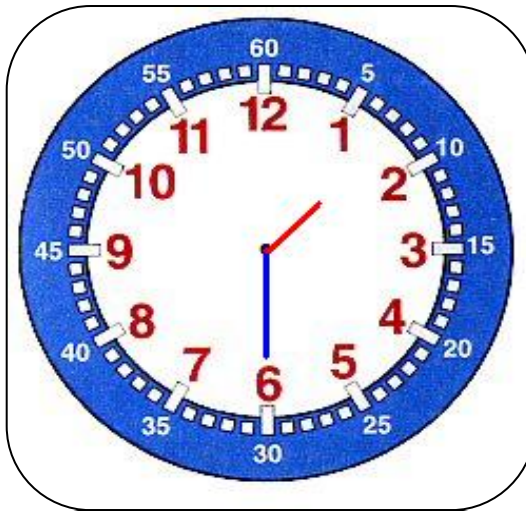
5 h 00

12 h 00

11 h 00

10 h 00

9 h 00



4 h 30

3 h 30

2 h 30

1 h 30

8 h 30

7 h 30

6 h 30

5 h 30

12 h 30

11 h 30

10 h 30

9 h 30

Monsieur
Martin a
rendez-vous à
7h00 chez le
dentiste.

Madame Martin
a rendez-vous
à **8h00** chez le
dentiste.

Monsieur Paul
a rendez-vous
à **7 h30** chez
Madame
Michelle.

Madame
Michelle a
rendez-vous à
8h30 avec
Madame Bidon.

Monsieur
Martin a
rendez-vous à
9h00 avec
Monsieur Paul.

Madame Martin
a rendez-vous
à **10h00** avec
Madame
Michelle.

Monsieur Paul
a rendez-vous
à **9 h30** chez
son garagiste.

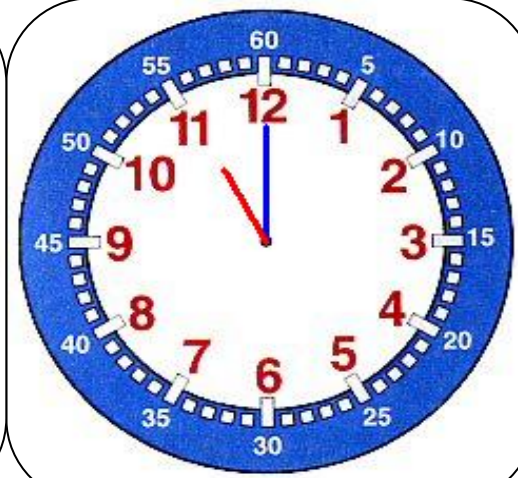
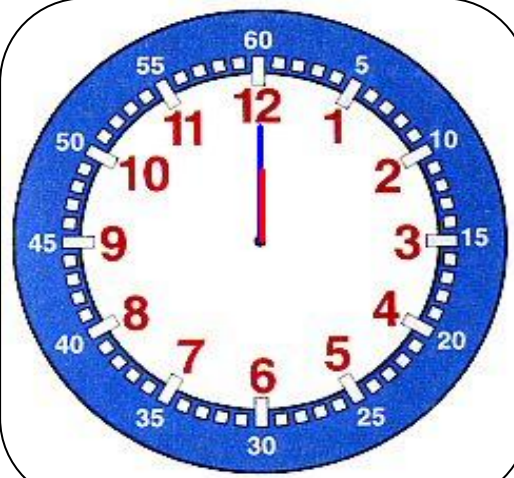
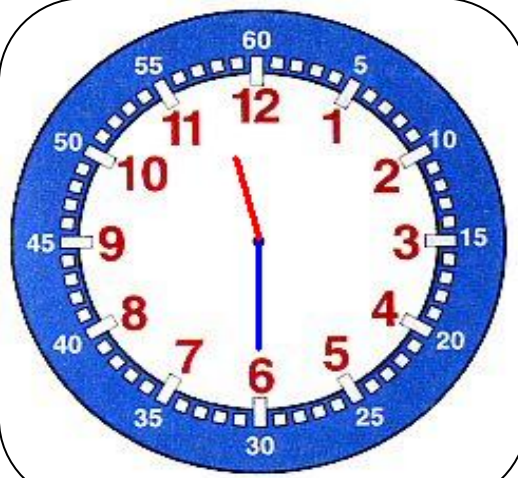
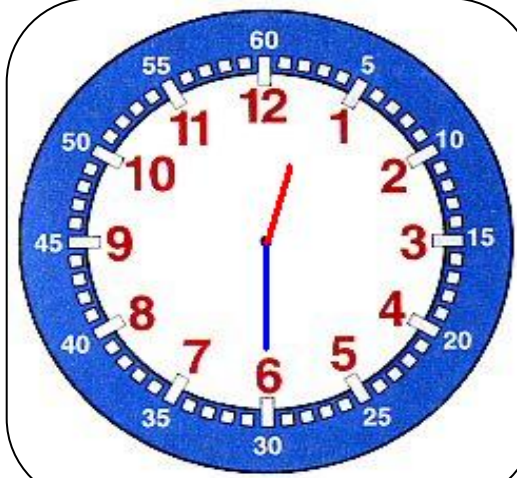
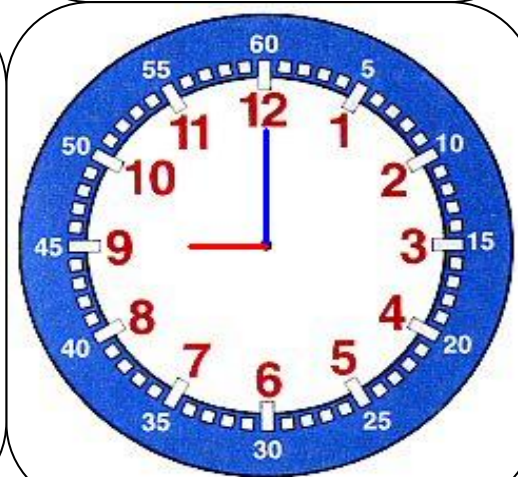
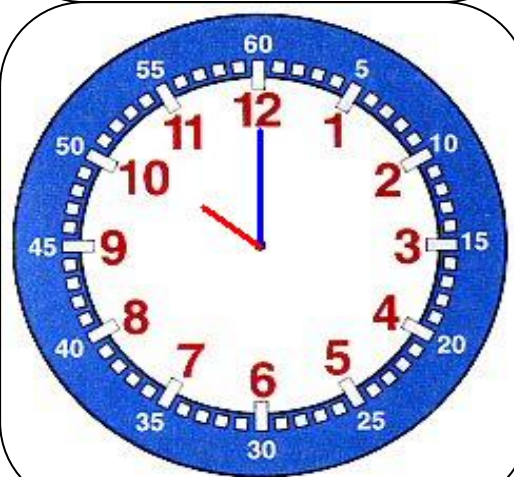
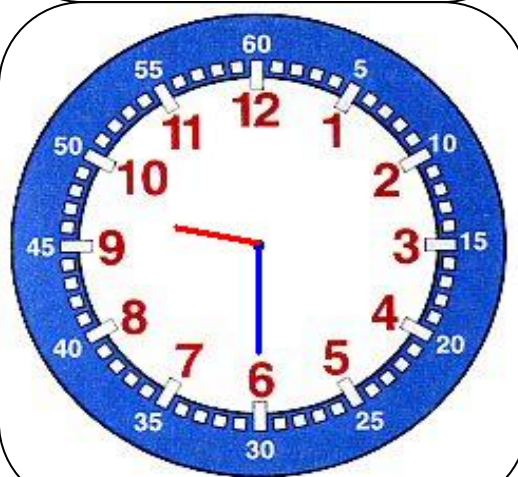
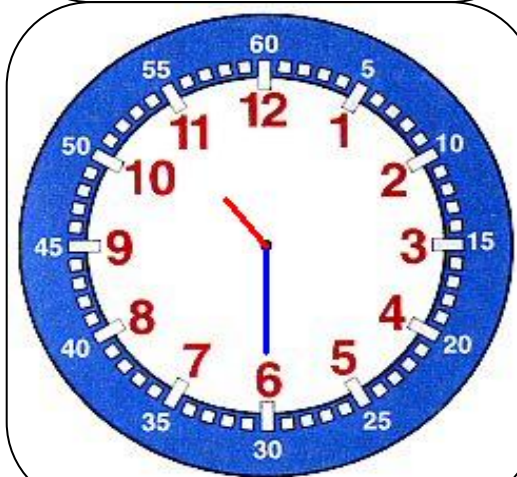
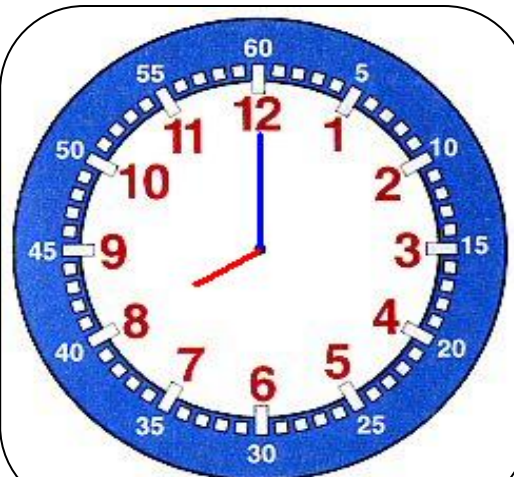
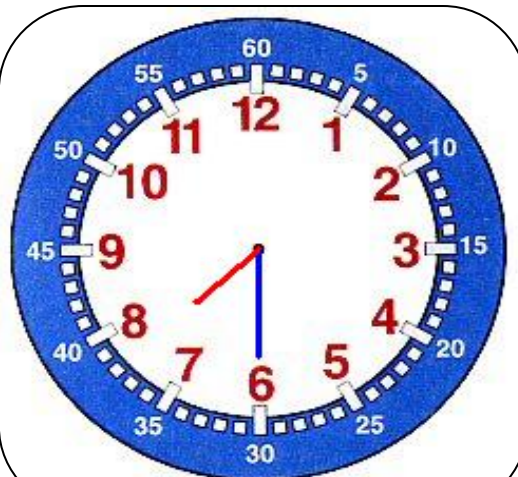
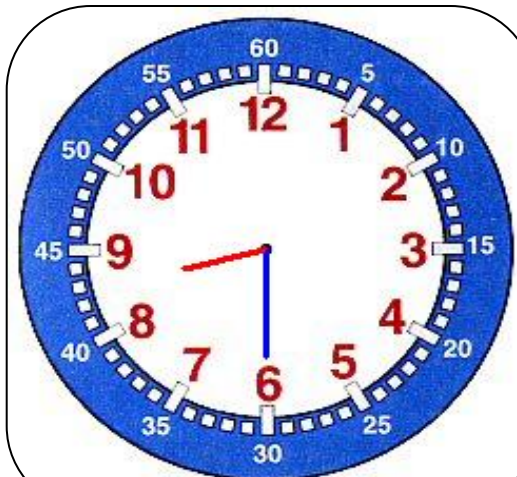
Madame
Michelle a
rendez-vous à
10h30 chez le
coiffeur.

Monsieur Henri
a rendez-vous
à **11 h00** chez
le médecin.

Madame Gentil
a rendez-vous
à **12h00** au
restaurant avec
M. Henri.

Monsieur Bidon
a rendez-vous
à **11 h30** chez
sa mère.

Madame Henri
a rendez-vous
à **12h30** avec
Madame
Graindorge.



Monsieur Nuit a rendez-vous à **1h00** Madame Nuit.

Madame Dodo était dans son lit à **2h00** du matin.

Monsieur Dodo était dans son lit à **1 h30** du matin.

Madame Debout s'est réveillée à **2h30** du matin.

Monsieur Debout s'est réveillé à **3h00** du matin.

Madame Nuit s'est couchée à **4 h00** du matin.

Monsieur Livre a rendez-vous à **13 h30** (1h30 de l'après-midi) à la bibliothèque.

Madame Dodo s'est réveillée à **14h30** (2h30 de l'après-midi).

Monsieur Gentil a rendez-vous à **15 h00** (3h00 de l'après-midi) chez le médecin.

Madame Argent a rendez-vous à **16h00** (4h00 de l'après-midi) chez son banquier

Monsieur Henri a rendez-vous à **15 h30** (3h30 de l'après-midi) chez sa tante.

Madame Nuit avait rendez-vous à **16h30** (4h30 de l'après-midi) avec Madame Graindorge mais elle ne s'est pas

