

Prénom : _____


Date : _____

Découvrir les nombres : Retrouver les décompositions des nombres inférieurs à 10. Comparer des quantités.

Complète chaque armoire avec le bon nombre de chapeaux ronds pour obtenir le total souhaité, puis complète les calculs. Entoure l'armoire qui a le plus de chapeaux.




..... + =




..... + =




..... + =



..... + =




..... + =



..... + =



..... + =



..... + =

