


GRANDEURS et MESURES

Résous le problème


Un citron pèse 50 grammes.



Combien pèsent 4 citrons ?

GRANDEURS et MESURES

Trouve la réponse.

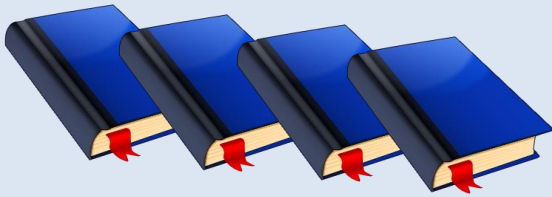


$$50 + 50 + 50 + 50 = 200 \text{ g}$$

GRANDEURS et MESURES

Résous le problème


Un livre pèse 100 grammes.



Combien pèsent 4 livres ?

GRANDEURS et MESURES

Trouve la réponse.



$$400 \text{ g}$$

GRANDEURS et MESURES

Résous le problème


Une mouche pèse 5 grammes.



Combien pèsent 4 mouches ?

GRANDEURS et MESURES

Trouve la réponse.



$$5 + 5 + 5 + 5 = 20 \text{ g}$$