

Complète

$$40 + \underline{\quad} = 100$$

Complète

$$30 + \underline{\quad} = 100$$

Complète

2	12	22				
---	----	----	--	--	--	--

Complète

0	2	4	6			

Calcule

$$40 + 24 = ?$$

Complète

$$23 + 41 = ?$$

Complète

7	17	27				
---	----	----	--	--	--	--

Complète

1	3	5	7			

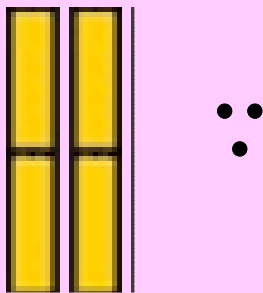
Calcule

$$10 + 10 + 10 + 3 + 10 + 10 = ?$$


Calcule

$$8 + 10 + 10 + 10 = ?$$

Ecris en lettres




Ecris en lettres



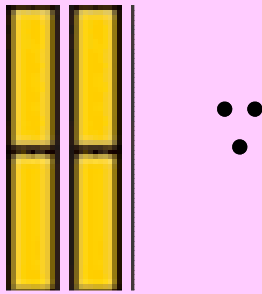
Ecris en chiffres



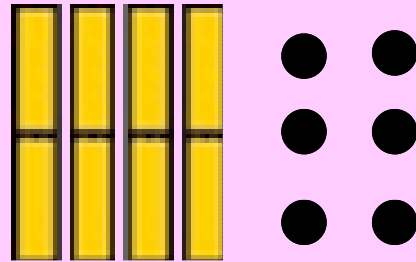
Ecris en chiffres



Ecris en lettres



Ecris en lettres



Qui-suis-je ?

Mon chiffre des unités est 0.

Mon chiffre des dizaines est 7.

Qui-suis-je ?

Je suis entre 23 et 25.

Qui-suis-je ?

Mon chiffre des unités est 4.

Mon chiffre des dizaines est 6.

Qui-suis-je ?

Je suis dans la famille des 50.

Mon chiffre des unités est 9.

Résous le problème

Theo a 13 billes. Jules en a 5 de plus que lui.

Combien de billes a Jules ?

Résous le problème

Leo a 10 billes. Il en gagne 8.

Combien a-t-il de billes en tout ?

Résous le problème

Mina a 20 images. Elle en donne 6 à Marou.

Combien lui reste-t-il d'images ?

Résous le problème

Madame Toussaint achète 2 boîtes de 6 oeufs.

Combien d'oeufs achète-t-elle ?

Dessine 38€

avec le moins de pièces
et billets possibles

Dessine 27€

avec le moins de pièces
et billets possibles

Dessine 67

avec des boites picbille

Dessine 86

avec des boites picbille

Résous le problème

Laura achète un ballon à 8€ et un sac à 12€.

Combien va-t-elle payer ?

Résous le problème

Dédé et Tom se partagent 18 images.

Combien en ont-ils chacun ?
