


N 26 Les nombres de 80 à 99



Quand on entend « quatre-vingts »,
on sait que le nombre s'écrit
avec 8 ou 9 dizaines
C'est la famille des 80 ou 90.


82

quatre-vingt-deux

80 + 2

J'entends « quatre-vingts », puis « deux ».

2 est inférieur à 10,
j'ai donc 8 dizaines et 2 unités




92

quatre-vingt-douze

80 + 12

J'entends « quatre-vingts », puis « douze ».


12 est supérieur à 10,
j'ai donc 9 dizaines et 2 unités



Je m'entraîne (avec l'aide d'un adulte)

- Dire un nombre compris entre 79 et 99 et demander à l'enfant de l'écrire sur l'ardoise.
- Ecrire un nombre en chiffre et demander à l'enfant de le nommer.
- Lui demander de préciser le nombre de dizaines et d'unités.

N 26 Les nombres de 80 à 99



Quand on entend « quatre-vingts »,
on sait que le nombre s'écrit
avec 8 ou 9 dizaines
C'est la famille des 80 ou 90.


82

quatre-vingt-deux

80 + 2

J'entends « quatre-vingts », puis « deux ».

2 est inférieur à 10,
j'ai donc 8 dizaines et 2 unités




92

quatre-vingt-douze

80 + 12

J'entends « quatre-vingts », puis « douze ».

12 est supérieur à 10,
j'ai donc 9 dizaines et 2 unités



Je m'entraîne (avec l'aide d'un adulte)

- Dire un nombre compris entre 79 et 99 et demander à l'enfant de l'écrire sur l'ardoise.
- Ecrire un nombre en chiffre et demander à l'enfant de le nommer.
- Lui demander de préciser le nombre de dizaines et d'unités.