

• Date :

--	--	--	--	--	--

• Nom :

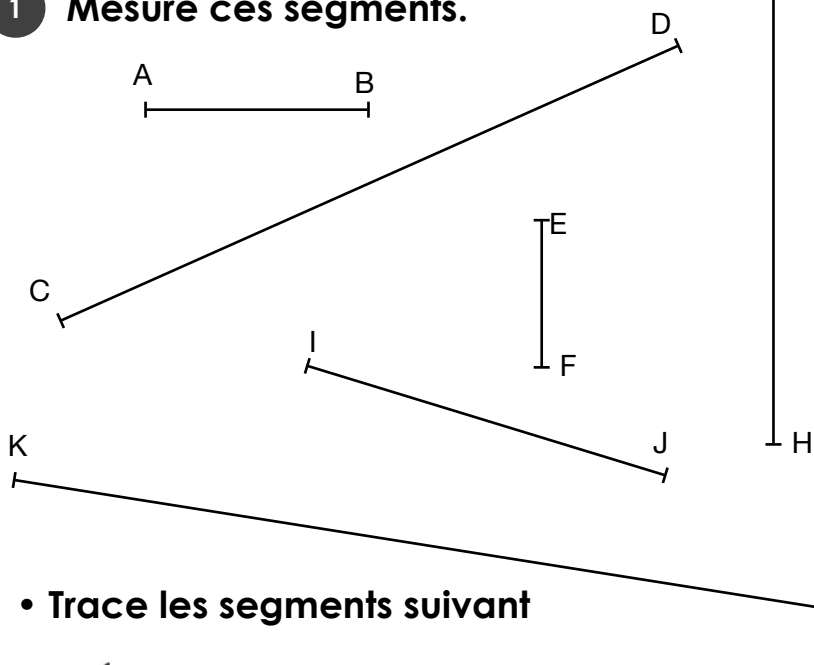
--	--	--	--	--	--

1	Je mesure en cm.	NA	ECA	PA	A
2	Je mesure en mm.	NA	ECA	PA	A
3	Je lis l'heure.	NA	ECA	PA	A
4	Je sais utiliser la monnaie	NA	ECA	PA	A

NA : Non acquis • ECA : En Cours d'Acquisition • PA : Presque Acquis • A : Acquis

LES LONGUEURS

1 Mesure ces segments.



Le segment [AB] mesure ... cm .
 Le segment [CD] mesure ... cm .
 Le segment [EF] mesure ... cm .
 Le segment [GH] mesure ... cm .
 Le segment [IJ] mesure ... cm .
 Le segment [KL] mesure ... cm .

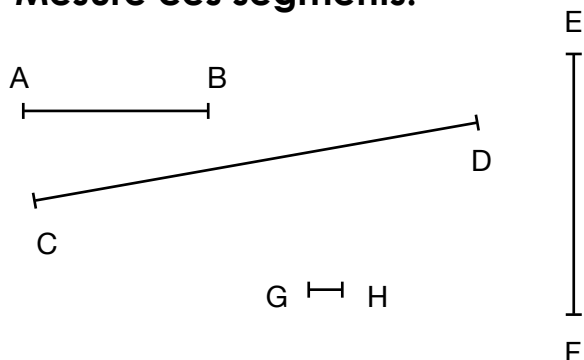
• Trace les segments suivant



Le segment [MN] mesure 9 cm . M L

Le segment [OP] mesure 2 cm . O

2 Mesure ces segments.



Le segment [AB] mesure ... mm .
 Le segment [CD] mesure ... mm .
 Le segment [EF] mesure ... mm .
 Le segment [GH] mesure ... mm .



LES DURÉES

3

Écris les heures indiqués sur ces horloges.



Il est h min.



Il est h min.



Il est h min.

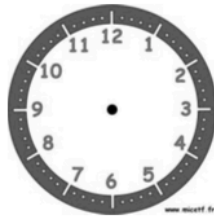


Il est h min.

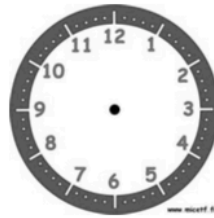
• Place les aiguilles selon l'heure indiquée.




Il est 10 h 00 min.




Il est 3 h 30 min.



Il est 1 h 00 min.



Il est 4 h 15 min.



LA MONNAIE

4

Qui a le plus d'argent Karim, Maëlle ou Amina ?



Karim aeuros.



Maëlle aeuros.



Amina aeuros.

Donc, c'est qui a le plus d'argent.

Dessine avec le moins de billets et de pièce

