

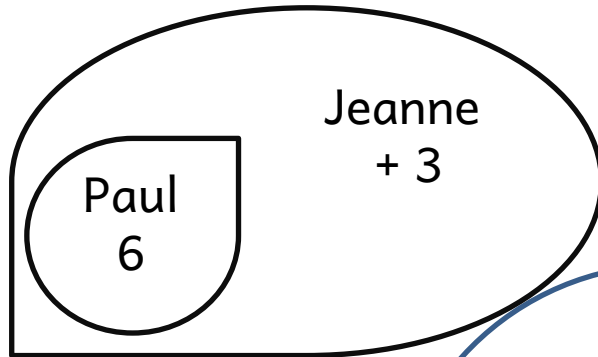
AVEC UN SCHÉMA

AVEC UN CALCUL

AVEC UN DESSIN

AVEC UN OUTIL

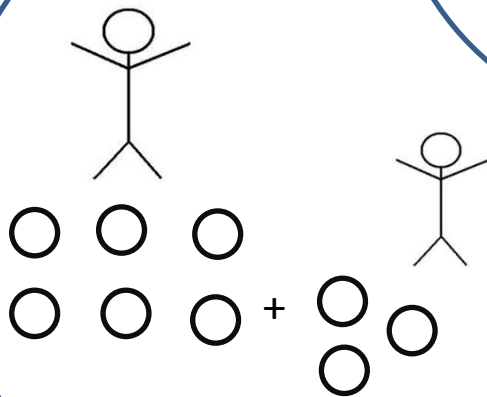
AVEC UN SCHÉMA



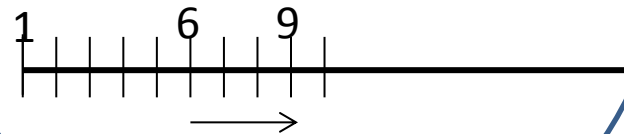
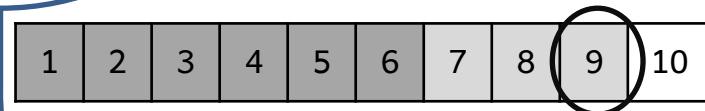
AVEC UN CALCUL

Jeanne
 $6 + 3 = 9$

Paul a 6 billes,
Jeanne a 3 billes de
plus que lui.
Combien de billes a
Jeanne ?



AVEC UN DESSIN



AVEC UN OUTIL
MATHÉMATIQUE