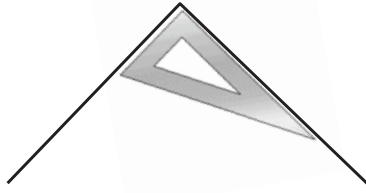
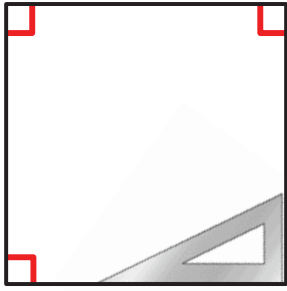



L'angle droit

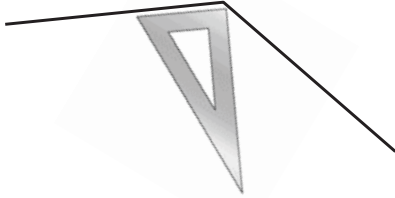
Pour vérifier si un angle est **droit**, on utilise une équerre.



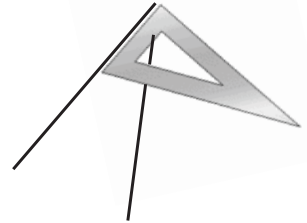
Pour indiquer qu'un angle est droit, on dessine ce petit symbole : 



Certains angles sont **plus grands** que l'angle droit :


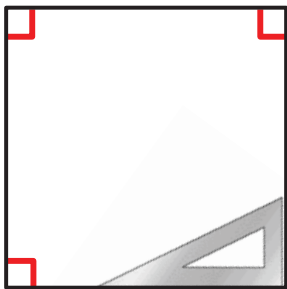



Certains angles sont **plus petits** que l'angle droit :



L'angle droit

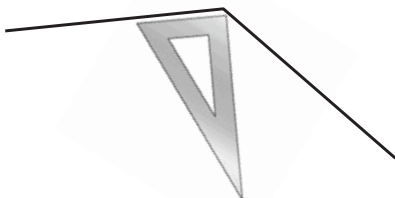
Pour vérifier si un angle est **droit**, on utilise une équerre.



Pour indiquer qu'un angle est droit, on dessine ce petit symbole : 



Certains angles sont **plus grands** que l'angle droit :



Certains angles sont **plus petits** que l'angle droit :

