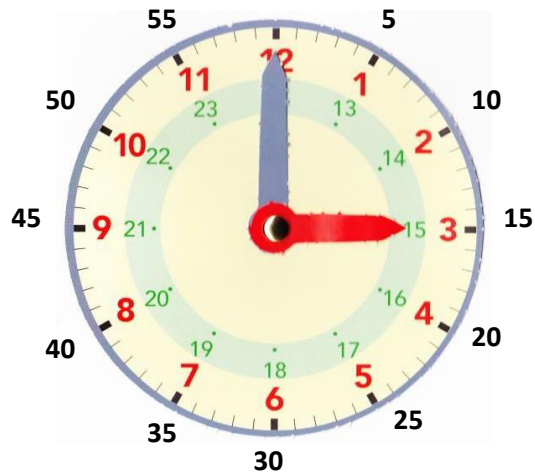


Lire l'heure

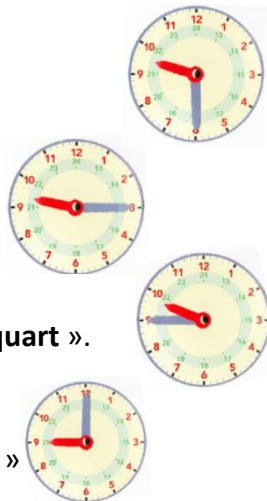
MES. _ _

1. Lire l'heure sur une montre ou horloge

- **La petite aiguille indique les heures.**
Elle fait le tour du cadran en 12 heures.
- **La grande aiguille indique les minutes.**
Elle fait le tour du cadran en 1 heure ou 60 minutes.
Pour compter les minutes, je compte de 5 en 5.



- Lorsque la grande aiguille est sur le **6** (30 minutes), on dit qu'il est « **et demi** ».
- Lorsque la grande aiguille est sur le **3** (15 minutes), on dit qu'il est « **et quart** ».
- Lorsque la grande aiguille est sur le **9** (45 minutes), on dit qu'il est « **moins le quart** ».
- Lorsque la grande aiguille est sur le **12** (60 ou 00 minutes), on dit qu'il est « **pile** ».

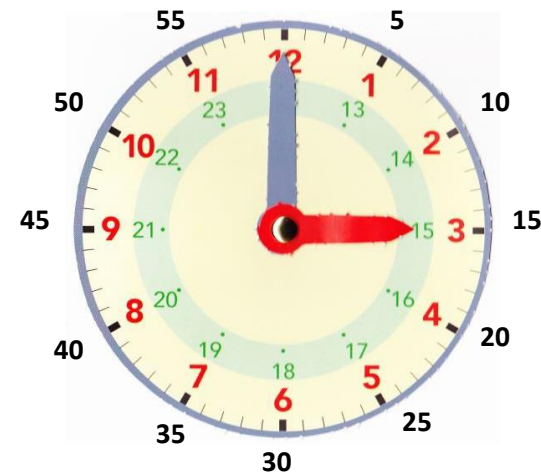


Lire l'heure

MES. _ _

1. Lire l'heure sur une montre ou horloge

- **La petite aiguille indique les heures.**
Elle fait le tour du cadran en 12 heures.
- **La grande aiguille indique les minutes.**
Elle fait le tour du cadran en 1 heure ou 60 minutes.
Pour compter les minutes, je compte de 5 en 5.



- Lorsque la grande aiguille est sur le **6** (30 minutes), on dit qu'il est « **et demi** ».
- Lorsque la grande aiguille est sur le **3** (15 minutes), on dit qu'il est « **et quart** ».
- Lorsque la grande aiguille est sur le **9** (45 minutes), on dit qu'il est « **moins le quart** ».
- Lorsque la grande aiguille est sur le **12** (60 ou 00 minutes), on dit qu'il est « **pile** ».

