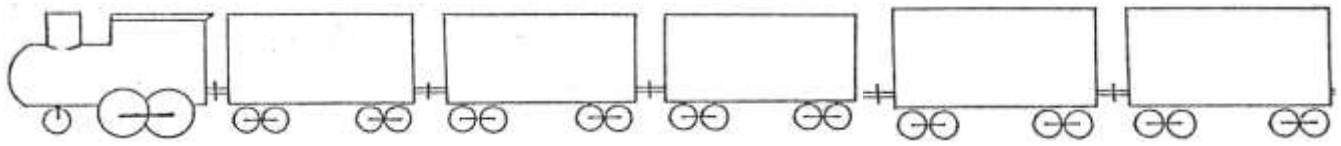




Numération : Ecris les nombres que te dicte la maîtresse dans les wagons.



Calculs

Pose les opérations et calcule.

$34 \times 2 =$	$148 + 21 =$
$732 \times 51 =$	$149 - 32 =$
$58 - 12 =$	$12 \times 3 =$
$434 - 25 =$	$159 + 23 =$

Colorie selon le code :

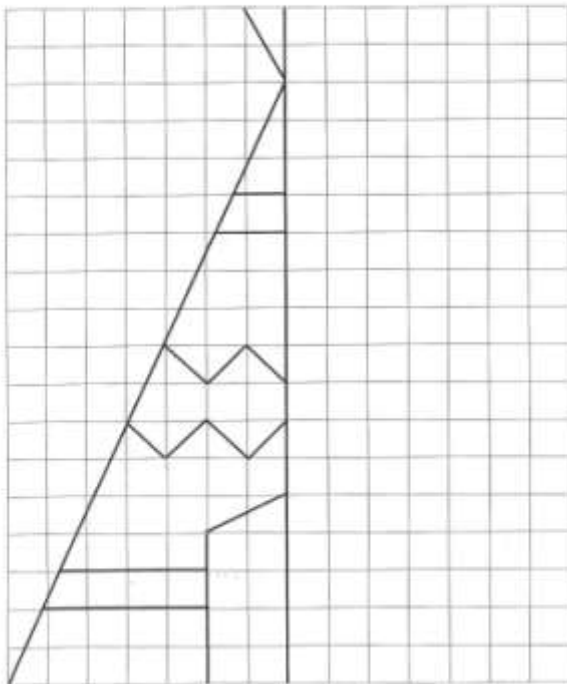
nombre < 241 : blanc
 242 < nombre < 358 : bleu
 359 < nombre < 853 : marron
 nombre > 854 : vert



Géométrie : Reproduis la maison par symétrie sur le quadrillage

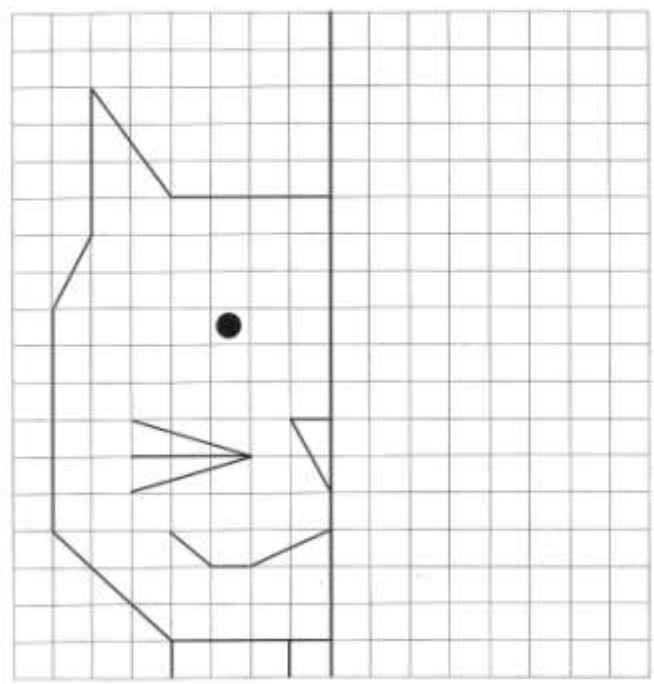
un tipi

Trace la partie manquante.



un chat

Trace la partie manquante.



Reproduis cette frise sur ton cahier puis colorie-la avec tes crayons de couleur.

