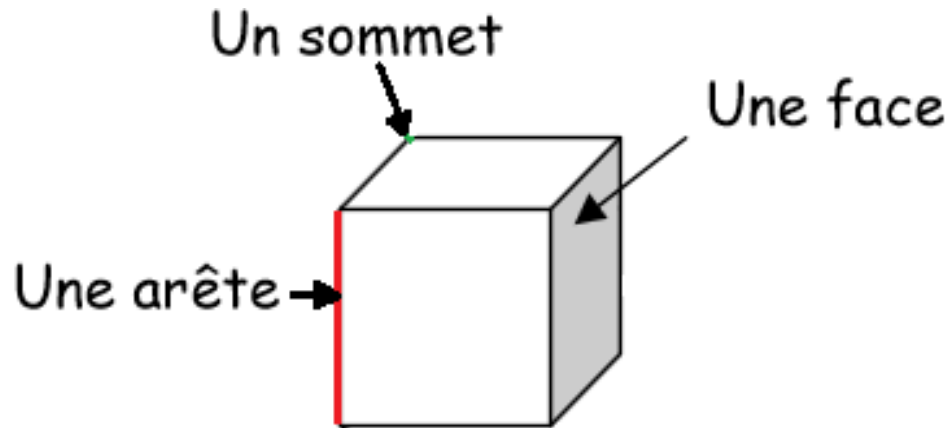


Les solides

G9

★ Les solides sont des formes géométriques en **volume** c'est-à-dire qu'ils ne sont pas plats.

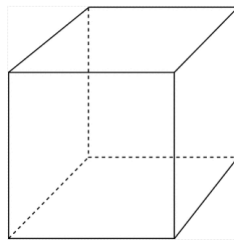


★ Le **cube** a :

- 6 faces carrées

Les faces que tu ne vois pas sont en pointillées.

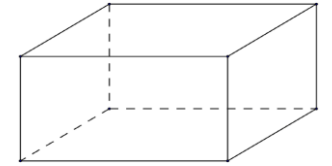
C'est la forme d'un dé pour jouer.



★ Le **pavé** a :

- 6 faces rectangulaires
(certaines peuvent parfois être carrées).

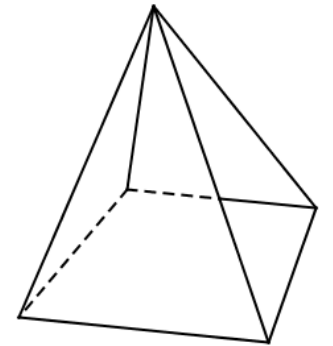
C'est la forme d'une brique de lait.



★ La **pyramide** a :

- une base rectangulaire
- 4 faces triangulaires

C'est la forme d'une pyramide dans le désert.



Tu dois savoir :

- reconnaître, nommer et décrire ces solides.