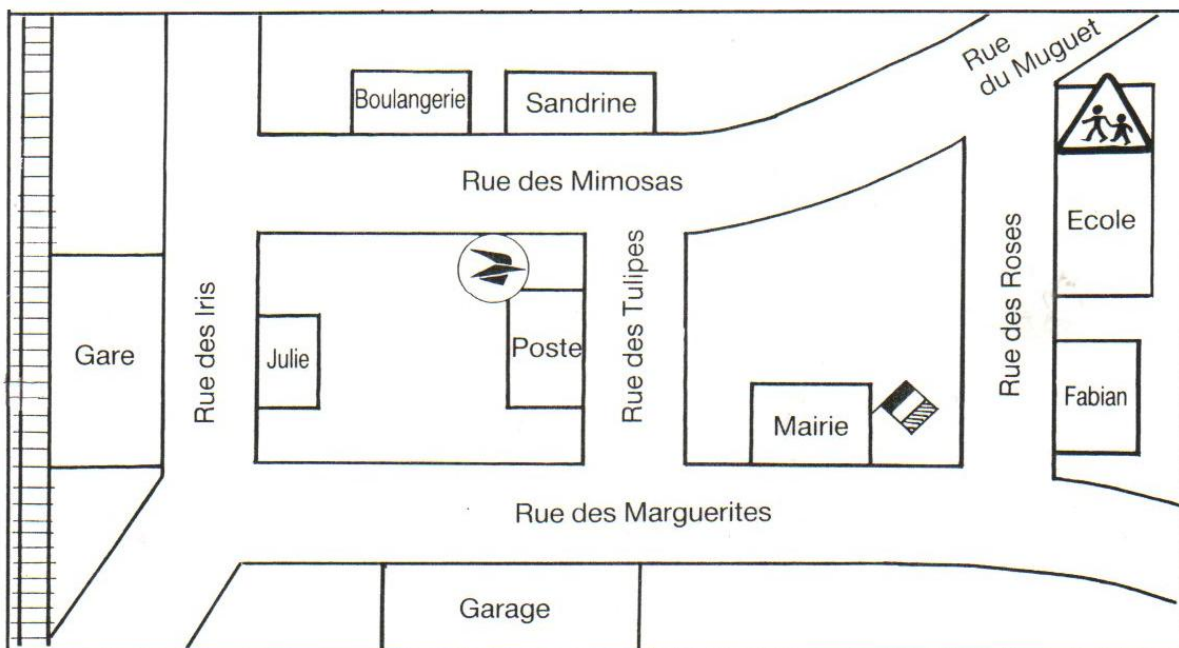


Prénom :

Date :



Le plan du quartier



1- Colorie en jaune le nom de la rue qui ne figure pas sur le plan.

RUE DES MIMOSAS	RUE DU MUGUET	RUE DES ROSES	RUE DES VIOLETTES	RUE DES TULIPES
--------------------	------------------	------------------	----------------------	--------------------

2- Complète :

La gare est rue | L'école est rue
La boulangerie est rue | La mairie est rue

3- Barre ce qui est faux :
















- Thomas habite en face de la gare
- Il y a un stade rue du Muguet
- Fabian habite près de l'école
- Sandrine habite à côté de la boulangerie
- Le garage se trouve rue des Mimosas
- Il y a un parking devant la Mairie

4- Madame Taillefine, la mère de Julie sort de la Mairie où elle travaille. Elle passe chercher sa fille à l'école, puis va à la poste retirer un colis, et rentre chez elle. Trace son itinéraire en rouge.















Des signes bien pratiques

1- Ecris le numéro qui convient :

 1	 2	<input type="checkbox"/> Pluie et vent violent. <input type="checkbox"/> Eteindre sa cigarette avant d'entrer.	 4	 5	 6
 3	 3	<input type="checkbox"/> Pique-nique autorisé mais attention au feu. <input type="checkbox"/> Parc autos avec station d'essence.	 4	 5	 6
 3	 3	<input type="checkbox"/> Chiens interdits, troupeaux. <input type="checkbox"/> Laver à 30°, ne pas repasser.	 4	 5	 6


2- En t'aidant de la suite des signes, mets les étiquettes dans l'ordre et écris l'histoire :

					
Elle téléphone,	au premier étage.	La dame monte	prend un café et redescend		
.....					
					
je sors	Il pleut,	jouer au tennis	Dès qu'il fait beau,	je reste au lit.	
.....					





Des panneaux bien utiles



1- Ecris le numéro correspondant :

- | | |
|--|--|
| <input type="checkbox"/> Cette rue est à sens interdit. | <input type="checkbox"/> La route tourne à gauche, soyons prudents. |
| <input type="checkbox"/> Défense de rouler à bicyclette sur cette route. | <input type="checkbox"/> Interdiction de stationner. |
| <input type="checkbox"/> Attention ! Des enfants peuvent sortir de l'école. | <input type="checkbox"/> Interdiction de tourner à gauche. |
| <input type="checkbox"/> Il pleut, la route est glissante et on peut dérapier. | <input type="checkbox"/> Attention, travaux ! |
| <input type="checkbox"/> Défense de doubler. | <input type="checkbox"/> La voie ferrée coupe la route. Attention au passage à niveau. |

2- Observe les panneaux et réponds :

- Les panneaux qui signifient "interdiction" ont la forme d'un
- Les panneaux qui signifient "danger" ont la forme d'un

3- Complète avec les numéros qui conviennent :

PANNEAUX "DANGER" →

PANNEAUX "INTERDICTION" →

L'affiche du cirque

Samedi
15
Juin

PLACE DE LA MAIRIE

dimanche
16
juin

matinée à 15 heures
soirée à 21 heures

LE SUPER CIRCUS

présente
Grégor et ses douze tigres

Les clowns Pipo et Riton
Mademoiselle Eva et sa cavalerie
Sonia et Emilio au trapèze volant

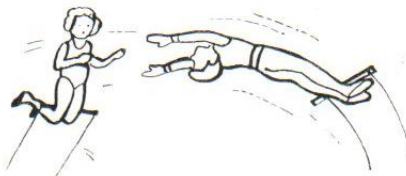

L'inoubliable Monsieur Victor, le magicien de l'an 2000
avec

LES 24 MUSICIENS DE L'ORCHESTRE
SIBÉMOL

1- Retrouve les informations utiles et complète :

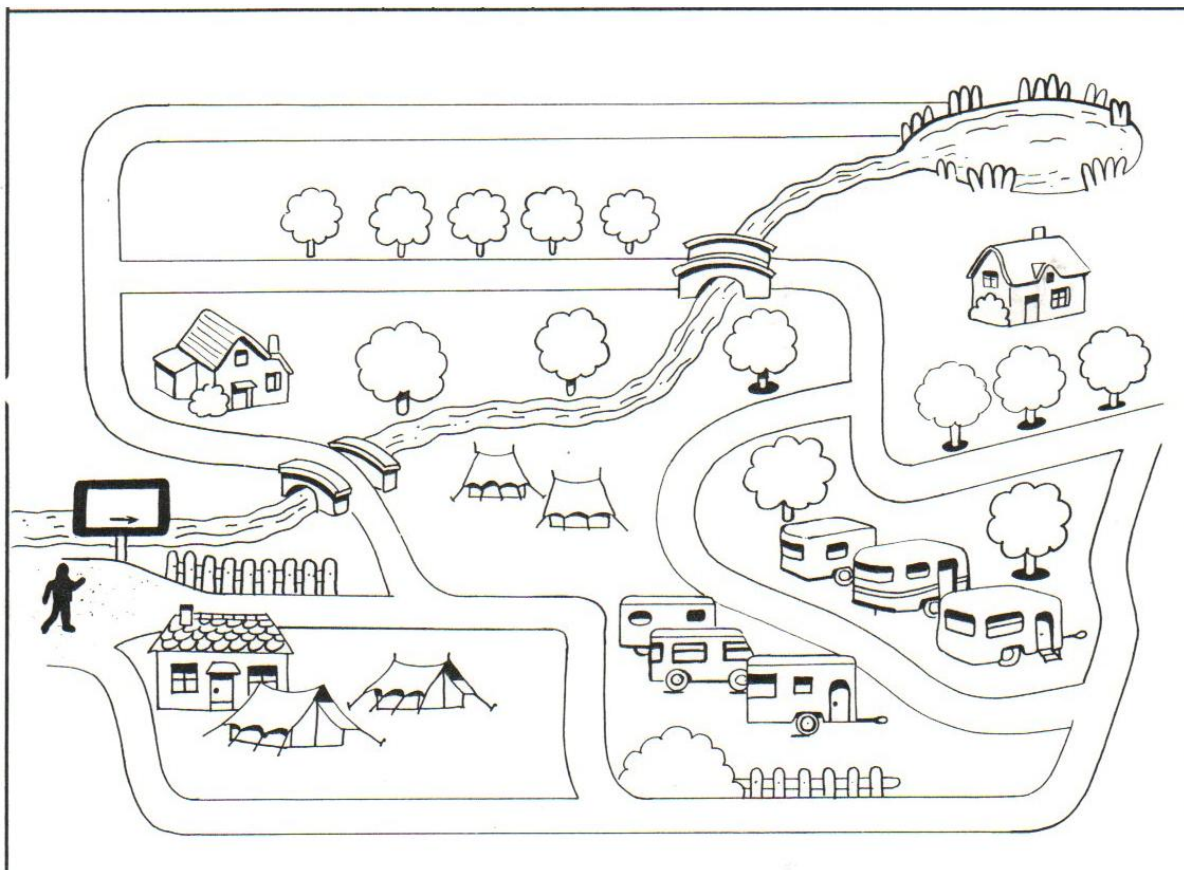
- Le cirque s'appelle :
.....
- Le cirque s'installe :
.....
- Le spectacle a lieu :
le
et le
- Les représentations commencent :
à heures et à heures
- L'orchestre compte :
..... musiciens.

2- Colorie l'artiste qui ne fait pas partie du programme. Ecris le nom des autres.





Retrouver son chemin



Florian ne retrouve plus la caravane de ses parents. A l'entrée du camping, il demande son chemin. "Ce n'est pas difficile, lui répond le gardien, tu prends le chemin en face de l'entrée, puis la première allée à gauche. Tu passes sur un petit pont, puis tu tournes à droite. Quand tu as franchi un autre pont, tu prends la première allée à droite. Tu continues, la caravane de tes parents est la troisième à gauche."

- Trace en rouge l'itinéraire que doit suivre Florian.
Colorie en jaune la caravane de ses parents.

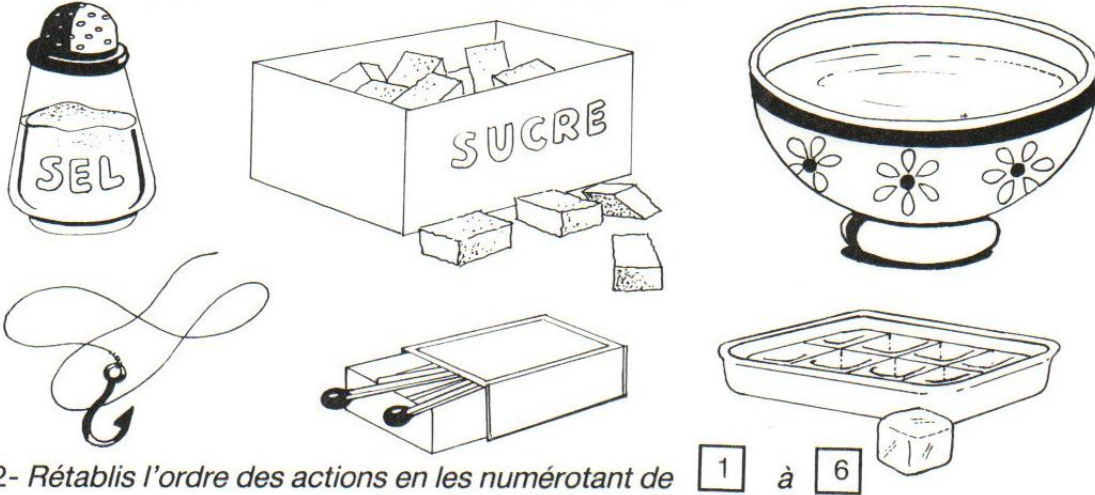
Un tour de magie

La pêche au glaçon.

Repêcher un glaçon qui flotte, avec une allumette ?

Impossible ! Mais non ! Pose l'allumette sur le glaçon. Mets un peu de sel dessus : en une seconde l'allumette est prise dans la glace. Le sel fait fondre un peu de glace, qui regèle juste après. (D'après MIKADO Magazine)

1- Colorie ce qu'il te faut pour faire cette étrange expérience :



2- Rétablis l'ordre des actions en les numérotant de 1 à 6

- Je pose une allumette sur le glaçon.
- Je mets un glaçon dans l'eau du bol.
- Je soulève l'allumette et le glaçon avec.
- L'allumette est prise dans la glace.
- 1 Je remplis un bol d'eau.
- Je mets un peu de sel sur le glaçon.

3- Peux-tu expliquer ce qui se passe ?

- Le sel fait
- L'allumette s'enfonce
- L'eau et l'allumette



Prénom :

Date :



Le menu de la cantine

MENU

Restaurant scolaire

Semaine du 10 au 15 octobre

Lundi 10	Mardi 11	Jeudi 13	Vendredi 14
Carottes rapées	Saucisson sec	Salade de tomates	Salade verte
Poulet rôti	Poisson pané	Rôti de veau	Omelette
Chou-fleur	Riz	Frites	Haricots verts
Gruyère	Yaourt	Camembert	Petit Suisse
Raisin ou poire	Glace	Ananas frais	Tarte aux pommes
Lait aromatisé	Jus d'orange	Lait aromatisé	Jus de pamplemousse

- 1- Complète :
- On mange de la viande le et le
 - On mange du poisson le
 - On mange une pâtisserie le

2- Colorie seulement les fruits servis cette semaine :



3- Cite les boissons proposées :

4- Classe les aliments :

Légumes	Viandes	Fruits	Produits laitiers
.....
.....
.....



Un jeu concours



RÈGLEMENT

Le jeu concours est ouvert à tous de 6 à 8 ans. Il suffit de renvoyer ce texte corrigé avec votre adresse.

Une seule réponse par concurrent est autorisée.

Vin gagnants seront tirés au sort chaque mois parmi les bonnes réponses.

JEU CONCOURS

10 / 10 EN ORTHOGRAPHE

Un jeu-concours créé spécialement pour les lecteurs de Litout ! Il vous suffit de découvrir les quatre fautes d'orthographe qui se sont glissées dans le règlement ci-contre.

20 gagnants seront tirés au sort. Bonne chance à tous !



LE CADEAU

DU MOIS

un stylo-montre
pour la rentrée !

1- Lis ce prospectus et réponds :

- Nom du journal qui organise le concours :
- Qui peut participer à ce jeu ?
- Nombre de gagnants :
- En quoi consiste le jeu ?
- Où doit-on chercher les fautes d'orthographe ?

2- Entoure la réponse exacte :

On peut gagner : un stylo anti-fautes un stylo-montre une montre de plongée

3- Recopie le règlement en corrigeant les 4 fautes et tu auras 10/10 :

.....
.....
.....
.....



Prénom :

Date :



Une carte postale

1- Qui a écrit cette carte postale ?

• A qui est-elle adressée ?

• Quelle photo verrait-on si on retournait cette carte postale ?

LA PLAGE DE FARO (PORTUGAL)

Chère mamie,
 Je m'amuse bien en vacances.
 Je nage tous les jours dans
 la mer. J'ai fait un très
 beau chateau fort de sable.
 Demain, avec papa et maman,
 nous irons en bateau dans
 une île.
 A bientôt. Gros bisous.
 Emilie

FARO
 15.8.91
 PORTUGAL

800
 PORTUGAL

Madame Gentil
 12, rue des Pommiers
 46300 BELLEVILLE
 FRANCE

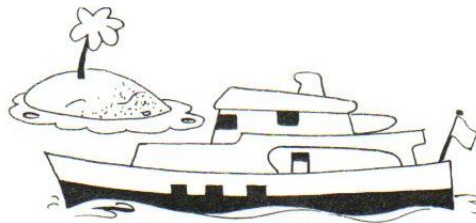

2- Où Emilie passe-t-elle ses vacances ? Colorie en jaune la bonne réponse :

A BELLEVILLE
EN FRANCE

A FARO
AU PORTUGAL

CHEZ Mme GENTIL
À POMMIERS

3- Où ira-t-elle demain ? Colorie le bon dessin :



4- Observe ce coin d'enveloppe et complète :



Cette lettre vient de
 dans le département du
 Elle a été postée le



Ma carte d'identité

NOM : BONHEUR

Prénoms : Gérald, Florian

né(e) le : 16 janvier 1985

à : 78 Souvenir



NATIONALITÉ : Française

Signature
du titulaire

Bonheur

Taille : 1 mètre 23

Signes particuliers : néant

Domicile : 6 Rue des Fleurs
86 PLANÈTE

Fait le : 6 juin 1991
par le Préfet de Police



1- Barre ce que l'on ne trouve pas sur la carte d'identité :

la nationalité

l'adresse

le nombre de frères et soeurs

le numéro de téléphone

le nom

la taille

le poids

la date de naissance

la photo

2- Dans chaque affirmation, il y a une erreur.
Peux-tu la trouver et la barrer ?

- Gérald mesure 1 mètre 23 et habite à Souvenir.
- Gérald est né le 6 juin 1991 et habite 6 Rue des Fleurs à Planète.
- L'autre prénom de Gérald est Florian, il est portugais.
- Le nom de famille de Gérald est Bonheur. Son anniversaire est le 16 février.
- Remplis toi aussi ta carte d'identité →

NOM :

Prénoms :

né(e) le :

à :



NATIONALITÉ :

Signature
du titulaire

Taille :

Signes particuliers :

Domicile :

Fait le

Par le



Prénom :

Date :



Une ordonnance pour guérir

Docteur LAPILULE
Médecine Générale

CONSULTATIONS
Lundi - Mardi - Vendredi 14h - 16h
Jeudi 16h - 18h
Samedi 10h - 12h

Mlle Emilie Lafbrêt

- 1) Rinutan : 1 comprimé avant chaque repas pendant 10 jours.
 - 2) Solubéol : 1 ampoule matin et soir pendant 15 jours
 - 3) Ikaron : 2 gélules avant les repas de midi et du soir pendant 7 jours
- WY

1- Qui est malade ?

2- Quel est le nom de son docteur ?

3- La classe se termine à 16 h 30. Quel jour Emilie peut-elle aller consulter son médecin ?

4- Combien de médicaments prescrit l'ordonnance ?

5- Le pharmacien a fait une erreur. Il a donné une boîte de trop. Colorie l'étiquette :

IKARAN
30 gélules

Rinutan
20 comprimés

rinurel
24 comprimés

solubéol
20 ampoules

6- Ecris les noms des médicaments qu'Emilie doit prendre :

le matin
.....
.....
.....

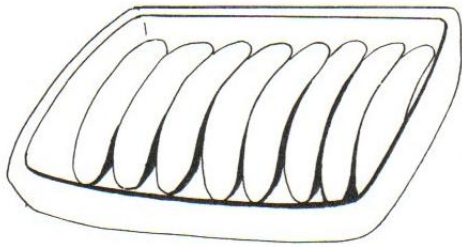
à midi
.....
.....
.....

le soir
.....
.....
.....




Une recette succulente

Bananes au four



Il faut : 4 bananes moyennes
40 grammes de beurre
2 cuillères à soupe de miel
le jus d'un citron
1 pot de crème fraîche.

1- Colorie seulement les ingrédients dont tu as besoin pour faire cette recette :



2- Remets ces actions dans l'ordre en les numérotant de 1 à 6 :

- Dépose les bananes coupées dans un plat à gratin beurré
- Mets le beurre en petits morceaux sur les bananes
- Verse la crème dans un bol et sers-la avec les bananes cuites
- 1 Pèle toutes les bananes et coupe-les en 2 dans le sens de la longueur
- Puis arrose les bananes et les petits morceaux de beurre de miel et de citron
- Mets à cuire 40 minutes dans le four préchauffé à 250°

3- Colorie les ustensiles dont tu as besoin :





Choisir la bonne direction

1- Entoure la bonne réponse :

Quand je vois ce panneau, je suis plus près de :

PARIS
EVRY
FONTAINEBLEAU

2- Coche les phrases exactes :

- Je suis à plus de 50 km d'Evry
- Je suis à moins de 100 km de Paris
- Je suis à plus de 10 km de Fontainebleau
- Evry est entre Fontainebleau et Paris.

3- Doivent-ils tourner à droite ou à gauche ?

- Ce camion veut aller à Cannes par l'autoroute. Il tourne à
- Cette voiture veut aller à Nice par l'autoroute. Elle tourne à
- Cette moto veut aller à Cannes en longeant la mer. Elle tourne à

4- Colorie en jaune le sommet de la borne de la route départementale et en rouge le sommet de la borne de la route nationale.

Le nouveau calendrier

JANVIER O 7h46 à 16h02	FEVRIER O 7h23 à 16h46	MARS O 6h35 à 17h32	AVRIL O 5h31 à 18h19	MAI O 4h33 à 19h04	JUIN O 3h54 à 19h43
1 M JOUR de l'AN	1 V S*Ella	1 V S. Aubin	1 L S. Hugues	1 M FÊTE du TRAVAIL	1 S S. Justin
2 M S. Basile	2 S Presentation	2 S S. Charles le B.	2 M S*Sandrine	2 J S. Boris	2 D Fête-Dieu
3 J S*Geneviève	3 D S. Blaise	3 D S. Guénoù	3 M S. Richard	3 V S.S. Phil. Jacq	3 L S. Kévin
4 V S. Odilon	4 L S*Veronique	4 L S. Casimir	4 J S. Isidore	4 S S. Sylvain	4 M S*Clotilde
5 S S. Edouard	5 M S*Agathe	5 M S. Olive	5 V S*Irene	5 D S*Judith	5 M S. Igor
6 D Epiphanie	6 M S. Gaston	6 M S*Colette	6 S S. Marcellin	6 L S*Prudence	6 J S. Norbert
7 L S. Raymond	7 J S*Eugenie	7 J S*Felicite	7 D S. J.-B. d. l. S.	7 M S*Gisele	7 V S. Gilbert
8 M S. Lucien	8 V S*Jacqueline	8 V S. Jean de D.	8 L S*Julie	8 M VICTOIRE 1945	8 S S. Médard
9 M S*Alex	9 S S*Apolline	9 S S*Francoise	9 M S. Gautier	9 J ASCENSION	9 D S*Diane
10 J S. Guillaume	10 D S. Arnaud	10 D S. Vivien	10 M S. Fulbert	10 V S*Solange	10 L S. Landry
11 V S. Paulin	11 L N-D Lourdes	11 L S*Rosine	11 J S. Stanislas	11 S S*Estelle	11 M S. Barnabe
12 S S* Tatiana	12 M Mardi Gras	12 M S*Justine	12 V S. Jules	12 D Fête J.-d'Arc	12 M S. Guy
13 D S*Yvette	13 M Cendres	13 M S. Rodrigue	13 S S*Ida	13 L S*Rolande	13 J S. Antoine de P.
14 L S*Nina	14 J S. Valentin	14 J S*Mathilde	14 D S. Maxime	14 M S. Matthias	14 V S. Elisee
15 M S. Remi	15 V S. Claude	15 V S* Louise de M.	15 L S. Paterne	15 M S*Denise	15 S S*Germaine
16 M S. Marcel	16 S S*Julienne	16 S S*Benedicte	16 M S. Benoit-J.	16 J S. Honore	16 D S. J.F. Regis
17 J S*Roseline	17 D Carême	17 D S. Patrice	17 M S. Amicet	17 V S. Pascal	17 L S. Herve
18 V S*Prisca	18 L S*Bernadette	18 L S. Cyrille	18 J S. Parfait	18 S S. Eric	18 M S. Leonce
19 S S. Marius	19 M S. Gabin	19 M S. Joseph	19 V S*Emma	19 D PENTECÔTE	19 M S. Romuald
20 D S. Sébastien	20 M S* Aimee	20 M S. Herbert	20 S S*Odette	20 L S. Bernardin	20 J S. Silvere
21 L S*Agnes	21 J S. P. Damien	21 J PRINTEMPS	21 D S. Anselme	21 M S. Constantin	21 V ETE
22 M S. Vincent	22 V S*Isabelle	22 V S* Lea	22 L S. Alexandre	22 M S. Emile	22 S S. Alban
23 M S. Barnard	23 S S. Lazare	23 S Annonciation	23 M S. Georges	23 J S. Didier	23 D S*Audrey
24 J S. Fr. de Sales	24 D S. Moeste	24 D Rameaux	24 M S. Fidele	24 V S. Donatien	24 L S. Jean-Bapt.
25 V Conv. S. Paul	25 L S. Romeo	25 L S. Humbert	25 J S. Marc	25 S S. Sophie	25 M S. Prosper
26 S S*Paule	26 M S. Nestor	26 M S* Larissa	26 V S*Alida	26 D Fête des Mères	26 M S. Antheime
27 D S*Angèle	27 M S* Honorine	27 M S. Habib	27 S S*Zita	27 L S. Augustin	27 J S. Fernand
28 L S. Th. d'Aquin	28 J S. Romain	28 J S. Gontran	28 D Jour du Souv.	28 M S. Germain	28 V S. Irenee
29 M S. Gildas	29 V S*Gwladys	29 V S. Catherine	29 L S* Catherine	29 M S. Avmar	29 S S. Pierre. Paul
30 M S*Martine	30 S S. Amedée	30 M S. Robert	30 M S. Robert	30 J S. Ferdinand	30 D S. Martial
31 J S*Marcelle	31 D PAQUES			31 V Visitation	

Recherche sur cette partie de calendrier et complète :

- 1- Janvier est le premier mois de l'année : 2- Un mois a 28 jours, lequel ?
 Quel est le 3ème ? Deux mois ont 30 jours, lesquels ?
 Quel est le 5ème ? et
 3- Donne le jour de la semaine et la date des événements suivants :

La fête des mères	La fête du Travail
Le Mardi-Gras	Le Jour de l'An
La victoire 1945	Le Printemps

4- Clément est tombé malade le 22 février. Il n'est retourné à l'école que le 4 mars.

- Combien de jours a duré sa maladie ?
- Combien de jours a-t-il manqué l'école ?






Une page de catalogue de jeux

Monstre machine

Incroyable ce camion !

Il mesure 45 centimètres de long et il n'a pas moins de douze roues, toutes entraînées par un moteur à piles très puissant. De plus, il est



complètement articulé, ce qui lui permet de rouler droit devant lui en grim pant sur tous les obstacles (ou presque) comme une énorme chenille !

Marque Tomy

399 F

1- Ecris **V** (vrai) ou **F** (faux) :

- Ce camion peut franchir tous les obstacles
- Il a au moins vingt roues
- Il mesure 45 centimètres de long
- Il fonctionne avec des piles
- Il roule sur des rails
- Il a un moteur puissant

2- Colorie le dessin qui correspond au texte du catalogue :



VÉLO DOLLY 6 à 9 ans.

Pneus gonflables. Freins avant et arrière à poignée. Porte-bagages arrière. Roue libre. Selle et guidon réglables. Eclairage complet. Sonnette. Pompe. Béquille. Garde-boue inox. Coloris rouge et bleu.

Réf. 0630

699 F