

Prénom : _____ Date : _____

1. *Imagine les jetons dans la boîte. Complète les égalités.*



1+2=

3+2=

1+4=

2+2=

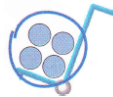
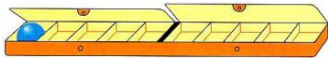
3+1=

1+1=

2+1=

1+3=

2. *Écris l'égalité.*



.....



.....

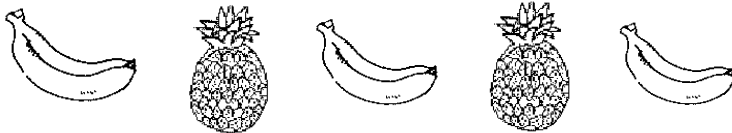


.....



.....

3. *Réponds.*



En tout il y a  fruits.

 Il y a  bananes

 Il y a  ananas

..... + =

4.

Dessine les doigts.




3 doigts

4 doigts

5 doigts

5.

Écris.



6.

Trace les traits manquants.

