

# Évaluation d'Histoire - CM2

## La Première Guerre mondiale.

Nom : .....

Prénom : .....

/40

J'ai des connaissances sur la Première Guerre mondiale.

### Les débuts de la guerre.

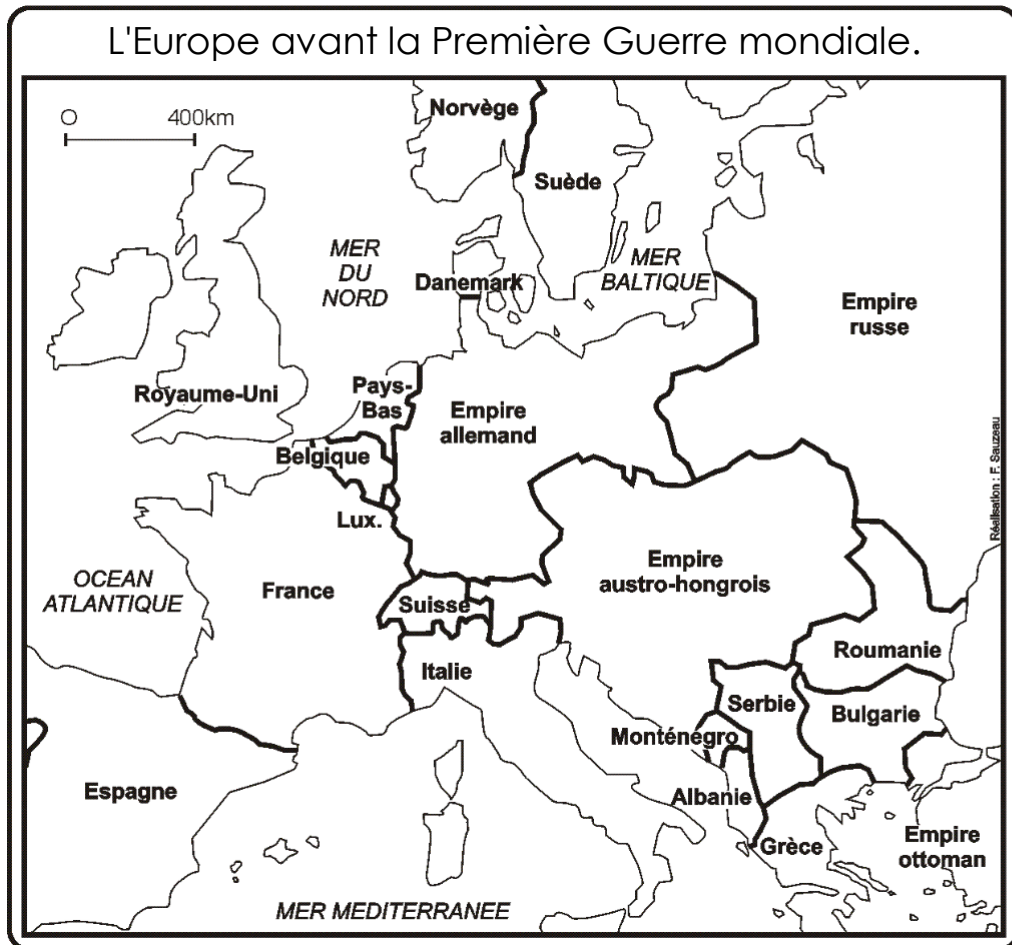
1- En quelle année la Première Guerre mondiale a-t-elle commencé ?

..... /1

2- A quelle date a été signé l'armistice (jour / mois / année) ?

..... /1

3- Sur la carte suivante, colorie en vert la France et ses alliés (2), l'Allemagne et ses alliés (2) en violet, puis colorie et complète la légende.



Légende :

La .....

La .....

/4

4- Donne deux raisons pour lesquelles la guerre a éclaté.

→ .....

.....

→ .....

.....

/2

5- Quel a été l'événement déclencheur de la guerre et raconte les événements qui ont amené à une guerre entre plusieurs pays ? (Aide-toi de l'illustration et de la carte page 1).

.....  
 .....  
 .....  
 .....



/2

**La poursuite de la guerre.**

6- En 1917, un grand pays a quitté le conflit, un autre l'a rejoint...

x Nom du pays qui a quitté la guerre : .....

x Nom du pays qui a rejoint la guerre : ..... /2

7- Quand (année) et où (ville) le traité de paix entre la France et l'Allemagne fut-il signé ?

Le traité de paix fut signé .....

..... /2

8- Quel peuple est exterminé par les Turcs ? ..... /1

9- Donne la définition de génocide : .....

..... /1

**La Vie des soldats.**

10- Voici un dessin représentant un soldat français en 1914. Complète la légende avec deux adjectifs de couleur.

Capote (veste)

.....



Pantalon

.....

Pourquoi cet uniforme n'est-il pas conservé pendant toute la guerre ?

.....



11- Quel nom a-t-on donné aux soldats français de la Première Guerre mondiale ?

..... /1

12- Comment s'appelle le lieu où ils se trouvent sur cette photographie ?

..... /1

13- Quelle bataille reste un symbole de la barbarie de cette guerre ?

..... /1

14- En quelle année cette bataille eut-elle lieu ?

..... /1

15- En 1917, certains soldats, notamment français, réagissent contre cette guerre. Comment appelle-t-on ces mouvements de révolte ?

..... /1




Quelles sont les mesures prises par l'état français pour lutter contre cette révolte ?

x .....

x ..... /2

**Une guerre industrielle.**

16- Nomme ces photographies

		
<p>.....</p> <p>.....</p>	<p>.....</p> <p>.....</p>	<p>.....</p> <p>.....</p>

Explique pourquoi ces photographies sont représentatives de la Première Guerre mondiale.

..... /4

**Loin du front.**



17- Explique ce qui se passe pour les enfants lors de la guerre.  
(Aide-toi du document)

..... /2



18- Explique comment fonctionne le système des tickets de rationnement

..... /2



19- Explique ce qui se passe pour les femmes lors de la guerre. (Aide-toi des documents)




..... /2

20-Comment appelle-t-on le procédé qui fait qu'une usine change sa production pour créer des armes de guerre ?

..... /1

**Après la guerre...**

21- Aide-toi des documents et rédige un petit texte qui explique les conséquences du conflit juste après la guerre et ce qui en est resté aujourd'hui



..... /4

a- Boulevard Saint-Denis, Paris, 11/11/1918. - b- La cathédrale de Soissons. - c-Amanda Lermithé et ses cinq enfants (photographie) d- La délégation des gueules cassées, photographie de 1919. e- Cérémonie en l'honneur de L. Ponticelli (2008) – f- Monument aux morts de Bar-le-Duc.