

Défi calcul mental n°10



Compétence travaillée : Multiplier par 2, 3, 4 et 5 un nombre à un chiffre.

...../ 30 points

1/ Ecris seulement le résultat.

2/ Problème : _____

3/ Calcule le plus rapidement possible.

<input type="checkbox"/>		<input type="checkbox"/>		<input type="checkbox"/>	
--------------------------	-----------------------------------------------------------------------------------	--------------------------	-------------------------------------------------------------------------------------	--------------------------	-------------------------------------------------------------------------------------

$5 \times \dots = 10$ $3 \times \dots = 24$ $1 \times \dots = 5$ $\dots \times 8 = 32$ $4 \times \dots = 20$

$4 \times \dots = 12$ $\dots \times 3 = 15$ $\dots \times 4 = 8$ $2 \times \dots = 18$ $5 \times \dots = 45$

Défi calcul mental n°10






Compétence travaillée : Multiplier par 2, 3, 4 et 5 un nombre à un chiffre.

...../ 30 points

1/ Ecris seulement le résultat.

2/ Problème : _____

3/ Calcule le plus rapidement possible.

<input type="checkbox"/>		<input type="checkbox"/>		<input type="checkbox"/>	
--------------------------	-------------------------------------------------------------------------------------	--------------------------	---------------------------------------------------------------------------------------	--------------------------	---------------------------------------------------------------------------------------

$5 \times \dots = 10$ $3 \times \dots = 24$ $1 \times \dots = 5$ $\dots \times 8 = 32$ $4 \times \dots = 20$

$4 \times \dots = 12$ $\dots \times 3 = 15$ $\dots \times 4 = 8$ $2 \times \dots = 18$ $5 \times \dots = 45$