




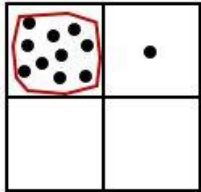
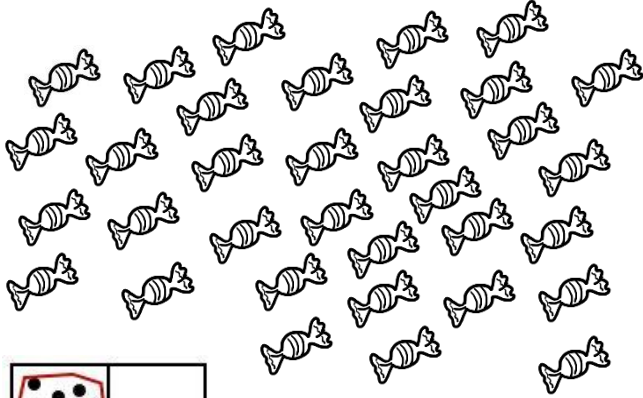
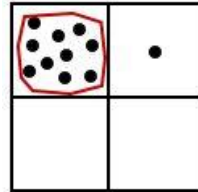







6 $2+1=3$  Compte et 2  complète le tableau et la phrase.   



→ il y a ___ bonbons.



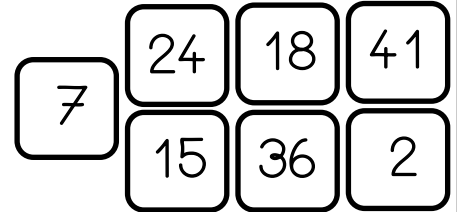
→ Il y a ___ boutons.

7  Range les nombres du plus petit au plus grand.   

<input type="text"/>	<input type="text"/>	<input type="text"/>	<input type="text"/>	<input type="text"/>	<input type="text"/>	<input type="text"/>
----------------------	----------------------	----------------------	----------------------	----------------------	----------------------	----------------------

le plus petit

le plus grand



8 **Devinettes**   

Nina a déjà 3 billets de 10 euros.
Sa mamie lui donne 5 euros de plus.
Combien Nina a-t-elle d'euros à présent ?

→ Nina a ___ euros.

Popi a 39 euros dans sa tirelire.
Il achète un sachet de bonbons à 5 euros.
Combien d'euros lui reste-t-il ?

→ Popi a encore ___ euros.

Lola veut s'acheter un collier qui coûte 10 euros, elle n'a que 6 euros dans sa tirelire.
Combien d'euros lui manque-t-il ?

→ Il lui manque ___ euros.

Je sais calculer mentalement.	1	
Je sais écrire des nombres dictés jusqu'à 49	2	
Je sais me servir des compléments à 10 pour calculer.	3, 4	
Je sais me repérer sur un tableau de nombres jusqu'à 49, classer les nombres	5, 7	
Je sais compter des grandes collections en faisant des groupements de 10	6	
Je sais résoudre des petits problèmes additifs, soustractifs, de complément	8	