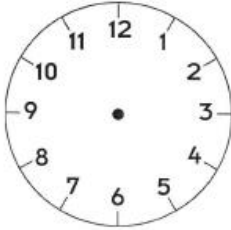
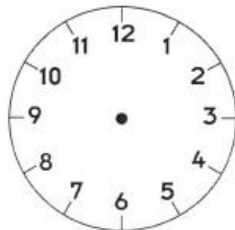


Exercice 1 :

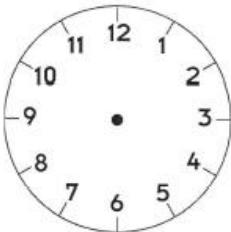
Place les aiguilles.



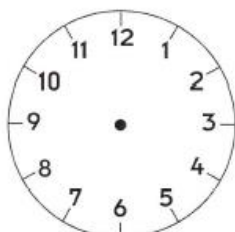
2 h 00



6 h 00

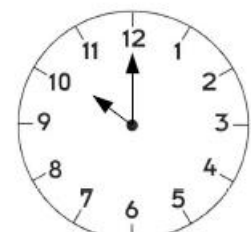

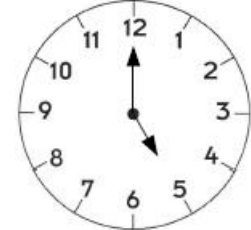
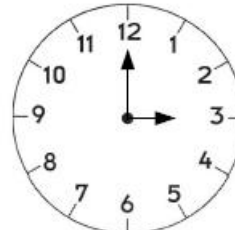


8 h 00



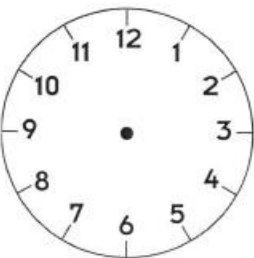
12 h 00

Lis et écris l'heure.

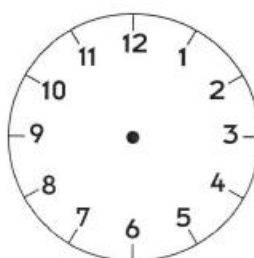


Exercice 2 :

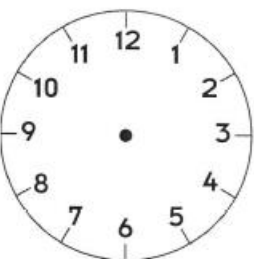
Place les aiguilles.



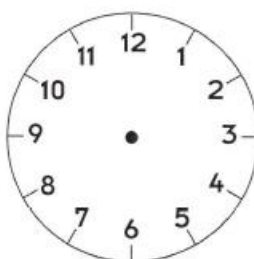
9 h 30



5 h 00

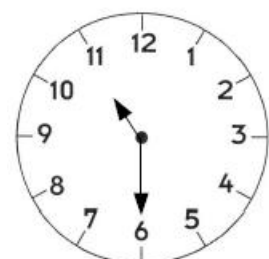
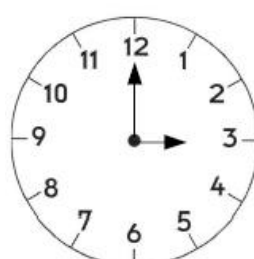
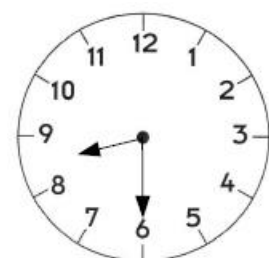
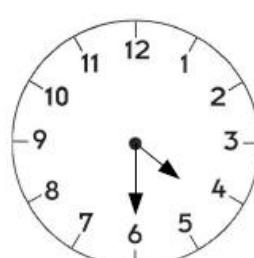


1 h 30



10 h 30

Lis et écris l'heure.




Lecture de l'heure


Exercice 3 : Voici une journée d'Antoine. Complète les phrases ou dessine les aiguilles.



Il est _____.
Antoine se lève.



À 8 h 15.
Il part à l'école.



La récréation
est à _____.




Antoine déjeune
à 12 h 30.



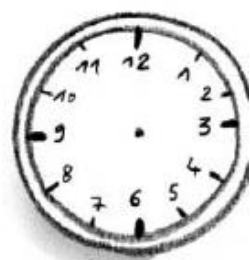
À _____ Antoine
fait du sport.



Il quitte l'école
à 16 h 30.



Antoine dîne
à _____.



Il se couche
à 20 h 30.



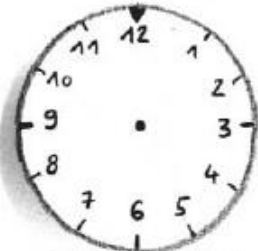
Lecture de l'heure

Exercice 4 : Observe ces pendules. Complète les phrases ou ajoute les chiffres et les aiguilles manquants.




00:00

Il est minuit.




02:00

Il est 2 heures
du matin.



... : ...

Il est 5 heures et
quart du matin.




07:00

Il est ____ heures
du _____.



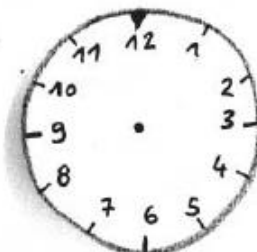
... : ...

Il est 9 heures et
demie du matin.



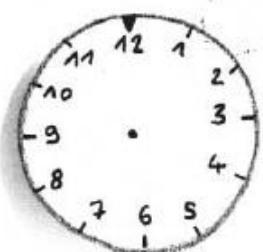
09:45

Il est 10 heures
moins le quart
du matin.




... : ...

Il est midi.




16:00

Il est 4 heures
de l'après-midi
ou 16 h.




... : ...

Il est 8 heures
et quart du soir
ou 20 h 15.




21:00

Il est ____ heures
du ____ ou ____.



22:45

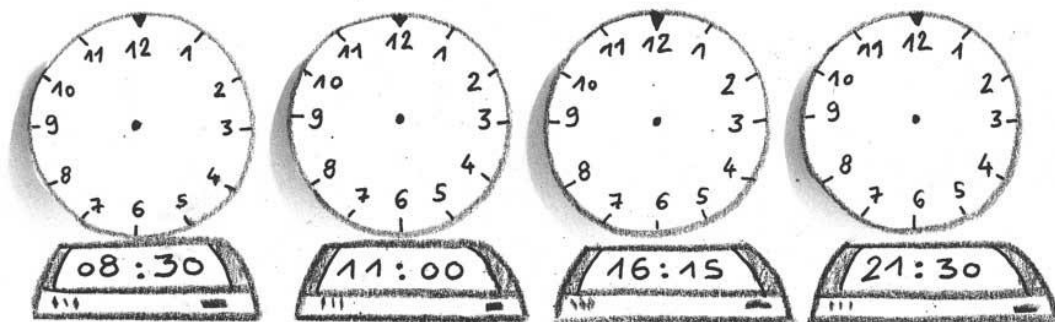
Il est 11 heures
moins le quart
du soir ou 22 h 45.



00:00

Il est _____.

Exercice 5 : Observe l'heure indiquée par les radio-réveils et dessine les aiguilles des pendules.



Exercice 6 : Relie les écritures correspondantes.

Dix heures et demie	●	●	12 h 15
Cinq heures moins le quart	●	●	10 h 30
Trois heures et demie	●	●	9 h 15
Midi et quart	●	●	4 h 45
Neuf heures quinze	●	●	3 h 30

Exercice 7 : Entoure la bonne réponse.



Ali a rendez-vous chez le dentiste à 15 h 30. Il est en retard.

Vrai – Faux



La série télévisée que suit Lisa commence à 10 h 25.

Elle vient d'appuyer sur le bouton.

Elle a raté le début de l'émission.

Vrai – Faux



Le train part à 16 h 45.

Marion arrive sur quai.

Elle est en avance.

Vrai – Faux