





# Géographie : la Marne

Sous chaque image écris de quoi il s'agit puis relie-la à l'endroit où la photographie a été prise.



# Géographie : la Marne

Fais ton enquête et complète la carte d'identité du département:

Son Nom: .....

Son numéro: .....

Sa préfecture: .....

Les 4 sous-préfectures:

.....

.....

Les cinq plus grandes villes: 1. R .....

2. C.....

3. E.....

4. V.....

5. T.....

Ses spécialités:

\* le c.....

\* le p..... de c.....

\* le b..... r.....

Son nombre d'habitants: .....

Le nombre de Communes: .....

Sa superficie: .....

Colorie le blason

