


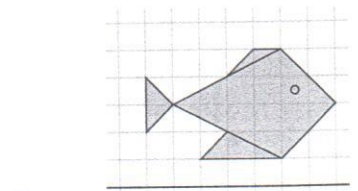
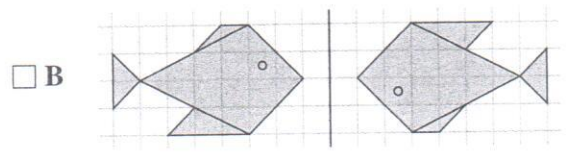
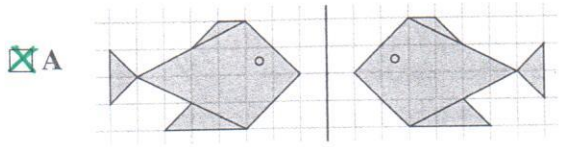
70 Identifier et tracer le symétrique d'une figure

COMPÉTENCE : Identifier et tracer le symétrique d'une figure par rapport à une droite donnée.

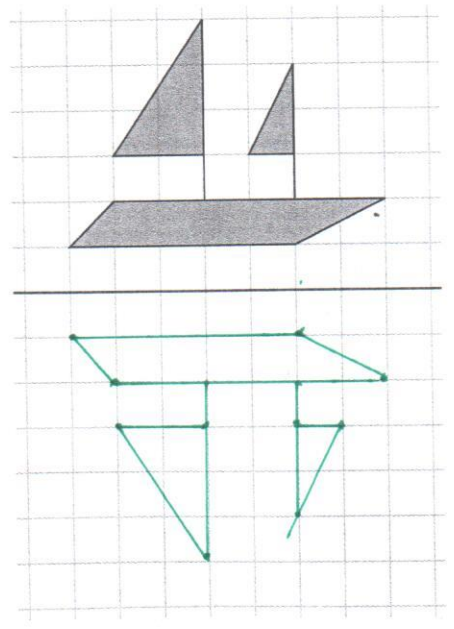
Calcul mental
 Dictée de fractions simples.
 $\frac{3}{2}$

Chercher ensemble


A Coche les cases des figures symétriques par rapport à la droite rouge.



B Trace le symétrique du bateau par rapport à la droite rouge, en utilisant le quadrillage.



C Trace le symétrique de l'étendard par rapport à la droite rouge, en utilisant un calque.



Construis ton mémo

Pour tracer le symétrique d'une figure, je trace d'abord le symétrique des points importants.

Un point et son symétrique sont à égale *distance* de l'axe de symétrie.

