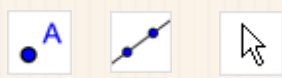

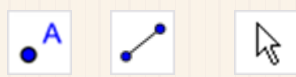



Droites et segments

| Programme | Figure à main levée | Figure avec les instruments de géométrie | Figure avec le logiciel GEOGEBRA |
|--|---------------------|--|--|
| <p>1. Place deux points A et B. Trace la droite (AB).</p> <p>2. Place un point C sur la droite (AB).</p> | | | <p>Outils :</p>   |

| Programme | Figure à main levée | Figure avec les instruments de géométrie | Figure avec le logiciel GEOGEBRA |
|--|---------------------|--|--|
| <p>1. Place deux points A et B. Trace le segment [AB].</p> <p>2. Place un point C sur le segment [AB].</p> | | | <p>Outils :</p>   |