


Evaluation de mathématiques/ calcul et résolution de problème

Compétences évaluées :	Niveau acquis			
Additionner ensemble des nombres inférieurs à 10.	A	AR	EC	NA
Additionner des nombres inférieurs à 10.	A	AR	EC	NA
Trouver la procédure et le résultat de cette situation de partage.	A	AR	EC	NA
Trouver la procédure et le résultat de cette situation soustractive.	A	AR	EC	NA
Trouver la procédure et le résultat de cette situation additive.	A	AR	EC	NA

1- Calculer le contenu de chaque carton après l'ajout des enfants.

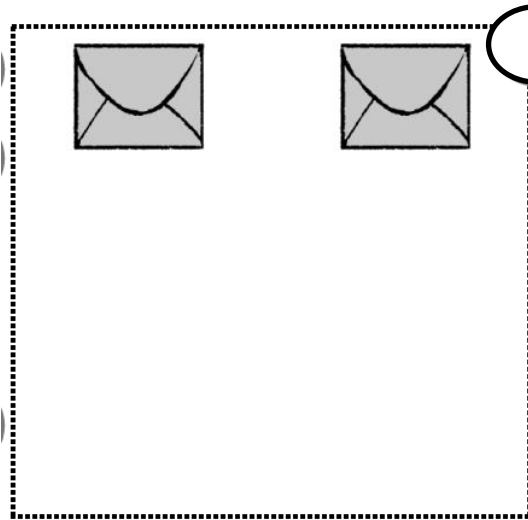


2- Calcul en respectant le code.

jaune	rouge	vert	bleu	gris
5	6	7	8	9

6+2	3+3	6+1	4+1	3+3+1
8+1	4+4	3+2	1+7	4+2
4+3	4+5	2+5	5+0	2+2+2
3+5	3+3+3	2+7	1+4	1+5+1

3- Problèmes.




1 Malo a un paquet de 12 images.

Il doit y avoir autant d'images dans chacune des enveloppes. **Combien d'images y aura-t-il dans chaque enveloppe ?**

Il y aura images.

_____ = _____




2 Il faut 12 billes dans le sac. Dylan a déjà mis 4 billes.

Combien en manque-t-il ?

Il manque billes.

_____ = _____



3 Maman a 8 roses dans son vase, papa lui apporte un bouquet de 7 roses .

♥ **Combien de roses va-t-elle avoir maintenant ?**

♦ _____

♣ Elle a maintenant roses.