





## Les aires urbaines



-  Ville-centre
-  Banlieues
-  Espace périurbain

**Etudes de documents**

Source documents : Hatier

**P'tit blog de Segpa**



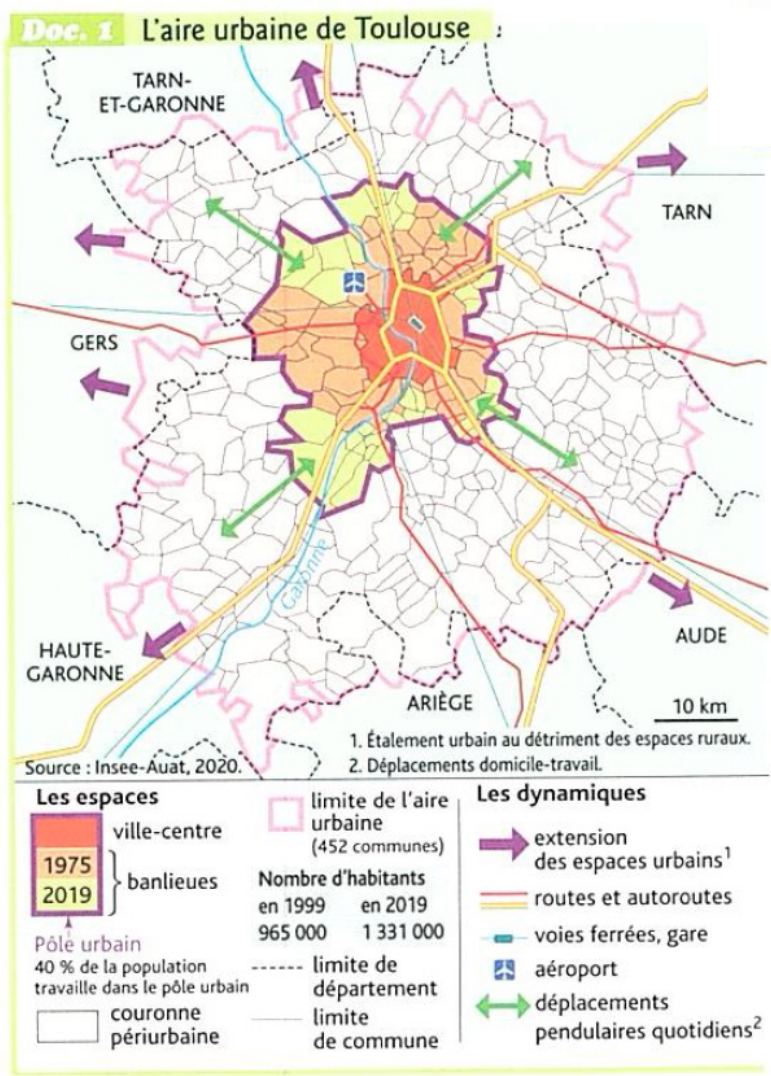
# Quels sont les espaces et les dynamiques de l'aire urbaine de Toulouse ?

## Compétences:

Etudier des photographies et un texte

Analyser une carte

Selon l'Insee, une **aire urbaine** est un espace constitué d'une ville-centre, de banlieues et d'une couronne périurbaine.



- Dans la légende, entourez le nombre d'habitants de l'aire urbaine de Toulouse en 2019
- Comment ce chiffre a-t-il évolué depuis 1999 ?  
.....
- Quelles parties de l'aire urbaine forment le pôle urbain ?  
.....
- Quelle partie de l'aire urbaine est en extension ?  
.....
- Comment appelle-t-on ce phénomène ?  
.....
- Comment appelle-t-on le déplacement « Domicile-travail » ?  
.....
- Dans la légende, entourez les principaux modes de transports utilisés.

**Doc. 2** Les espaces de l'aire urbaine de Toulouse



- 1 .....
- 2 .....
- 3 .....

8). Ecrivez le nom de chaque espace de l'aire urbaine de Toulouse en face du numéro correspondant: **Banlieue / couronne périurbaine / Ville-centre**

**Doc. 3** Une forte croissance démographique

« L'aire urbaine de Toulouse (la 4<sup>e</sup> de France après Paris, Lyon et Marseille) connaît une croissance démographique qui est deux fois supérieure à celle constatée sur le plan national. [...] À l'aube de 2020, ce sont 18 000 habitants qui s'y installent tous les ans.

L'agglomération toulousaine, qui concentre 71 % de la population de Haute-Garonne [...], s'étend au-delà du département pour déborder sur cinq des six départements limitrophes. Dans cette couronne périurbaine, certaines unités urbaines gagnent des habitants depuis longtemps et atteignent désormais des niveaux de population importants [...]. Cette croissance très forte repose à la fois sur un solde naturel<sup>1</sup> très au-dessus de la moyenne régionale (+ 0,6 %) et sur un excédent migratoire<sup>2</sup> élevé lui aussi (+ 0,7 %). »

Ladepeche.fr, 30 décembre 2019.

1. Différence entre les naissances et les décès. 2. Différence entre les arrivées et les départs.

9). Soulignez en rouge le passage montrant l'importance de la croissance démographique de Toulouse

10). Soulignez en vert le passage montrant l'importance de l'extension de Toulouse

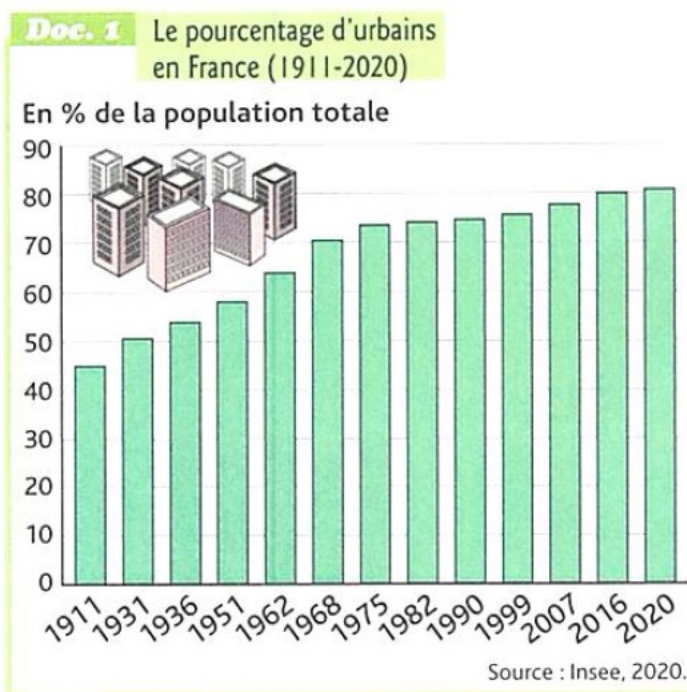
11). Entourez les raisons de cette forte croissance

# Comment évoluent et s'organisent les villes en France?

## Compétences:

Analyser un graphique

Compléter un croquis à l'aide d'un texte



1) Nature du document:

.....

2). Titre :

.....

3). Que représente-t-il ?

Il montre l'év..... du p..... d'u.....  
en F..... de l'année ..... à l'année .....

4) Comment évolue-t-il ?

.....

5) A quelle date la population urbaine devient-elle majoritaire ? .....

6). Quel est le pourcentage d'urbain en 2020 ? .....

7). Depuis 1911, par combien environ a été multiplié le pourcentage d'urbains en France ?

.....

## Doc. 2 Le développement des métropoles

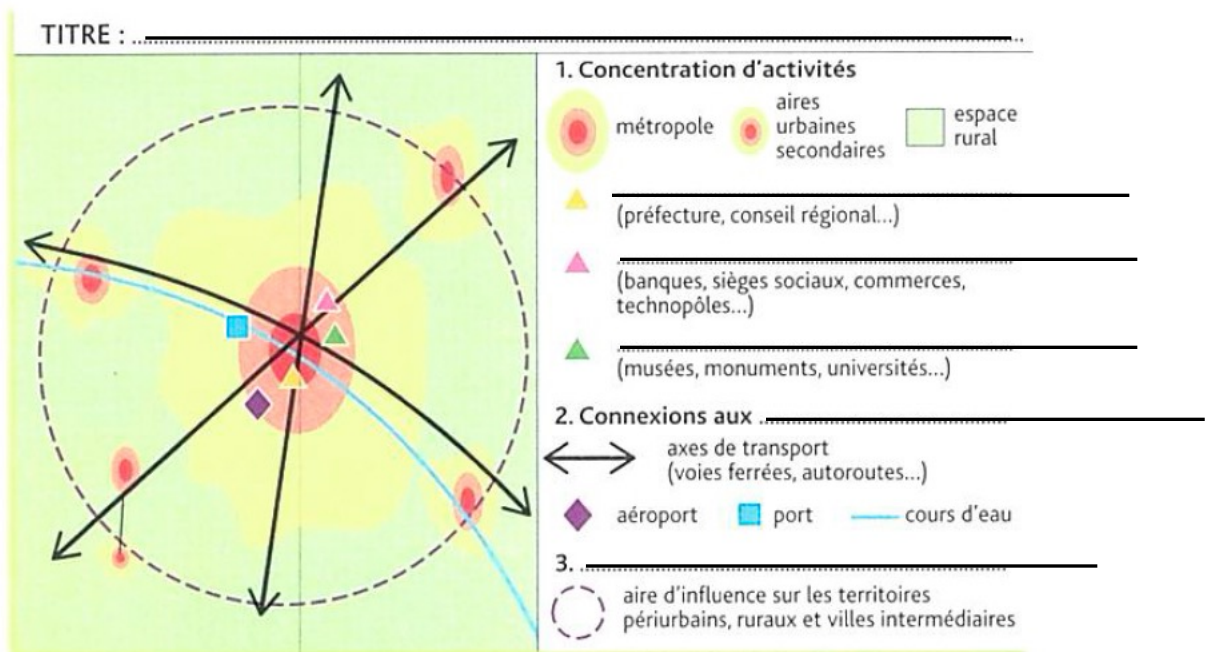
« [...] L'urbanisation [...] transforme en profondeur le territoire français. Cela se manifeste par le développement de [métropoles], concentrant population, **activités économiques, politiques** et **culturelles** de niveau supérieur, création de richesse et connexions aux **réseaux de transports**. Liées les unes aux autres, elles constituent un vaste réseau [...] de métropoles [...]. Elles s'étalent et étendent leur aire d'influence [sur] de vastes espaces [...] formés de territoires périurbains, ruraux, villes intermédiaires...

En France, la hiérarchie urbaine<sup>1</sup> est dominée [par] la métropole parisienne, qui est la seule de rang mondial mais d'autres métropoles comme Lyon, Marseille, Toulouse, Strasbourg ou Lille se renforcent. Ces espaces métropolitains constituent des atouts majeurs pour la France en termes de compétitivité<sup>2</sup> et de **rayonnement**<sup>3</sup> en Europe et dans le monde. »

D'après le portail de l'Aménagement du territoire, www.zonages.territoires.gouv.fr, 2016. D.R.

1. Classement des villes et de leurs aires d'influence les unes par rapport aux autres. 2. Capacité à faire face à la concurrence. 3. Influence d'un territoire au-delà de ses limites.

8). Entourez le nom donné aux villes qui se développent le plus en raison de l'urbanisation.



9). Complétez la légende du schéma à l'aide des mots en gras du doc.2.

10). Ecrivez un titre pour ce schéma.

11). Sur quels territoires plus ou moins proches ces villes exercent-elles leur influence ?

.....

12). Quelle métropole domine la hiérarchie urbaine en France ? (voir doc.2)

.....

13). Dans le doc.2, soulignez l'atout que représentent les métropoles pour la France