


Nom :

Prénom :

Le périmètre

1/ Calcule des périmètres :



Combien comptes-tu de rectangles dans cette figure :

Quel est le périmètre du rectangle BCEF :

Quel est le périmètre du rectangle BCDH :

Quel est le périmètre du carré ABFG :

Quel est le périmètre de la figure :

2/ Trace un carré qui a 12 cm de périmètre.

3/ Trace un rectangle qui a une longueur de 6 cm et un périmètre de 18 cm.

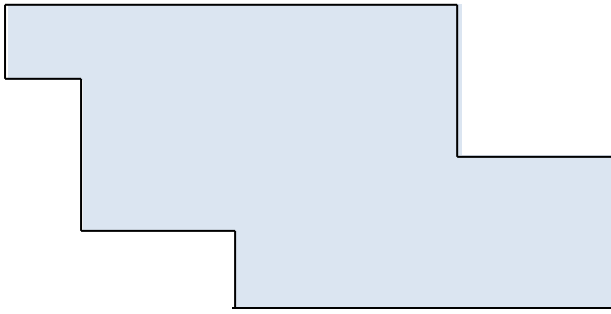
4/ Donne les dimensions de trois rectangles qui ont tous 30 cm de périmètre :

-

-

-

1/ Calcule le périmètre de ce polygone :



Le périmètre de ce polygone est de :

..... cm

2/ Trace sur une feuille blanche trois rectangles différents ayant 18 cm de périmètre

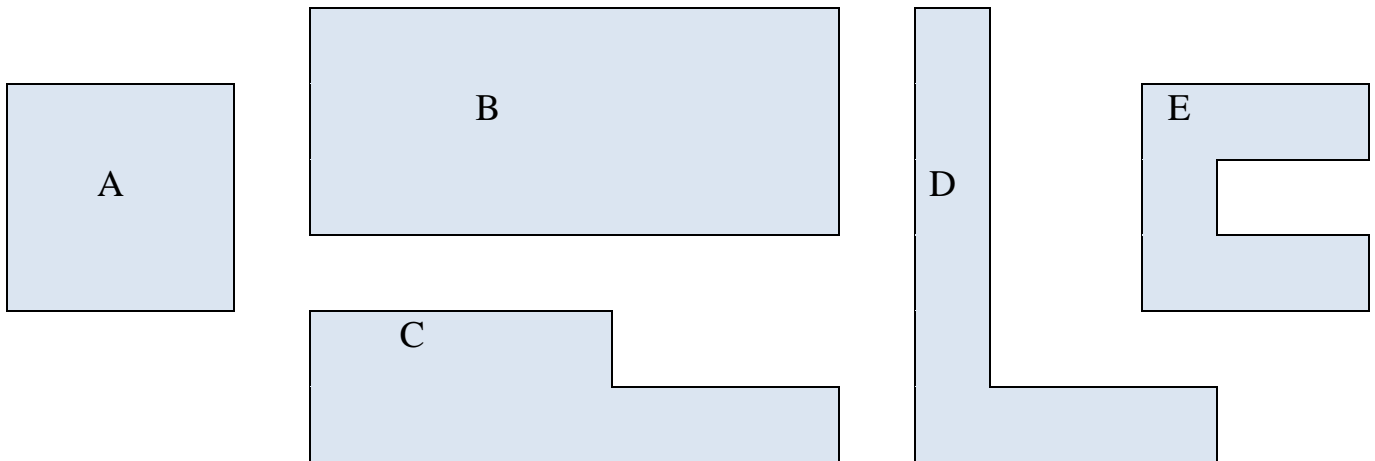
3/ Complète le tableau

	Longueur	Largeur	½ périmètre	Périmètre
rectangle 1	58 cm	14 cm		
rectangle 2		3,5 cm		25 cm
rectangle 3	8,50 cm	6 cm		
rectangle 4	4,30 cm			23 cm

4/ Un rectangle dont la longueur est égale au triple de la largeur, a pour demi périmètre 28 m. Fais un schéma et calcule la mesure de la largeur, puis celle de la longueur.

.....

5/ Calcule le périmètre des figures ci-dessous.



Périmètres : A = B = C = D = E =