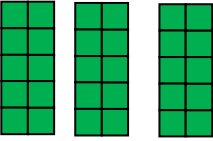
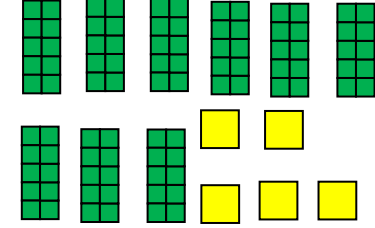

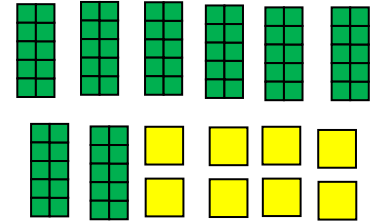
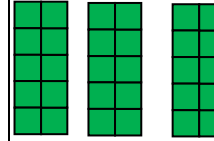
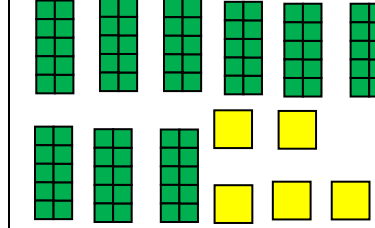
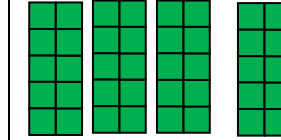
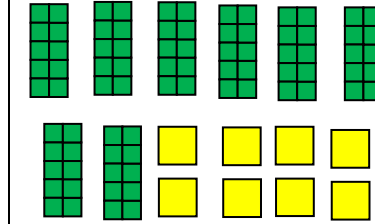


Dessine ce qu'il manque pour faire cent.

		$3d + \_\_\_d$
		$9d + 5u + \_\_\_u$
		$4d + \_\_\_d$
		$8d + 8u + \_\_\_u$

Dessine ce qu'il manque pour faire cent.

		$3d + \_\_\_d$
		$9d + 5u + \_\_\_u$
		$4d + \_\_\_d$
		$8d + 8u + \_\_\_u$

Complète le tableau comme dans l'exemple.

104	1c 0d 4u	cent-quatre
109		
	1c 1d 0u	
		cent
112		
		cent-dix-huit

Range ces nombres dans l'ordre croissant.

97 - 105 - 89 - 100 - 109 - 110 - 101 - 91

---

Calcule ces opérations.

$20+30=$  \_\_\_\_\_

$60+10=$  \_\_\_\_\_

$40+14=$  \_\_\_\_\_

$80+16=$  \_\_\_\_\_

$54+30=$  \_\_\_\_\_

$36+21=$  \_\_\_\_\_

Complète le tableau comme dans l'exemple.

104	1c 0d 4u	cent-quatre
109		
	1c 1d 0u	
		cent
112		
		cent-dix-huit

Range ces nombres dans l'ordre croissant.

97 - 105 - 89 - 100 - 109 - 110 - 101 - 91

---

Calcule ces opérations.

$20+30=$  \_\_\_\_\_

$60+10=$  \_\_\_\_\_

$40+14=$  \_\_\_\_\_

$80+16=$  \_\_\_\_\_

$54+30=$  \_\_\_\_\_

$36+21=$  \_\_\_\_\_

Continue ces files numériques:

24-25-\_\_\_\_-\_\_\_\_-\_\_\_\_-\_\_\_\_-\_\_\_\_-\_\_\_\_-\_\_\_\_-\_\_\_\_-\_\_\_\_-\_\_\_\_-\_\_\_\_

67-68-\_\_\_\_-\_\_\_\_-\_\_\_\_-\_\_\_\_-\_\_\_\_-\_\_\_\_-\_\_\_\_-\_\_\_\_-\_\_\_\_-\_\_\_\_-\_\_\_\_

92-93-\_\_\_\_-\_\_\_\_-\_\_\_\_-\_\_\_\_-\_\_\_\_-\_\_\_\_-\_\_\_\_-\_\_\_\_-\_\_\_\_-\_\_\_\_-\_\_\_\_

Continue ces files numériques:

35-34-\_\_\_\_-\_\_\_\_-\_\_\_\_-\_\_\_\_-\_\_\_\_-\_\_\_\_-\_\_\_\_-\_\_\_\_-\_\_\_\_-\_\_\_\_-\_\_\_\_

107-106-\_\_\_\_-\_\_\_\_-\_\_\_\_-\_\_\_\_-\_\_\_\_-\_\_\_\_-\_\_\_\_-\_\_\_\_-\_\_\_\_-\_\_\_\_-\_\_\_\_

Ecris les nombres en lettres:

94: \_\_\_\_\_

78: \_\_\_\_\_

102: \_\_\_\_\_

80: \_\_\_\_\_

107: \_\_\_\_\_

Entoure en jaune le chiffre des unités, en vert le chiffre des dizaines et en bleu le chiffre des centaines.

2 4 5

3 6 8

1 0 2

2 0 0

Continue ces files numériques:

24-25-\_\_\_\_-\_\_\_\_-\_\_\_\_-\_\_\_\_-\_\_\_\_-\_\_\_\_-\_\_\_\_-\_\_\_\_-\_\_\_\_-\_\_\_\_-\_\_\_\_

67-68-\_\_\_\_-\_\_\_\_-\_\_\_\_-\_\_\_\_-\_\_\_\_-\_\_\_\_-\_\_\_\_-\_\_\_\_-\_\_\_\_-\_\_\_\_-\_\_\_\_

92-93-\_\_\_\_-\_\_\_\_-\_\_\_\_-\_\_\_\_-\_\_\_\_-\_\_\_\_-\_\_\_\_-\_\_\_\_-\_\_\_\_-\_\_\_\_-\_\_\_\_

Continue ces files numériques:

35-34-\_\_\_\_-\_\_\_\_-\_\_\_\_-\_\_\_\_-\_\_\_\_-\_\_\_\_-\_\_\_\_-\_\_\_\_-\_\_\_\_-\_\_\_\_-\_\_\_\_

107-106-\_\_\_\_-\_\_\_\_-\_\_\_\_-\_\_\_\_-\_\_\_\_-\_\_\_\_-\_\_\_\_-\_\_\_\_-\_\_\_\_-\_\_\_\_-\_\_\_\_

Ecris les nombres en lettres:

94: \_\_\_\_\_

78: \_\_\_\_\_

102: \_\_\_\_\_

80: \_\_\_\_\_

107: \_\_\_\_\_

Entoure en jaune le chiffre des unités, en vert le chiffre des dizaines et en bleu le chiffre des centaines.

2 4 5

3 6 8

1 0 2

2 0 0

1- Complète ces égalités comme l'exemple.

**425=400 + 20 + 5**

310 = \_\_\_\_ + \_\_\_\_ + \_\_\_\_      140 = \_\_\_\_ + \_\_\_\_ + \_\_\_\_

270 = \_\_\_\_ + \_\_\_\_ + \_\_\_\_      530 = \_\_\_\_ + \_\_\_\_ + \_\_\_\_

457 = \_\_\_\_ + \_\_\_\_ + \_\_\_\_      736 = \_\_\_\_ + \_\_\_\_ + \_\_\_\_

843 = \_\_\_\_ + \_\_\_\_ + \_\_\_\_      628 = \_\_\_\_ + \_\_\_\_ + \_\_\_\_

2- Colorie ce qu'il faut comme l'exemple.

425	100	100	100	10	10	10	1	1	1
	100	100	100	10	10	10	1	1	1
324	100	100	100	10	10	10	1	1	1
	100	100	100	10	10	10	1	1	1
531	100	100	100	10	10	10	1	1	1
	100	100	100	10	10	10	1	1	1
243	100	100	100	10	10	10	1	1	1
	100	100	100	10	10	10	1	1	1

1- Complète ces égalités comme l'exemple.

**425=400 + 20 + 5**

310 = \_\_\_\_ + \_\_\_\_ + \_\_\_\_      140 = \_\_\_\_ + \_\_\_\_ + \_\_\_\_

270 = \_\_\_\_ + \_\_\_\_ + \_\_\_\_      530 = \_\_\_\_ + \_\_\_\_ + \_\_\_\_

457 = \_\_\_\_ + \_\_\_\_ + \_\_\_\_      736 = \_\_\_\_ + \_\_\_\_ + \_\_\_\_

843 = \_\_\_\_ + \_\_\_\_ + \_\_\_\_      628 = \_\_\_\_ + \_\_\_\_ + \_\_\_\_

2- Colorie ce qu'il faut comme l'exemple.

425	100	100	100	10	10	10	1	1	1
	100	100	100	10	10	10	1	1	1
324	100	100	100	10	10	10	1	1	1
	100	100	100	10	10	10	1	1	1
531	100	100	100	10	10	10	1	1	1
	100	100	100	10	10	10	1	1	1
243	100	100	100	10	10	10	1	1	1
	100	100	100	10	10	10	1	1	1



Ecris ces nombres en lettres:

359: \_\_\_\_\_

358: \_\_\_\_\_

245: \_\_\_\_\_

367: \_\_\_\_\_

195: \_\_\_\_\_

785: \_\_\_\_\_

Complète le tableau:

		325		
			675	
	789			
				400
		179		
697				
	841			
			959	

Décompose comme le modèle.

$$745=700+40+5$$

658= \_\_\_\_\_

274= \_\_\_\_\_

138= \_\_\_\_\_

360= \_\_\_\_\_

Ecris ces nombres en lettres:

359: \_\_\_\_\_

358: \_\_\_\_\_

245: \_\_\_\_\_

367: \_\_\_\_\_

195: \_\_\_\_\_

785: \_\_\_\_\_

Complète le tableau:

		325		
			675	
	789			
				400
		179		
697				
	841			
			959	

Décompose comme le modèle.

$$745=700+40+5$$

658= \_\_\_\_\_

274= \_\_\_\_\_

138= \_\_\_\_\_

360= \_\_\_\_\_

Complète ce tableau.

256			
	$300 + 70 + 4$		
		5c 9d 3u	
			cent trente-huit
884			
		9c 4d 2u	
			sept cent six
450			
	$600 + 90 + 3$		

Complète ce tableau.

256			
	$300 + 70 + 4$		
		5c 9d 3u	
			cent trente-huit
884			
		9c 4d 2u	
			sept cent six
450			
	$600 + 90 + 3$		

Complète ce tableau.

256			
	$300 + 70 + 4$		
		5c 9d 3u	
			cent trente-huit
884			
		9c 4d 2u	
			sept cent six
450			
	$600 + 90 + 3$		

Continue ces files numériques.

235 - \_\_\_\_ - \_\_\_\_ - \_\_\_\_ - \_\_\_\_ - \_\_\_\_ - \_\_\_\_ - \_\_\_\_ - \_\_\_\_ - \_\_\_\_

377 - \_\_\_\_ - \_\_\_\_ - \_\_\_\_ - \_\_\_\_ - \_\_\_\_ - \_\_\_\_ - \_\_\_\_ - \_\_\_\_ - \_\_\_\_

695 - \_\_\_\_ - \_\_\_\_ - \_\_\_\_ - \_\_\_\_ - \_\_\_\_ - \_\_\_\_ - \_\_\_\_ - \_\_\_\_ - \_\_\_\_

802 - \_\_\_\_ - \_\_\_\_ - \_\_\_\_ - \_\_\_\_ - \_\_\_\_ - \_\_\_\_ - \_\_\_\_ - \_\_\_\_ - \_\_\_\_

98 - \_\_\_\_ - \_\_\_\_ - \_\_\_\_ - \_\_\_\_ - \_\_\_\_ - \_\_\_\_ - \_\_\_\_ - \_\_\_\_ - \_\_\_\_ - \_\_\_\_

182 - \_\_\_\_ - \_\_\_\_ - \_\_\_\_ - \_\_\_\_ - \_\_\_\_ - \_\_\_\_ - \_\_\_\_ - \_\_\_\_ - \_\_\_\_

498 - \_\_\_\_ - \_\_\_\_ - \_\_\_\_ - \_\_\_\_ - \_\_\_\_ - \_\_\_\_ - \_\_\_\_ - \_\_\_\_ - \_\_\_\_

Entoure dans chaque liste le nombre le plus petit.

707	770	706	750	760	705	704	740	709	701
-----	-----	-----	-----	-----	-----	-----	-----	-----	-----

897	879	978	789	987	798	788	977	876	769
-----	-----	-----	-----	-----	-----	-----	-----	-----	-----

963	965	973	975	969	964	974	973	961	978
-----	-----	-----	-----	-----	-----	-----	-----	-----	-----

Continue ces files numériques.

235 - \_\_\_\_ - \_\_\_\_ - \_\_\_\_ - \_\_\_\_ - \_\_\_\_ - \_\_\_\_ - \_\_\_\_ - \_\_\_\_ - \_\_\_\_

377 - \_\_\_\_ - \_\_\_\_ - \_\_\_\_ - \_\_\_\_ - \_\_\_\_ - \_\_\_\_ - \_\_\_\_ - \_\_\_\_ - \_\_\_\_

695 - \_\_\_\_ - \_\_\_\_ - \_\_\_\_ - \_\_\_\_ - \_\_\_\_ - \_\_\_\_ - \_\_\_\_ - \_\_\_\_ - \_\_\_\_

802 - \_\_\_\_ - \_\_\_\_ - \_\_\_\_ - \_\_\_\_ - \_\_\_\_ - \_\_\_\_ - \_\_\_\_ - \_\_\_\_ - \_\_\_\_

98 - \_\_\_\_ - \_\_\_\_ - \_\_\_\_ - \_\_\_\_ - \_\_\_\_ - \_\_\_\_ - \_\_\_\_ - \_\_\_\_ - \_\_\_\_ - \_\_\_\_

182 - \_\_\_\_ - \_\_\_\_ - \_\_\_\_ - \_\_\_\_ - \_\_\_\_ - \_\_\_\_ - \_\_\_\_ - \_\_\_\_ - \_\_\_\_

498 - \_\_\_\_ - \_\_\_\_ - \_\_\_\_ - \_\_\_\_ - \_\_\_\_ - \_\_\_\_ - \_\_\_\_ - \_\_\_\_ - \_\_\_\_

Entoure dans chaque liste le nombre le plus petit.

707	770	706	750	760	705	704	740	709	701
-----	-----	-----	-----	-----	-----	-----	-----	-----	-----

897	879	978	789	987	798	788	977	876	769
-----	-----	-----	-----	-----	-----	-----	-----	-----	-----

963	965	973	975	969	964	974	973	961	978
-----	-----	-----	-----	-----	-----	-----	-----	-----	-----



1- Place le signe < ou >.

98 \_\_\_ 88      72 \_\_\_ 62      87 \_\_\_ 97  
65 \_\_\_ 75      86 \_\_\_ 96      79 \_\_\_ 69  
92 \_\_\_ 82      73 \_\_\_ 83      74 \_\_\_ 64

2- Même exercice.

175 \_\_\_ 157      128 \_\_\_ 182      132 \_\_\_ 123  
154 \_\_\_ 145      139 \_\_\_ 193      100 \_\_\_ 200  
108 \_\_\_ 180      124 \_\_\_ 142      117 \_\_\_ 171

3- Même exercice.

498 \_\_\_ 488      372 \_\_\_ 362      287 \_\_\_ 297  
265 \_\_\_ 275      486 \_\_\_ 496      179 \_\_\_ 169  
392 \_\_\_ 382      173 \_\_\_ 183      174 \_\_\_ 164

4- Même exercice.

987 ..... 978      879 ..... 897      789 ..... 798  
586 ..... 568      899 ..... 998      707 ..... 770  
909 ..... 990      879 ..... 798      788 ..... 878  
502 ..... 520      745 ..... 754      997 ..... 799  
777 ..... 707      807 ..... 708      568 ..... 685

1- Place le signe < ou >.

98 \_\_\_ 88      72 \_\_\_ 62      87 \_\_\_ 97  
65 \_\_\_ 75      86 \_\_\_ 96      79 \_\_\_ 69  
92 \_\_\_ 82      73 \_\_\_ 83      74 \_\_\_ 64

2- Même exercice.

175 \_\_\_ 157      128 \_\_\_ 182      132 \_\_\_ 123  
154 \_\_\_ 145      139 \_\_\_ 193      100 \_\_\_ 200  
108 \_\_\_ 180      124 \_\_\_ 142      117 \_\_\_ 171

3- Même exercice.

498 \_\_\_ 488      372 \_\_\_ 362      287 \_\_\_ 297  
265 \_\_\_ 275      486 \_\_\_ 496      179 \_\_\_ 169  
392 \_\_\_ 382      173 \_\_\_ 183      174 \_\_\_ 164

4- Même exercice.

987 ..... 978      879 ..... 897      789 ..... 798  
586 ..... 568      899 ..... 998      707 ..... 770  
909 ..... 990      879 ..... 798      788 ..... 878  
502 ..... 520      745 ..... 754      997 ..... 799  
777 ..... 707      807 ..... 708      568 ..... 685