

Prénom : _____

Date : / /

Evaluation Mesures

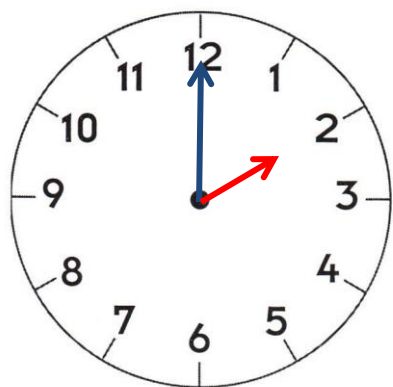
Avril 2013

Je sais lire, indiquer, représenter les heures entières et les demi-heures.

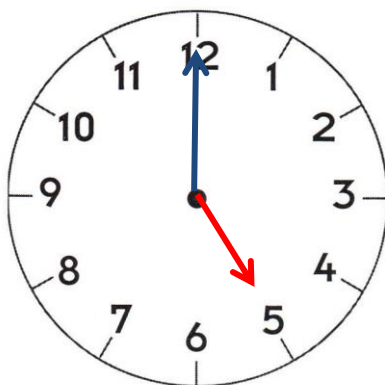
Note sur 10 : /10

Moyenne classe : /10

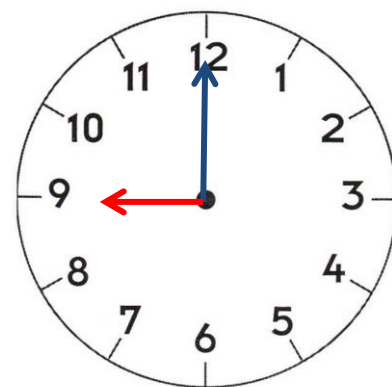
1- Complète l'heure de chaque pendule.



Il est _____ heures.

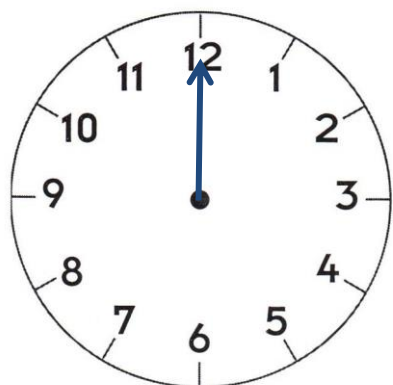


Il est _____ heures.

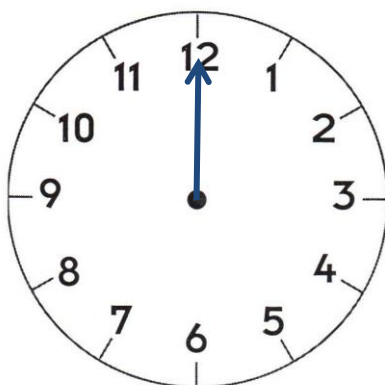


Il est _____ heures.

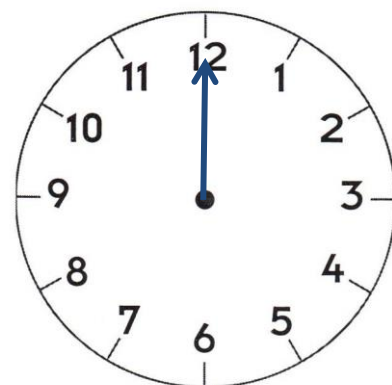
2- Dessine la petite aiguille rouge pour l'heure indiquée.



Il est 3 heures.

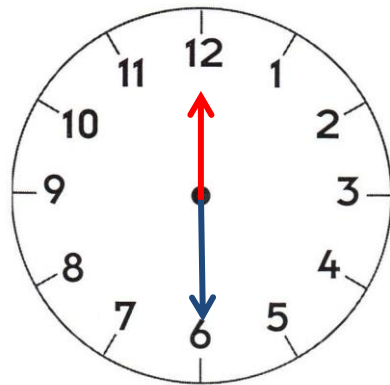
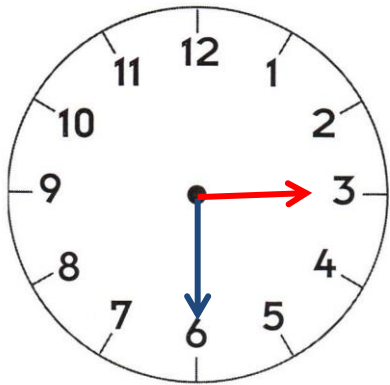


Il est 6 heures.



Il est 10 heures.

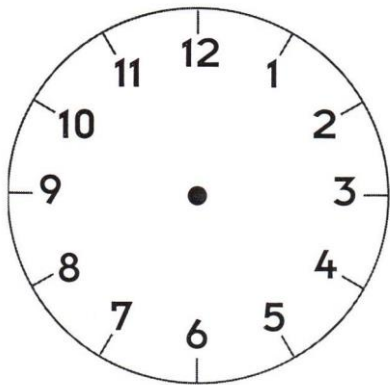
3- Complète l'heure de chaque pendule.



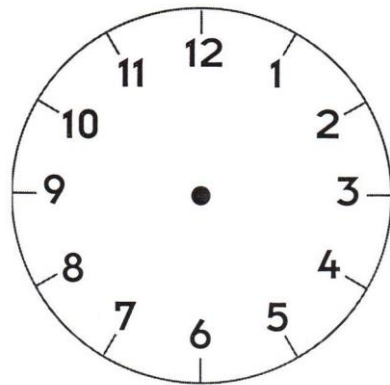
Il est _____ heures et _____.

Il est _____ heures et _____.

4- Dessine la petite aiguille rouge (heure) et la grande aiguille bleue (minutes) pour l'heure indiquée.



Il est 8 heures et demie.



Il est 2 heures et demie.