



Mathématiques CP - Année 2016/2017 - Bilan 5

Date : _____

Ton prénom : _____



1 Ecris les nombres dictés.

● ■ ★ ☾ ♥ ▲

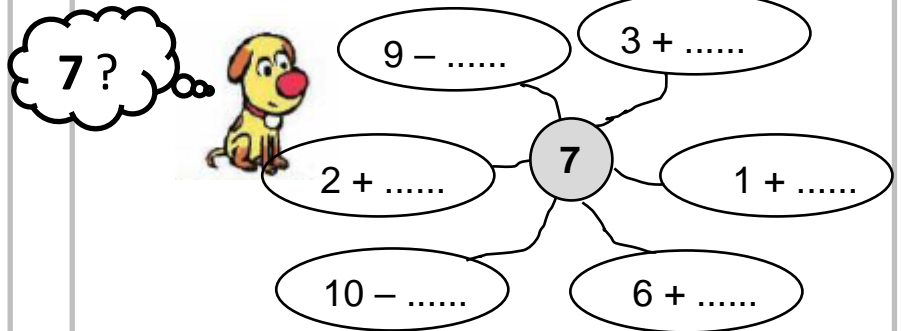
2 Ecris les réponses.

● ■ ★ ☾ ♥ ▲

3 Ecris les résultats.

- $3 + 4 + 2 = \dots$
- $1 + 4 + 5 = \dots$
- $2 + 3 + 2 + 4 = \dots$
- $4 + 1 + 5 + 1 = \dots$

4 Complète pour que le résultat soit égal à 7.



5 Complète les bons de commande.

Attention, il n'est pas possible de commander plus de 9 boutons seuls.






Il faut 34 boutons.
 Ma commande :
 paquets de 10 boutons,
 boutons.



Il faut boutons.
 Ma commande :
 2 paquets de 10 boutons,
 8 boutons.


6 Relie chaque personnage à son paquet de gommettes.

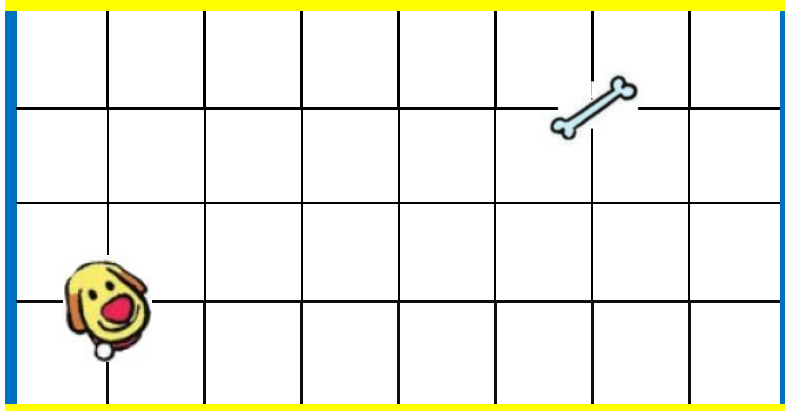



25 gommettes

18 gommettes

34 gommettes

7  **Trace** le chemin de gribouille. Il se dirige toujours vers la couleur indiquée par le dé.
 Si le dé est vert, il peut choisir sa direction.



8  **Complète** les dates. Utilise cet extrait de calendrier.

→ 8 janvier.

→ Mardi 7 janvier.

→ Le 19 janvier est un

→ Ecris la date du lendemain du jeudi 26 janvier


.....

→ Le dernier vendredi du mois de janvier est le

→ Le premier jour du mois de janvier est un



JANVIER 2017	
1	dimanche
2	lundi
3	mardi
4	mercredi
5	jeudi
6	vendredi
7	samedi
8	dimanche
9	lundi
10	mardi
11	mercredi
12	jeudi
13	vendredi
14	samedi
15	dimanche
16	lundi
17	mardi
18	mercredi
19	jeudi
20	vendredi
21	samedi
22	dimanche
23	lundi
24	mardi
25	mercredi
26	jeudi
27	vendredi
28	samedi
29	dimanche
30	lundi
31	mardi

9  **Termine** la frise

