



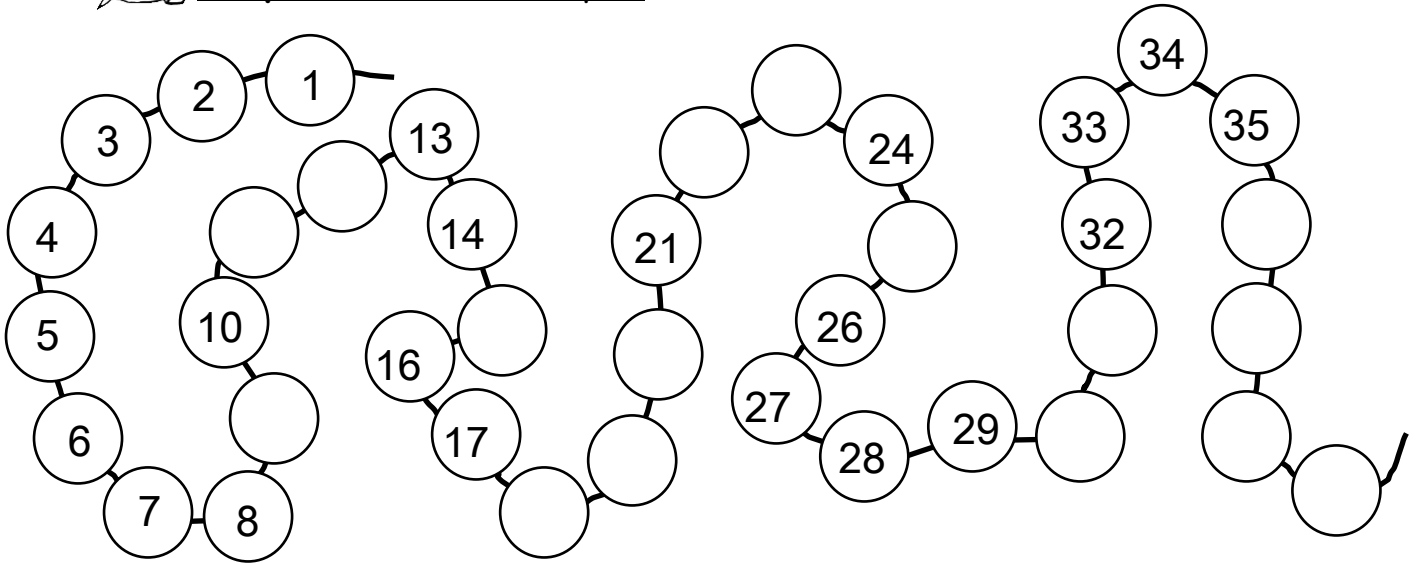
Je fais le point - 2

Mon prénom :

1. **Ecris** les nombres dictés. 😊 😐 😞 😢

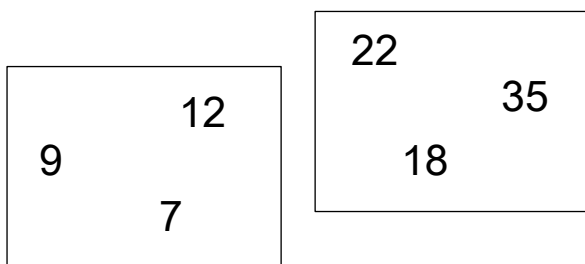


2. **Complète** la file numérique. 😊 😐 😞 😢




3. **Entoure** le plus grand nombre dans chaque boîte.

Dessine une croix sous le plus petit nombre.



4. **Colorie** le personnage qui a le plus de billes.

Entoure le personnage qui a le moins de billes.



5. **Ecris** le résultat des calculs dictés. 😊 😐 😞 😢



6.  **Complète.** 😊 😐 😞 😢

$3 + 2 = \dots\dots$

$6 + 2 = \dots\dots$

$8 - 1 = \dots\dots$

$4 + 3 = \dots\dots$



$5 + 5 = \dots\dots$

$5 - 2 = \dots\dots$




$7 + 3 = \dots\dots$


$4 - 1 = \dots\dots$

$10 - 9 = \dots\dots$

7.  **Écoute** bien l'histoire lue par la maîtresse et  **écris** la réponse pour chaque personnage.



😊 😐 😞 😢




8.  **Arthur** a un paquet de 8 images. Il veut mettre autant d'images dans chacune des deux enveloppes.

Combien d'images y aura-t-il dans chaque enveloppe ?

😊 😐 😞 😢



Il y aura images dans chaque enveloppe.

9.  **Relie** les points à l'aide de la règle pour former un rectangle. 😊 😐 😞 😢

