

Prénom : _____

Date : _____


Signature
des parents

CMI

Evaluation de Maths 5

Appréciation

Soin, présentation



1. Connaître et utiliser
les demi, quart, tiers

1 Complète

La moitié de 60 est _____

30 est le tiers de _____

47 est la moitié de _____

Le quart de 100 est _____

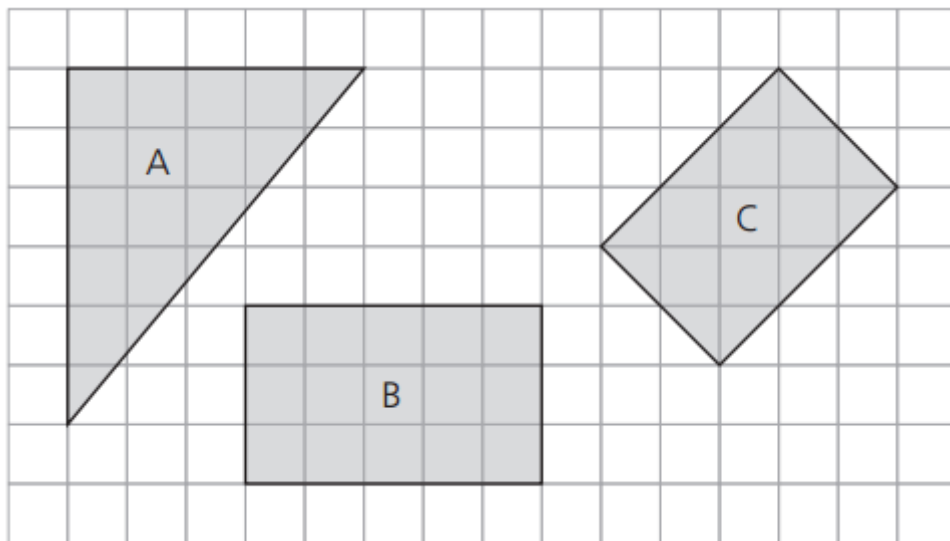
Le tiers de 75 est _____

20 est le quart de _____

2. Mesurer l'aire de surfaces, les classer et
les ranger selon leur aire

2 Quels figures ont la même aire ?

Ce sont les
figures :



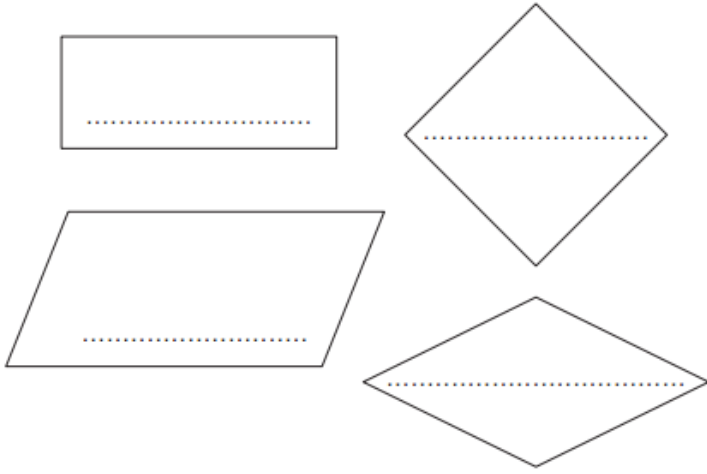
3. Construire une surface qui a même aire
qu'une surface donnée.

3 Construis un rectangle et un carré qui ont une aire de 16 carreaux.

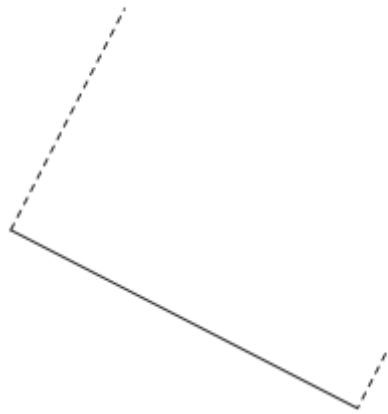


4. Reconnaître les quadrilatères à partir de leurs propriétés et les tracer.

4 Ecris le nom de ces quadrilatères



5 Termine la construction de ce carré



5 Lis cet énoncé de problème.

308 touristes prennent place sur un bateau. Lors du premier arrêt, 98 passagers descendent et 69 montent. Combien de passagers ce bateau transporte-t-il lorsqu'il repart ?

a) Entoure le schéma qui correspond à ce problème

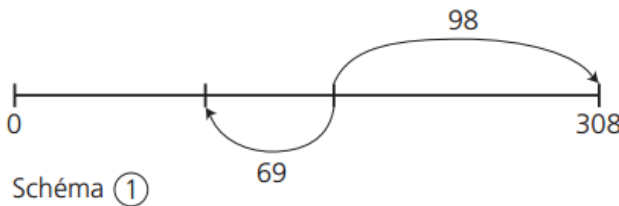


Schéma ①

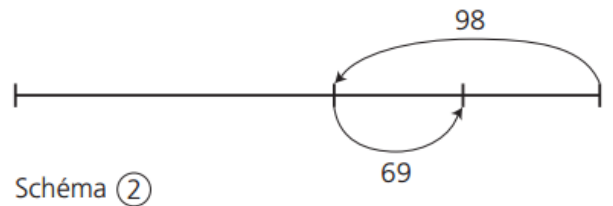


Schéma ②

b) Résous ce problème

Calculs

réponse

6 Résous ce problème.

Une bouteille contient 200 cL d'eau. J'en reverse le quart. Combien d'eau reste-t-il dans la bouteille ?

Calculs

réponse

6. Résoudre en utilisant les connaissances sur les nombres et opérations.