

Des outils pour l'Histoire

I) Les chiffres romains

Leçon à apprendre par cœur :

La numération romaine est toujours utilisée de nos jours, pour désigner les siècles et les rois par exemple.

Dans ce système, **Il existe 7 signes pour écrire les nombres :**

I : 1 V : 5 X : 10 L : 50 C : 100 D : 500 M : 1.000

Pour écrire les nombres, ils n'ont pas le droit d'utiliser plus de **trois symboles identiques** côte à côte.

La valeur d'un chiffre s'ajoute ou se soustrait selon sa place.

Ainsi, le nombre 13 s'écrit XIII ($X + I + I + I$).

Le nombre 19 s'écrit XIX ($X + X - I$ car le I qui est plus petit que X est placé avant).

Pour écrire le nombre 4 , on n'écrit pas IIII mais IV (c'est-à-dire $5 - 1$; si on l'écrit VI , on lit 6)

Pour écrire le nombre 9 , on n'écrit pas VIIII mais IX (c'est-à-dire $10 - 1$; si on l'écrit XI , on lit 11)

Pour écrire le nombre 90 , on écrit XC (c'est-à-dire $100 - 10$; si on l'écrit CX , on lit 110)

1999 s'écrit : M C M X C I X

Complète ce tableau avec les nombres de 1 à 20 en chiffres romains :

1	2	3	4	5	6	7	8	9	10
I	II			V					X

11	12	13	14	15	16	17	18	19	20
XI			XIV						XX

Des outils pour l'Histoire

Complète le tableau suivant :

En chiffres romains	En lettres	En chiffres arabes
	Vingt-deux	
	Quarante-huit	
	Soixante	
	Quatre-vingt-dix-sept	
	Cent cinquante-deux	

II) La date

Dans beaucoup de documents officiels les mois ne sont pas écrits en lettres mais en chiffres.

En effet, le mois est remplacé par un chiffre correspondant à son ordre dans l'année.

Exemple : mars est le troisième mois de l'année, donc le 6 mars 2004 sera codé : 06/03/2004.

À quelles dates correspondent ces codes?

18/04/1547

08/09/102

02/02/2002

15/11/1473

Code ces dates

16 mai 1541

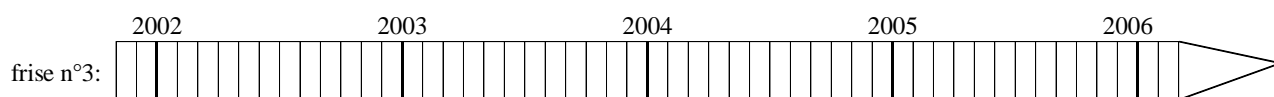
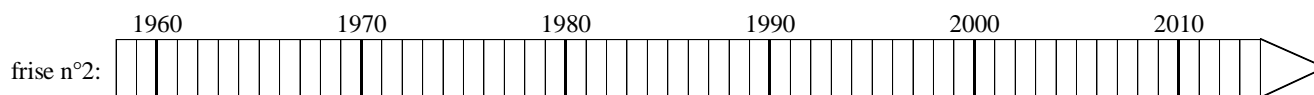
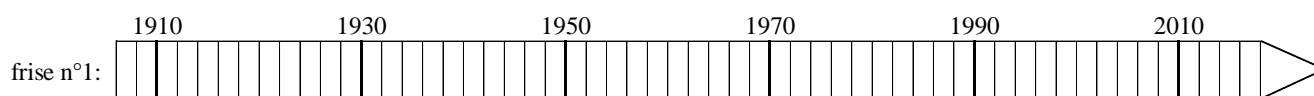
2 août 1207

7 mars 891

26 juillet 1608

Des outils pour l'Histoire

III) La frise chronologique



- a) **Sur la frise n°1, colorie en vert la partie qui correspond à la frise n°2.**
b) **Sur la frise n°2, colorie en orange la partie qui correspond à la frise n°3.**
c) **Complète ce tableau :**

frise	temps représenté par une petite graduation	temps représenté par une grosse graduation
n°1		
n°2		
n°3		

- d) Voici la vie de Claire. **Choisis la frise la mieux adaptée et place les grandes dates de la vie de Claire dessus.**

- A. 07 octobre 1945 : naissance de Paul le père de Claire
- B. 25 mai 1950 : naissance de Julie, la mère de Claire
- C. 21 septembre 1971 : mariage de Paul et Julie
- D. 6 mars 1973 : naissance de Marion, la sœur de Claire
- E. 15 novembre 1975 : naissance de Claire
- F. 1993 : Claire obtient son bac.
- G. 8 mai 1996 : Claire rencontre Paul.
- H. 17 août 1999 : mariage de Claire et Paul
- I. De septembre 2002 à juin 2005 : construction de la maison de Paul et Claire
- J. 12 avril 2004 : naissance de Pauline, le premier enfant de Claire.

Des outils pour l'Histoire

IV) Les types de documents

Pour étudier l'Histoire, on étudie des documents de différents types : carte, tableau, texte, illustration, photographie, monument, squelette, sculpture,...

Il faut distinguer les documents authentiques (qui datent de l'époque étudiée), de ceux qui ont été produits après.

Pour chacun de ces documents, indique de quoi il s'agit et s'ils sont authentiques.

