


CALCUL MENTAL • Énoncer des additions avec l'ajout de 5 unités.



Pour résoudre les problèmes de cette page, commence par compléter le schéma. Cela t'aidera à trouver le calcul à effectuer.

$48 + 5$

53

$(48 + 2 + 3)$

$129 + 5$

134

$9 + 5 = 14$

$898 + 5$

903

$898 + 2 + 3$

$900 + 3 = 903$

$7077 + 5$

7082

$(77 + 3) + 2$

$80 + 2 = 82$

$5999 + 5$


6004

$6000 + 5 = 6005$

$5999 + 5 = 6004$

1 *

Le requin tigre est âgé de 4 ans. La murène a 2 ans de plus que le requin. Quel est l'âge de la murène ?




$4 + 2 = 6$

La murène a 6 ans.

2 *

L'hippocampe bleu a donné naissance à 28 petits et l'hippocampe jaune à 17 petits. Combien d'hippocampes bleus de plus que d'hippocampes jaunes sont-ils nés ?




$17 + 11 = 28$ ou $28 - 17 = 11$

Il y a 11 hippocampes bleus de plus.

3 **

Louis pèse 36 kg. Il pèse 4 kg de moins qu'Anaé. Qui est le plus lourd ? ANAÉ Combien de kilogrammes pèse Anaé ?



$36 + 4 = 40$

Anaé pèse 40 kg.

4 **

Mei mesure 1 m 30 cm. Elle mesure 15 cm de plus que Zélie. Qui est la plus grande ? MEI Combien de centimètres mesure Zélie ?


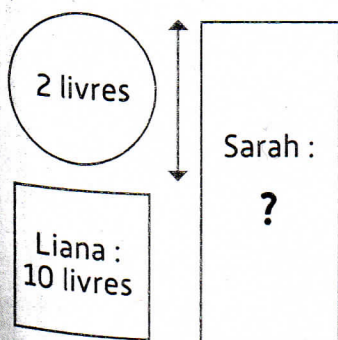


$1m30cm - 15cm = 1m15cm$

Zélie mesure 1m15.

5 ***

Nino a réalisé le schéma suivant pour trouver la solution d'un problème de mathématiques. Observe-le bien et écris l'énoncé du problème que Nino est en train de résoudre.



majuscules !
 pluriel majuscules
 Liana a 10 livres. Sarah a 2 livres de plus que Liana.
 Combien Sarah a-t-elle de livres ?
 Elle a 12 livres.