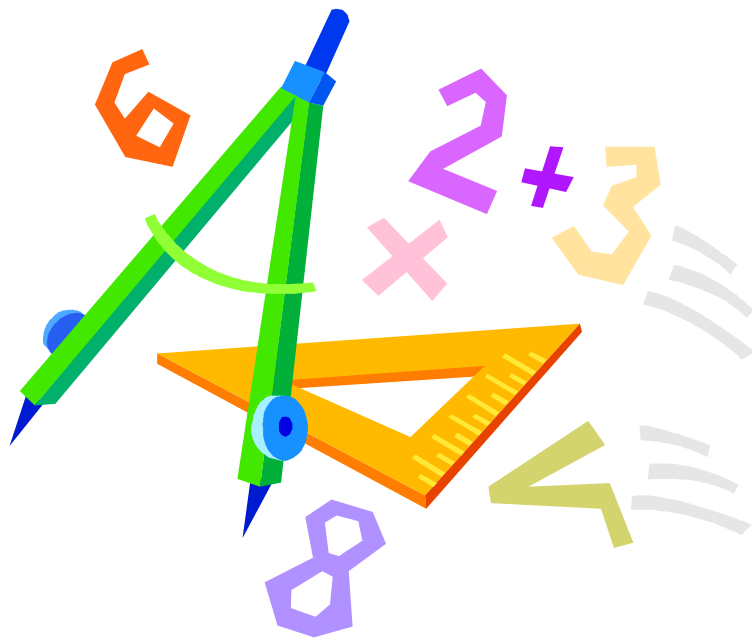


Prénom :

Mathématiques

Fichier d'autonomie n°2



Résolution de problèmes

1 Paul a 122 cartes. Julie lui en donne 95. Combien de cartes possède-t-il maintenant ?

Calcul

.....

Phrase réponse

.....

.....

Fais un dessin pour t'aider.

2 Zoé a 532 cartes. Julien lui en donne 75. Combien de cartes possède-t-elle maintenant ?

Calcul

.....

Phrase réponse

.....

.....

Fais un dessin pour t'aider.

3 Théo a 165 cartes. Max lui en donne 58. Combien de cartes possède-t-il maintenant ?

Calcul

.....

Phrase réponse





.....

.....



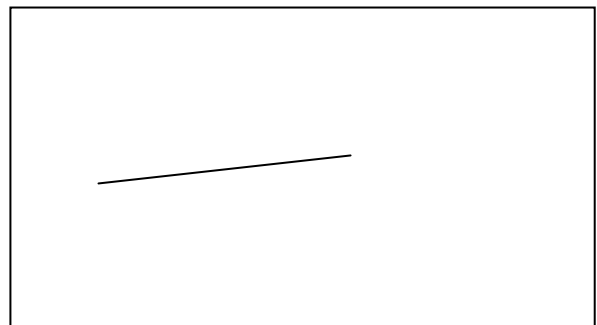
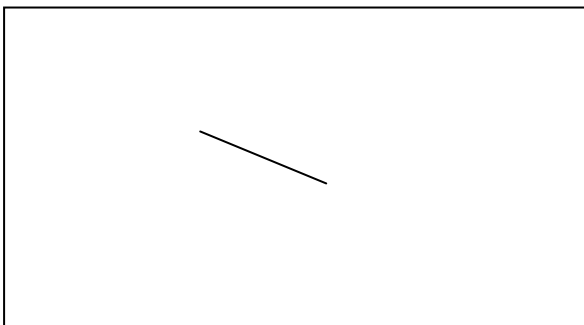
Fais un dessin pour t'aider.

Géométrie

1 Complète les figures pour obtenir des triangles.



2 Complète les figures pour obtenir des quadrilatères.



Calcul

1 Pose et effectue les additions suivantes.

$523 + 219 = \dots\dots\dots$

$345 + 55 = \dots\dots\dots$

$487 + 420 = \dots\dots\dots$

2 Pose et effectue les soustractions suivantes.

$125 - 122 = \dots\dots\dots$


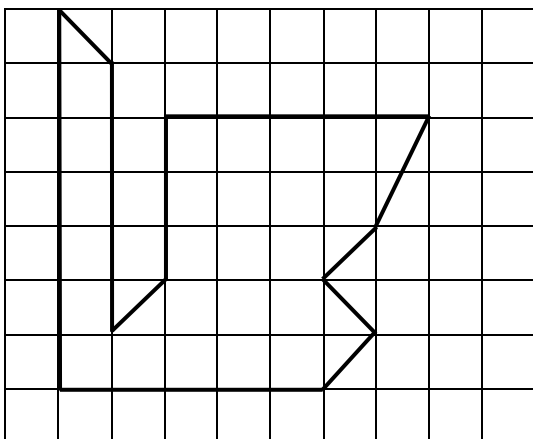

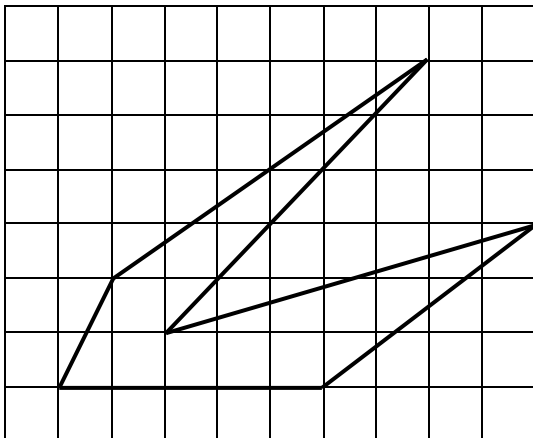

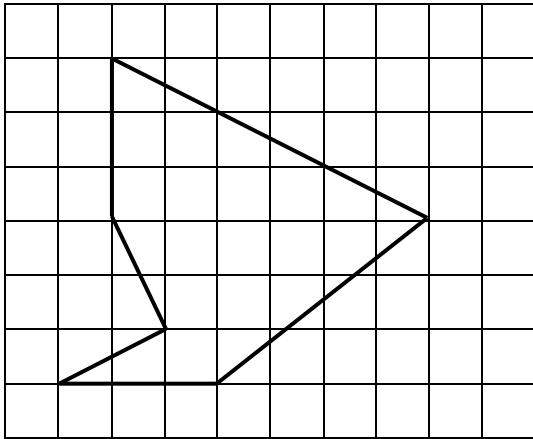
$$\begin{array}{r} \cdot \quad \cdot \\ - \quad \cdot \quad \cdot \\ \hline \cdot \quad \cdot \end{array}$$

$355 - 134 = \dots\dots\dots$

$$\begin{array}{r} \cdot \quad \cdot \\ - \quad \cdot \quad \cdot \\ \hline \cdot \quad \cdot \end{array}$$

Géométrie

Reproduis les figures sur les quadrillages de droite.



Numération

1 Complète les frises.

150	155	170	...	180
-----	-----	-----	-----	-----	-----	-----	-----	-----	-----

534	533	530
-----	-----	-----	-----	-----	-----	-----	-----	-----	-----

370	360	330
-----	-----	-----	-----	-----	-----	-----	-----	-----	-----

495	496	499
-----	-----	-----	-----	-----	-----	-----	-----	-----	-----

2 Complète le tableau en t'aidant du modèle.

329	3 c 2 d 9 u	$300 + 20 + 9$
716
.....	8 c 8 d
642
.....	$100 + 50 + 7$
.....	4 c 2 u
.....	$300 + 3$
940

Organisation et gestion de données

1



430 €



253 €



16 €

Réponse

Calcul

Sandra va payer

2



112 €



8 €



33 €

Réponse


Calcul

Justin va payer

3



382 €



114 €



35 €

Réponse

Calcul

Frédéric va payer

Mesures de longueurs

1 Mesure la longueur du segment et complète la phrase.



Le segment mesure cm.

2 Trace un segment de 14 cm de longueur.



3 Prolonge le segment pour qu'il mesure 7 cm.



4 Mesure la longueur la ligne brisée.



La ligne brisée mesure cm.