



# Les nombres de 0 à 20 (1)

1 Dictée de nombres.

a 5    b 8    c 9    d 3    e 10    f 4

2 Lis les étiquettes et écris-les à la bonne place.

cinq    un    quatre    six    dix  
huit    sept    trois    neuf    deux



1: \_\_\_\_\_    2: \_\_\_\_\_    3: \_\_\_\_\_  
4: \_\_\_\_\_    5: \_\_\_\_\_    6: \_\_\_\_\_  
7: \_\_\_\_\_    8: \_\_\_\_\_    9: \_\_\_\_\_  
10: \_\_\_\_\_

3 Complète. Sur chaque ligne, les nombres doivent se suivre de 1 en 1.

2	3	4									
9	10	11									
				4	5	6					

4 Rangé les nombres du plus petit au plus grand.

0 - 5 - 9 - 2 - 6 - 7 - 3



-----





# Les nombres de 0 à 20 (2)

1 Dictée de nombres en lettres.

a quatre    b deux    c cinq    d trois    e un

2 Relie les étiquettes à leur place sur la droite numérique.

un

cinq

trois

deux

dix



0

5

10

quatre

sept

six

neuf

huit

3 Ecris le résultat de ces opérations en lettres.

huit + un = \_\_\_\_\_

quatre + deux = \_\_\_\_\_

trois + cinq = \_\_\_\_\_

quatre + un = \_\_\_\_\_

six + quatre = \_\_\_\_\_

un + deux = \_\_\_\_\_

deux + sept = \_\_\_\_\_

trois + un = \_\_\_\_\_



# Les nombres de 0 à 20 (3)

1 Dictée de nombres en lettres.

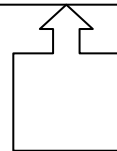

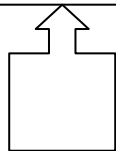

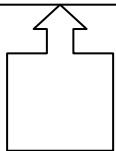

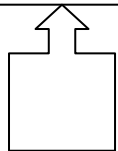
a un      b deux      c trois      d quatre      e cinq

2 Complète avec < , > ou =.

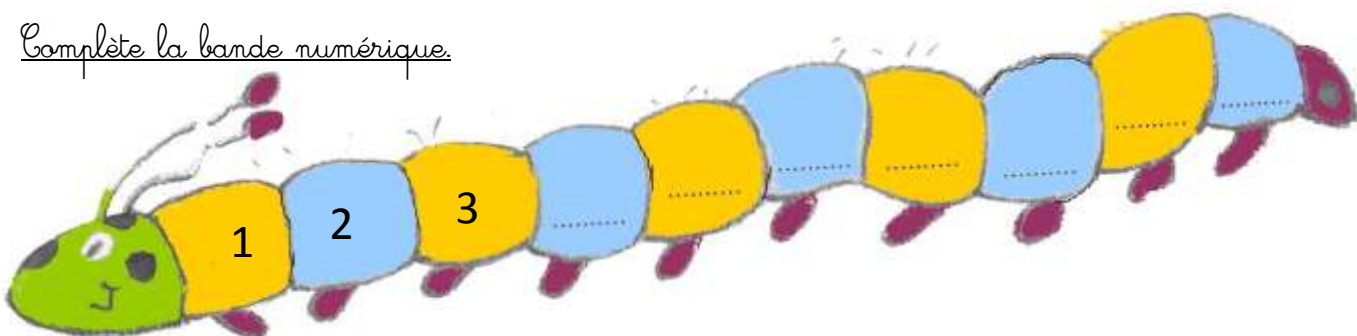


3 ... 7	9 ... 7	7 ... 6 + 1	4 + 1 ... 7
5 ... 6	7 ... 6	5 ... 5	3 + 4 ... 6
2 ... 9	10 ... 9	9 ... 3 + 6	2 + 5 ... 9

3 Ecris le nombre qui convient.



4 Complète la bande numérique.





# Les nombres de 0 à 20 (4)

1 Dictée de nombres en lettres.

a  b  c  d  e

2 Lis les étiquettes et écris-les à la bonne place.



11 : \_\_\_\_\_ 12 : \_\_\_\_\_ 13 : \_\_\_\_\_  
14 : \_\_\_\_\_ 15 : \_\_\_\_\_ 16 : \_\_\_\_\_  
17 : \_\_\_\_\_ 18 : \_\_\_\_\_ 19 : \_\_\_\_\_  
20 : \_\_\_\_\_

3 Complète. Sur chaque ligne, les nombres doivent se suivre de 2 en 2.

0	2	4								
3	5	7								
				10	12	14				


4 Range les nombres du plus petit au plus grand.

10 - 15 - 9 - 12 - 6 - 17 - 3



-----





# Les nombres de 0 à 20 (5)

1 Dictée de nombres.

a 11

b 16

c 20

d 18

e 13

f 15

2 Relie les étiquettes à leur place sur la droite numérique.

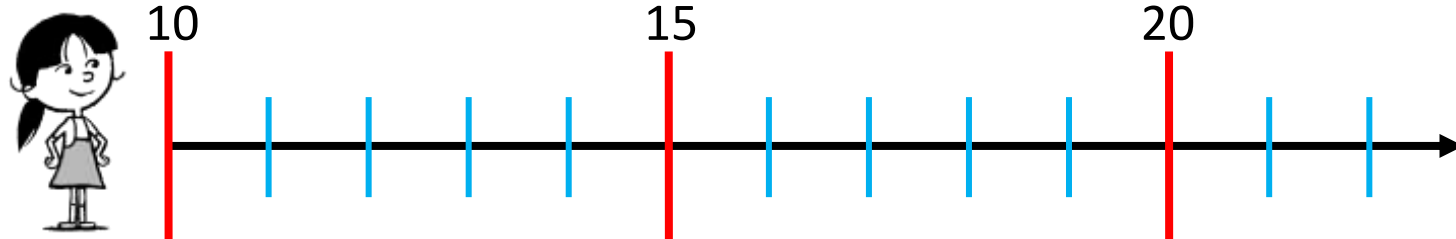
onze

quinze

treize

douze

vingt



quatorze

dix-sept

seize

dix-neuf

dix-huit

3 Ecris le résultat de ces opérations en lettres.

huit + dix = \_\_\_\_\_

neuf + deux = \_\_\_\_\_

trois + onze = \_\_\_\_\_

quatre + treize = \_\_\_\_\_

seize + quatre = \_\_\_\_\_

dix + deux = \_\_\_\_\_

dix + sept = \_\_\_\_\_

trois + seize = \_\_\_\_\_