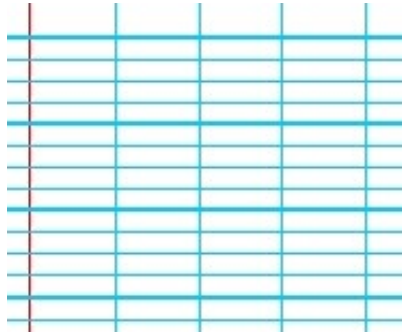
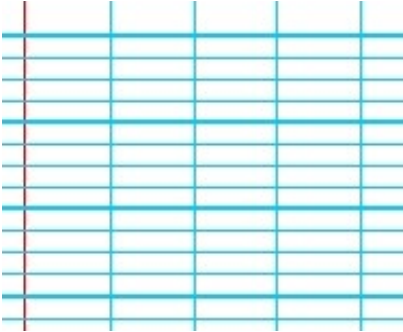


**1) Pose et calcule puis fais la preuve (Attention à la présentation).**

815 - 379 = .....

941 - 498 = .....



**2) Problèmes**

a) Alex a pris 3 cartes de 1 point et 4 cartes de 5 points. Combien a-t-il de points en tout ?

- Choisis et écris la bonne opération :


- Rédige ta réponse **en reprenant les mots de la question.**


b) Alex a pris 2 cartes de 2 points, 1 carte de 4 points et 4 cartes de 5 points. Combien a-t-il de points en tout ?

- Choisis et écris la bonne opération :


- Rédige ta réponse **en reprenant les mots de la question.**


---

Phrase grammaticale

---

Dans mon jardin, la petite taupe noire fait des gros trous !

---

---

## Compréhension

---

### Questions sur « La récré de la sorcière » chapitre 3

1) Comment s'appelle la sorcière ?

.....

2) Que fait-elle quand elle parle ?

.....

3) Pourquoi embêtait-elle tout le temps les quatre enfants d'un roi et d'une reine ?

.....

4) Quelle fin d'histoire avait choisi Julien pour la sorcière ?

.....

5) Quelle fin d'histoire avait choisi Alex pour la sorcière ?

.....

6) En quoi la sorcière transformera-t-elle les enfants s'ils parlent à leur maitresse de sa venue ?

.....

7) Qu'est-ce que la sorcière a gobé avant de disparaître ?

.....

8) Cherche le mot « faculté » dans le dictionnaire et recopie sa

définition : .....

.....

---

## conjugaison

---

❶ Complète les phrases avec les pronoms personnels sujets qui conviennent.

- |  |  |
|--|--|
| • Pour tes 9 ans, ..... auras un vélo. | • ..... aurons une voiture demain.         |
| • Samedi, ..... serai chez ma mamie.   | • Bientôt, ..... serez en Bretagne.        |
| • Ce week-end, ..... sera en Italie.   | • Pour le dessert, ..... auront un gâteau. |

❷ Complète les phrases avec le verbe *avoir* conjugué au futur.

Mercredi, j' ..... ma leçon de piano et tu ..... un cours de violon. –  
Demain, nous ..... les résultats du concours. – Cet hiver, Aly ..... besoin  
d'un manteau chaud. – Ils ..... un long trajet en voiture.



❸ Complète les phrases avec le verbe *être* conjugué au futur.

Quand nous ..... en vacances, mes cousines ..... à l'école.  
Chez le dentiste, tu ..... courageux et ta dent ..... soignée.  
Les enfants ..... ravis d'aller au cinéma, vous ..... très nombreux.

## 1) Problèmes.

Pour t'aider, tu peux utiliser le dessin et cette égalité.

$$12 \times 5 = 60$$



- Lisa veut construire 13 tours de 5 cubes.

Combien lui faudra-t-il de cubes ?

.....

- Moustik veut construire 24 tours de 5 cubes.

Combien lui faudra-t-il de cubes ?

.....

Pour t'aider, tu peux utiliser ces égalités.

$$7 \times 3 = 21$$

$$7 \times 7 = 49$$

$$7 \times 5 = 35$$

$$7 \times 10 = 70$$

Moustik veut construire des tours de 7 cubes.

Complète.

- Pour 5 tours, il faut ..... cubes.
- Pour 2 tours, il faut ..... cubes.
- Pour 6 tours, il faut ..... cubes.
- Pour 8 tours, il faut ..... cubes.
- Pour 11 tours, il faut ..... cubes.
- Pour 20 tours, il faut ..... cubes.

Utilise le résultat de  
pour calculer :

$$6 \times 8 = \dots\dots\dots$$

$$7 \times 7 = \dots\dots\dots$$

$$7 \times 6 = \dots\dots\dots$$

$$6 \times 7 = 42$$

Utilise le résultat de l'ardoise  
pour calculer :

$$6 \times 14 = \dots\dots\dots$$

$$5 \times 15 = \dots\dots\dots$$

$$14 \times 5 = \dots\dots\dots$$

$$5 \times 14 = 70$$

## 2) Relie les étiquettes qui correspondent au même résultat.

$$5 \times 30$$

$$3 \times 50$$

$$4 \times 60$$

150

2 centaines  
4 dizaines

15 dizaines

240

24 dizaines