

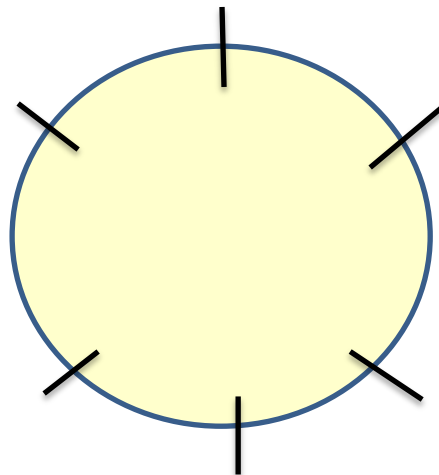
Problèmes

Groupe bleu

Problème 1 Place les jetons dans les cases. Il doit y avoir dans chaque ligne et dans chaque colonne 3 jetons de couleurs différentes.

Problème 2 Trouve comment faire 16 euros en utilisant le moins de pièces et de billets possibles avec des pièces ou des billets de 1€, 2€, 5€ ou 10€.

Problème 3 6 enfants sont assis autour d'une table ronde. Il y a Sidonie, Lola, Victor, Jules, Jérémy, Maxence et Victor.
Lola est assise en face d'une fille.
Victor est entre Sidonie et Maxence.
Lola est à droite de Maxence.
Sidonie est juste à côté de Jérémy.
Place les 6 enfants autour de cette table.




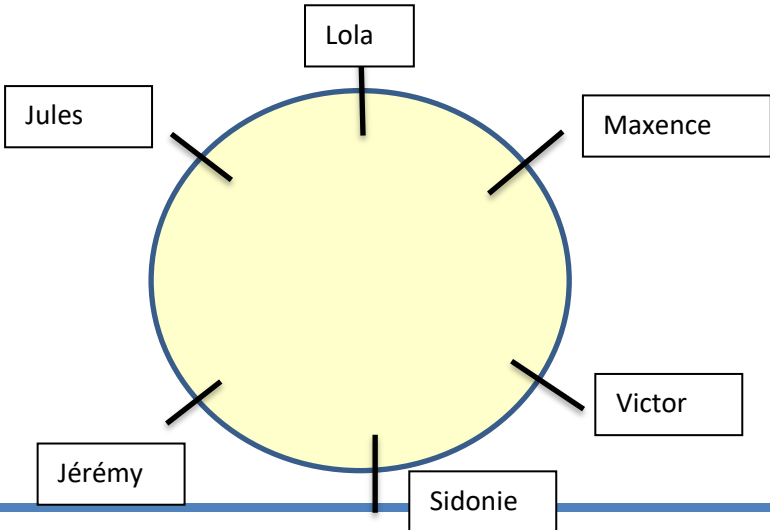
Groupe vert

Semaine 6	Problème 1	Adrien est arrivé 59 ^{ème} à la course. Anne a terminé 18 places derrière lui. A quelle place Anne est-elle arrivée ?
		Phrase réponse :
	Problème 2	La jument de mon grand-père pèse 959 kilos. Le poulain pèse 750 kilos de moins que sa mère. Quel est le poids du poulain ?
		Phrase réponse :
	Problème 3	Max a 135 euros. Théo a 47 euros de moins que lui. Combien d'argent Théo a-t-il ?
		Phrase réponse :

Groupe orange

Semaine 4	Problème 1	Emma veut s'acheter deux bagues. L'une vaut 37 euros et l'autre vaut 6 fois plus cher. Combien coûte la deuxième bague ?
		Phrase réponse :
	Problème 2	Loïc possède 272 euros sur son compte en banque. Corentin en possède 25 fois plus. Combien Corentin a-t-il d'argent ?
		Phrase réponse :
	Problème 3	Rémi et Théo collectionnent les timbres. Rémi en a 189 et Théo en a 12 fois plus. Combien Théo a-t-il de timbres dans sa collection ?
		Phrase réponse :

Fiche réponse

Semaine 6	Problème 1	<p>Semaine 6 Problème 1</p> 
	Problème 2	<p>Trouve comment faire 16 euros en utilisant le moins de pièces et de billets possibles avec des pièces ou des billets de 1€, 2€, 5€ ou 10€.</p> <p>10 euros + 5 euros + 1 euro</p>
	Problème 3	

Semaine 6	Problème 1	<p>Dans la classe de CP-CE1, il y a 19 élèves. 8 sont au CP. Combien sont au CE1 ?</p> $19 - 8 = 11$ 11 élèves sont au CE1.
	Problème 2	<p>Pour le carnaval, la maîtresse a acheté 21 masques. Il y a 12 masques de souris, 8 masques de chats et des masques de chiens. Combien y a-t-il de masques de chiens ?</p> $21 - 12 - 8 = 1$ Il y a 1 masque de chiens.
	Problème 3	<p>Le piano de Léo compte 72 touches. 24 sont noires. Combien y a-t-il de touches blanches ?</p> $72 - 24 = 48$ Il y a 48 touches blanches.

Semaine 5	Problème 1	Adrien est arrivé 59 ^{ème} à la course. Anne a terminé 18 places derrière lui. A quelle place Anne est-elle arrivée ? $59 + 18 = 77$ Phrase réponse : Anne est arrivée 77 ^{ème} .
	Problème 2	La jument de mon grand-père pèse 959 kilos. Le poulain pèse 750 kilos de moins que sa mère. Quel est le poids du poulain ? $959 - 750 = 209$ Phrase réponse : Le poulain pèse 209 kilos.
	Problème 3	Max a 135 euros. Théo a 47 euros de moins que lui. Combien d'argent Théo a-t-il ? $135 - 47 = 88$ Phrase réponse : Théo a 88 euros.

Semaine 5	Problème 1	Emma veut s'acheter deux bagues. L'une vaut 37 euros et l'autre vaut 6 fois plus cher. Combien coûte la deuxième bague ? $37 * 6 = 222$ Phrase réponse : La deuxième bague coûte 222 euros.
	Problème 2	Loïc possède 272 euros sur son compte en banque. Corentin en possède 25 fois plus. Combien Corentin a-t-il d'argent ? $272 * 25 = 6800$ Phrase réponse : Corentin a 6800 euros
	Problème 3	Rémi et Théo collectionnent les timbres. Rémi en a 189 et Théo en a 12 fois plus. Combien Théo a-t-il de timbres dans sa collection ? $189 * 12 = 2\ 268$ Phrase réponse : Théo a 2 268 timbres dans sa collection.

Papiers à distribuer si le problème est correctement résolu.

Bravo !!! Tu as gagné le chiffre	Bravo !!!!! Tu as gagné le chiffre	Bravo !!!!! Tu as gagné le chiffre
4	2	8

Indice à donner à l'oral : Il faut ranger les chiffres du plus petit au plus grand pour trouver le bon code.

Bravo !!! Tu as gagné le chiffre	Bravo !!!!! Tu as gagné le chiffre	Bravo !!!!! Tu as gagné le chiffre
1	9	2

Indice à donner à l'oral : Mon chiffre des dizaines est 2, mon chiffre des unités est 1 et mon chiffre des centaines est 9.

Bravo !!! Tu as gagné le chiffre	Bravo !!!!! Tu as gagné le chiffre	Bravo !!!!! Tu as gagné le chiffre
3	7	5

Indice à donner à l'oral : Mon chiffre des dizaines est 7 et mon chiffre des centaines est 3.

Bravo !!! Tu as gagné le chiffre	Bravo !!!!! Tu as gagné le chiffre	Bravo !!!!! Tu as gagné le chiffre
9	5	8

Indice à donner à l'oral : Si tu ranges les chiffres dans l'ordre décroissant, tu obtiendras la bonne combinaison.

Indices à cacher dans les valises.



i



??,
de,
des



,



,

nous,
???,
ils



G

??,
de,
des



