

Nom :

Prénom :

Date :

**Contrôle de géométrie-mesure n°2 – CM**

<b><u>compétences</u></b>	<b><u>A</u></b>	<b><u>PA</u></b>	<b><u>VA</u></b>	<b><u>NA</u></b>
Définir les polygones				
Reconnaître les polygones				
Connaître les caractéristiques des polygones				
Reproduire une figure				
Lire l'heure				

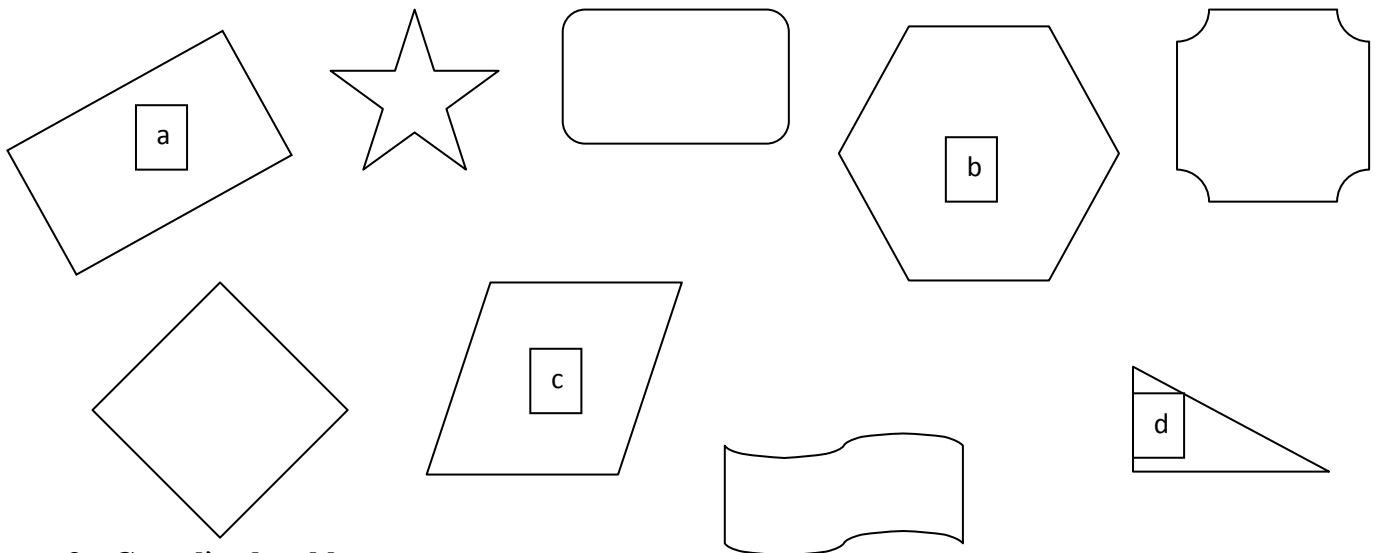
**1- Qu'est-ce qu'un polygone ?**

.....

.....

.....




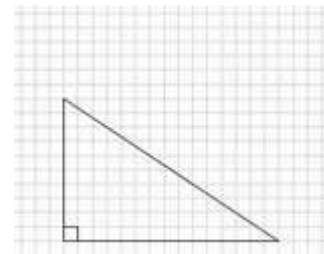
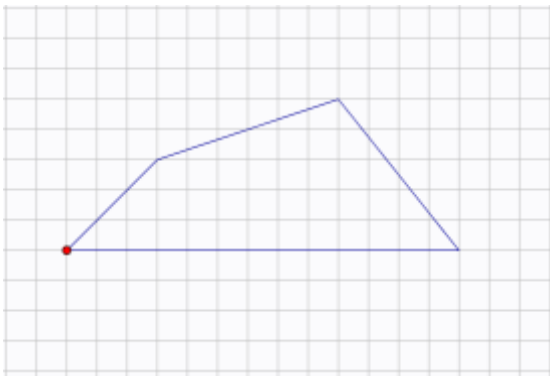
**2- Parmi ces figures, colorie sont celles qui font parti de la famille des polygones ?**




**3- Complète le tableau :**

	<b>Nombres côtés</b>	<b>Nombres sommets</b>	<b>Côtés parallèles Oui/non</b>	<b>Côtés perpendiculaires Oui/non</b>	<b>Côté égaux Oui/non</b>
<b>A</b>					
<b>B</b>					
<b>C</b>					
<b>D</b>					


**4- Reproduis les figures ci-dessous :**




**5- Indique l'heure ou complète les égalités :**



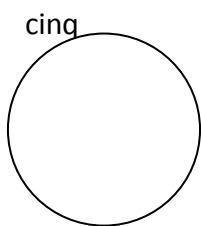
Quatre heures moins




Sept heures et quart




Neuf heures moins le quart



\_\_\_\_\_



\_\_\_\_\_



\_\_\_\_\_