

Nom :

Prénom :

Date :

Contrôle de numération n°2 – CM1

<u>compétences</u>	<u>A</u>	<u>PA</u>	<u>VA</u>	<u>NA</u>
<i>Ecrire les fractions en chiffres</i>				
<i>Ecrire les fractions en lettres</i>				
<i>Placer des fractions sur une droite</i>				
<i>Colorier une fraction donnée</i>				
<i>Représenter des fractions sous forme de schéma</i>				
<i>Représenter des fractions sous forme de droite numérique</i>				
<i>Nommer les fractions simples et décimales en utilisant le vocabulaire: demi, tiers, quart, dixième, centième.</i>				
<i>Ecrire les grands nombres sous la dictée</i>				
<i>Encadrer les grands nombres</i>				
<i>Ecrire les grands nombres en chiffres</i>				

Ex 1 : Ecris les fractions suivantes en chiffres :

Deux tiers :

vingt-cinq centièmes :

Quatre dixièmes :

neuf demis :

Cinq neuvièmes :

deux vingtièmes :

Ex 2 : Ecris les fractions suivantes en lettres :

4/5 : _____

1/2 : _____


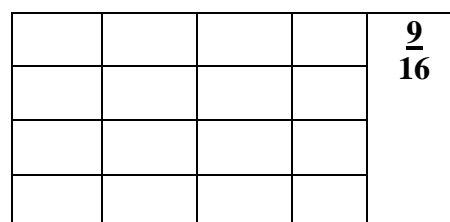
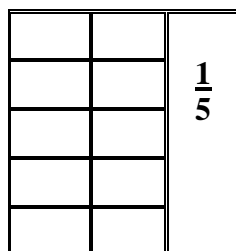
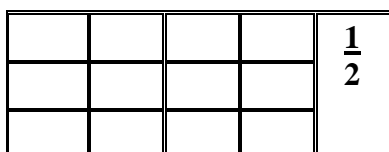
9/10 : _____

6/3 : _____

Ex 3 : Place les fractions suivantes sur la droite numérique : 4/10 ; 15/10 ; 1/10 ; 30/10 ; 35/10

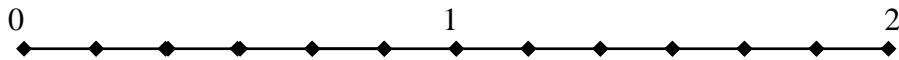


Ex 4 : Colorie dans chaque bande la fraction indiquée :

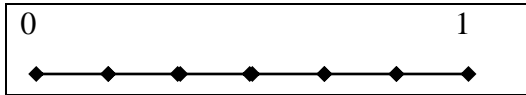


Ex 5 : Représente les fractions suivantes : $\frac{2}{3}$; $\frac{1}{2}$; $\frac{3}{4}$; $\frac{6}{10}$; $\frac{4}{8}$

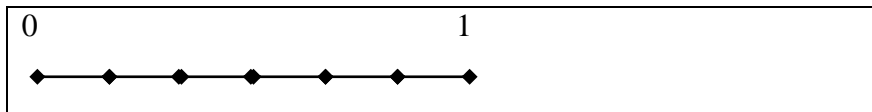
Ex 6 : Dessine les segments suivants, fractions de l'unité :



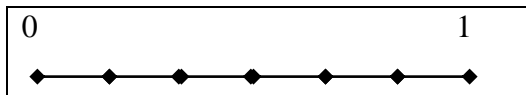
$[OM] = \frac{4}{6}$ de u



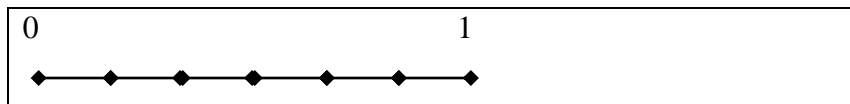
$[AB] = \frac{11}{6}$ de u



$[DV] = \frac{5}{6}$ de u



$[GP] = \frac{10}{6}$ de u



Ex 7 : Relie

Demi	❖	❖	$\frac{1}{4}$
Quart	❖	❖	$\frac{1}{10}$
Dixième	❖	❖	$\frac{1}{100}$
Centième	❖	❖	$\frac{1}{2}$
Tiers	❖	❖	$\frac{1}{3}$

Ex 8 : Dictée de nombres :

Ex 9 : Encadre les nombres suivants par le nombre AVANT et le nombre APRES :

_____ < 356 999 < _____

_____ < 1 000 000 < _____

_____ < 759 990 < _____

_____ < 3 768 998 < _____

Ex 10 : Ecris ces nombres en chiffres :

Deux-millions-trois-cent-cinquante-mille : _____

Quatre-cent-vingt-sept-mille-deux-cent-vingt-et-un : _____