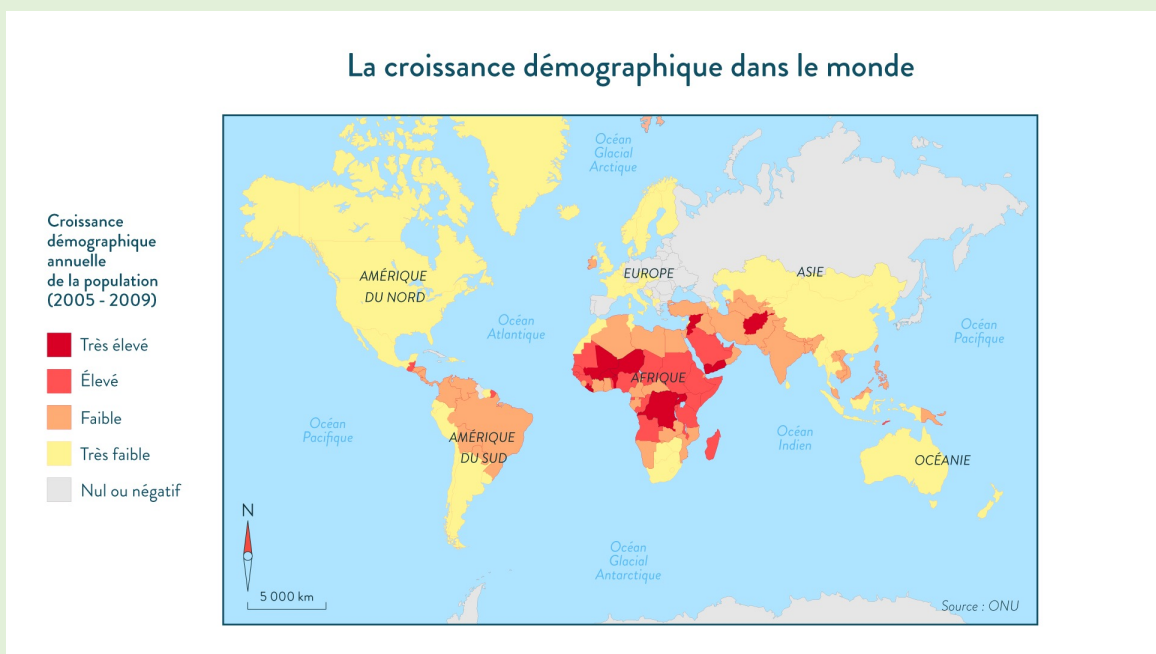



# La croissance démographique et ses effets



## Etude de documents

Source documents : Hatier

P'tit blog de Segpa



# Quels sont les principaux enjeux démographiques dans le monde ?

## Compétences:

Etudier un texte et une carte pour en extraire des informations

### Doc. 1 Le vieillissement de la population et ses conséquences

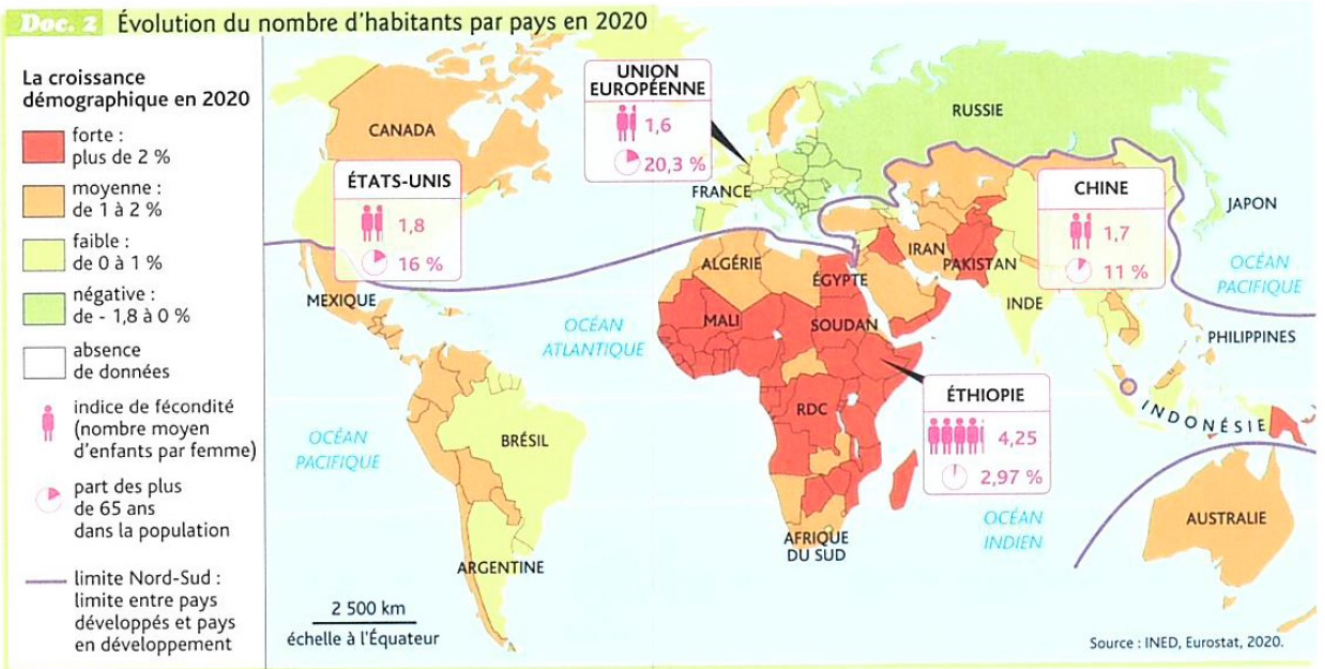
« Le monde riche commence à se rendre compte [...] du vieillissement rapide de la population. [...]

[...] Nous vivons de plus en plus longtemps, nous avons de moins en moins d'enfants et nos économies se développent de plus en plus lentement. Cela signifie qu'en fin de compte, nous aurons trop peu de travailleurs pour payer les pensions [de retraite] et les soins de santé de nos personnes âgées. Pour chaque retraité, il y a aujourd'hui moins de quatre actifs aux États-Unis. Il y en a trois en Europe et deux au Japon. Selon les Nations unies, d'ici 2050, 7 pays d'Asie, 24 pays européens et 4 pays d'Amérique compteront moins de deux actifs par retraités. [...] Pour résoudre le problème du vieillissement, il existe trois voies d'action, toutes très controversées : assouplir les règles d'immigration [...], remplir nos pays de robots [...], faire en sorte que les gens travaillent plus longtemps. »

Dominique Dewitte, « L'OCDE qualifie pour la première fois le vieillissement de "risque global" », *Business AM*, 12 juin 2019.

- 1). Entoure dans le texte l'évolution démographique qui concerne les pays riches et les causes de cette évolution.
- 2). Souligne en bleu le passage qui montre que cette évolution va concerner de plus en plus de pays.
- 3). Souligne en rouge les deux problèmes posés par cette évolution.
- 4). Comment les pays peuvent-ils faire face à ces problèmes ?

.....  
.....



5). Parmi les 4 exemples étudiés, colorie :

- en vert le nom de ceux dont la population est vieillissante et augmente peu ;
- en rouge, le nom de celui dont la population est jeune et augmente fortement.

6). Nomme un pays d'Asie et un pays d'Europe où la croissance démographique est négative.

.....

.....

# Quels sont les effets de la croissance démographique en Chine ?

## Compétences:

Etudier un tableau statistique, un texte et une caricature pour en extraire des informations

### Doc. 1 Croissance démographique et développement en Chine

Indicateurs	1970	2020	Évolution 1970-2020
Nombre d'habitants	818 millions	1 397 millions	
Espérance de vie à la naissance	59,1 années	77 années	
RNB <sup>1</sup> par habitant et par an	120 \$	10 390 \$	Multiplié par 86

Source : Banque mondiale, 2021.

I. Somme des revenus perçus par l'ensemble des habitants d'un pays.

- 1). Complète la tableau en calculant l'augmentation du nombre d'habitants et celle du nombre d'années d'espérance de vie.
- 2). Entoure les deux indicateurs montrant que, malgré la forte augmentation de la population, les conditions de vie des chinois se sont améliorées.

### Doc. 2 Des problèmes liés à la croissance démographique chinoise

« L'explosion de la démographie [...] chinoise révèle des statistiques très troublantes. [...] La croissance disproportionnée des villes chinoises a engendré le développement de problèmes [...] importants, tels qu'[une forte] pollution environnementale, une détérioration de la santé des citoyens, et une crise du logement. [...] La demande énergétique [...] a considérablement augmenté la consommation de charbon [...], une source d'énergie extrêmement polluante. Les villes chinoises [...] établissent constamment des nouveaux records de pics de pollution. [...] L'émission de gaz à effet de serre ne cesse d'augmenter. [...] Même si de nombreux efforts ont été entrepris [...], l'évolution de la population urbaine chinoise en une société de consommation<sup>1</sup> risque d'accroître les problèmes de santé, de pollution, et de logement. »

D'après William Stevens, « Chine : face une urbanisation démesurée », *The McGill International Review*, 17 décembre 2018, D.R.

I. Société dans laquelle la population est incitée à acheter des biens et des services en abondance.

- 3). Souligne les trois problèmes provoqués par l'augmentation de la population en Chine
- 4). Entoure l'énergie responsable des pics de pollution et des émissions de gaz à effet de serre.
- 5). Dans quel type d'espace ces problèmes sont-ils les plus visibles ?


Villes

campagnes



**Doc. 3** Les limites de la fin de la politique de l'enfant unique

# FIN DE LA POLITIQUE DE L'ENFANT UNIQUE EN CHINE



(Caricature de Kroll parue dans le journal belge *Le Soir*, 31 octobre 2015.)

En 2015, l'abandon de la politique de l'enfant unique, lancée en 1979, n'a pas sensiblement poussé les couples à avoir davantage de bébés, en raison notamment de l'urbanisation et du coût de la vie. Des experts estiment qu'il faudra 15 ans pour voir les effets de la politique « des deux enfants ».

6). Quelle politique avait été mise en place pour freiner l'augmentation de la population en Chine ?

.....  
.....

7). Entoure la date à laquelle cette politique a été abandonnée en raison du vieillissement de la population

8). Pourquoi l'enfant assis sur la balançoire est-il content ?

.....  
.....

9). Souligne en légende ce qui limite l'effet de cette nouvelle politique.

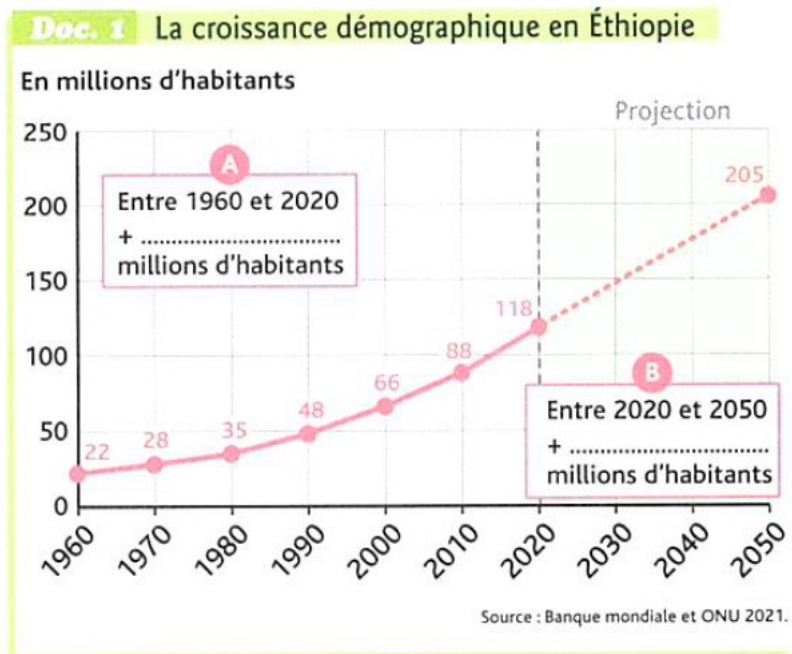
10). Dans quel délai cette nouvelle politique produira ses effets ?

.....

# Quels sont les effets de la croissance démographique en Ethiopie ?

## Compétences:

Etudier un graphique et un texte pour en extraire des informations



L'Éthiopie a une population jeune : 42 % des Éthiopiens ont moins de 15 ans.

- 1). Entoure le nombre d'habitants en Ethiopie en 2020.
- 2). Calcule et écris dans la cadre A le nombre d'habitants que le pays a gagné entre 1960 et 2020.
- 3). Calcule et écris dans la cadre B le nombre d'habitants que le pays devrait gagner entre 2020 et 2050.
- 4). D'après la légende, quel est le pourcentage de jeunes de moins de 15 ans dans la population éthiopienne ?

## Doc. 2 Les défis démographiques de l'Éthiopie

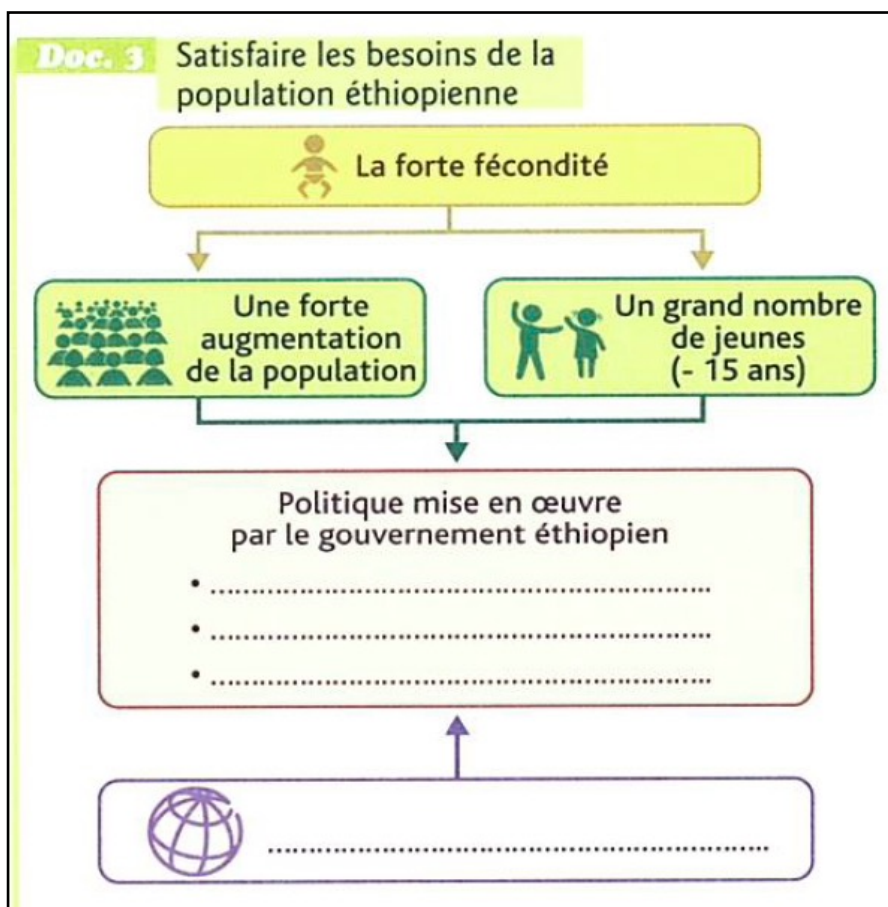
« La combinaison de trois éléments – la baisse rapide de la mortalité, la lente érosion de la fécondité et le grand nombre de jeunes – alimente la forte croissance démographique de l'Éthiopie (2,6 % par an, soit un doublement d'environ 27 ans). En 2019, les femmes éthiopiennes ont encore en moyenne 4,4 enfants. Seule une baisse plus rapide de la fécondité permettrait au taux élevé de croissance naturelle de diminuer sérieusement. [...]

Soutenu par la Banque mondiale<sup>1</sup>, le gouvernement a mis en place un vaste programme de santé, [...] et de contraception moderne, [et] d'infrastructures (routes, énergie, etc.). Des progrès significatifs ont également été réalisés dans le domaine de l'éducation, en particulier pour les jeunes filles. [...] L'Éthiopie est un géant démographique à la croisée des chemins. Les progrès importants réalisés jusqu'à présent doivent être poursuivis et renforcés si le pays veut rejoindre ainsi le groupe des économies de marché émergentes. »

D'après John F. May, « L'Éthiopie, un géant démographique à la croisée des chemins », *Population et Avenir*, n° 746, janvier-février 2020

1. Institution financière internationale qui accorde des prêts d'argent aux États.

- 5). Souligne en bleu les causes expliquant la forte croissance démographique de l'Éthiopie.
- 6). Entoure son taux de croissance annuel et son taux de fécondité.
- 7). Souligne en rouge ce qui permettrait à l'Éthiopie de limiter cette croissance démographique.



- 8). A l'aide du doc.2, écris le nom des secteurs développés par le gouvernement éthiopien pour répondre aux besoins de la population. Inscris également le nom de l'institution qui aide l'Éthiopie à se développer.