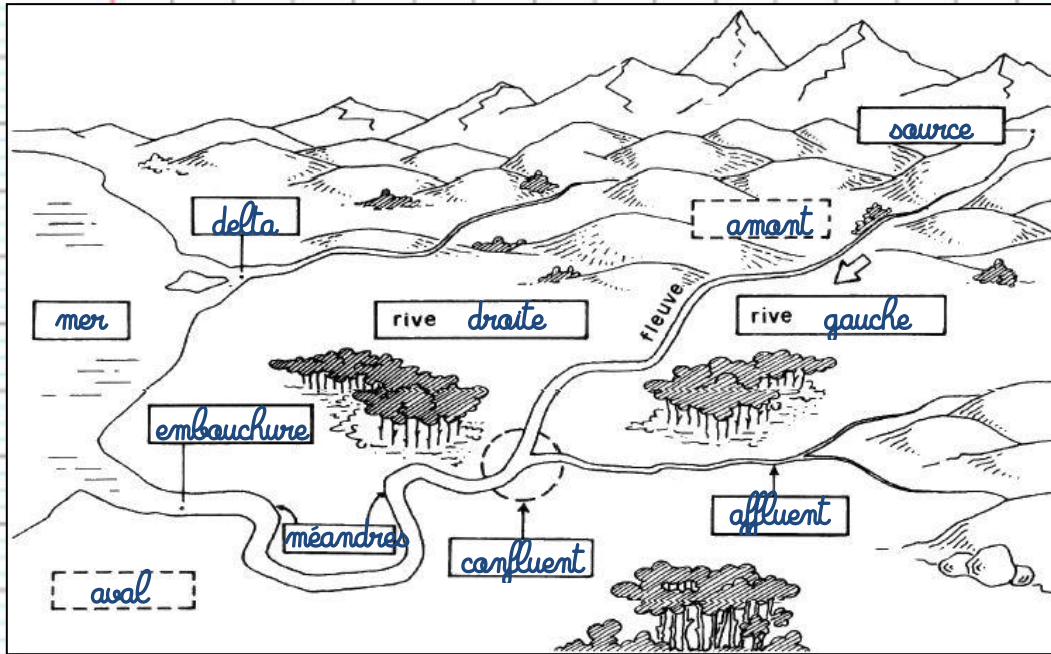
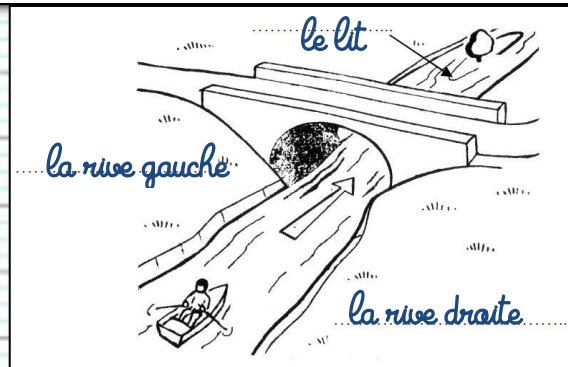
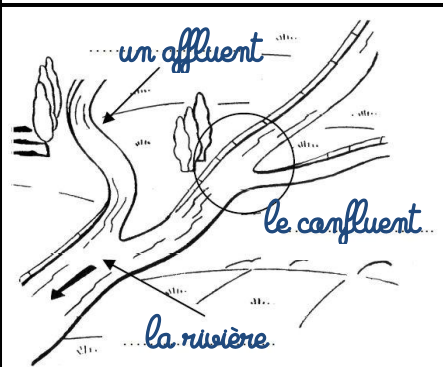


B. Les fleuves et les rivières de France


1. Les cours d'eau dans la nature



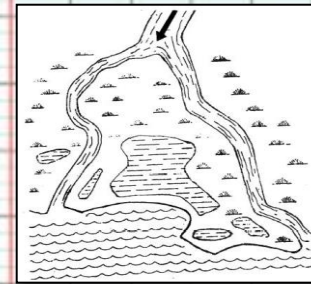
Une source donne naissance au fleuve. Il coule en descendant d'une région élevée (l'amont) vers une région basse (l'aval) et va se jeter dans la mer au niveau d'une embouchure.
En suivant le sens du courant, on trouve la rive droite à sa droite et la rive gauche à sa gauche.
D'autres rivières peuvent apporter de l'eau au fleuve, ce sont les affluents. De nombreux affluents viennent grossir les fleuves. L'endroit où deux cours d'eau se réunissent s'appelle un confluent. Parfois, les longs fleuves forment des boucles : ce sont les méandres.
Le fleuve se jette dans la mer par une embouchure ou un delta qui est une embouchure à plusieurs bras.



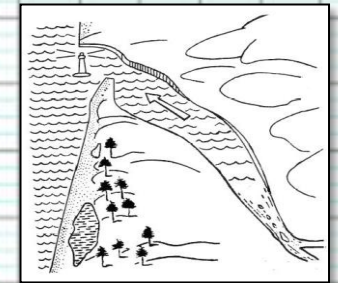
2. Les différents types d'embouchure



L'embouchure est l'endroit par lequel le fleuve se jette dans la mer.



Lorsque le fleuve se sépare en plusieurs bras au niveau de l'embouchure, on appelle cela un delta.

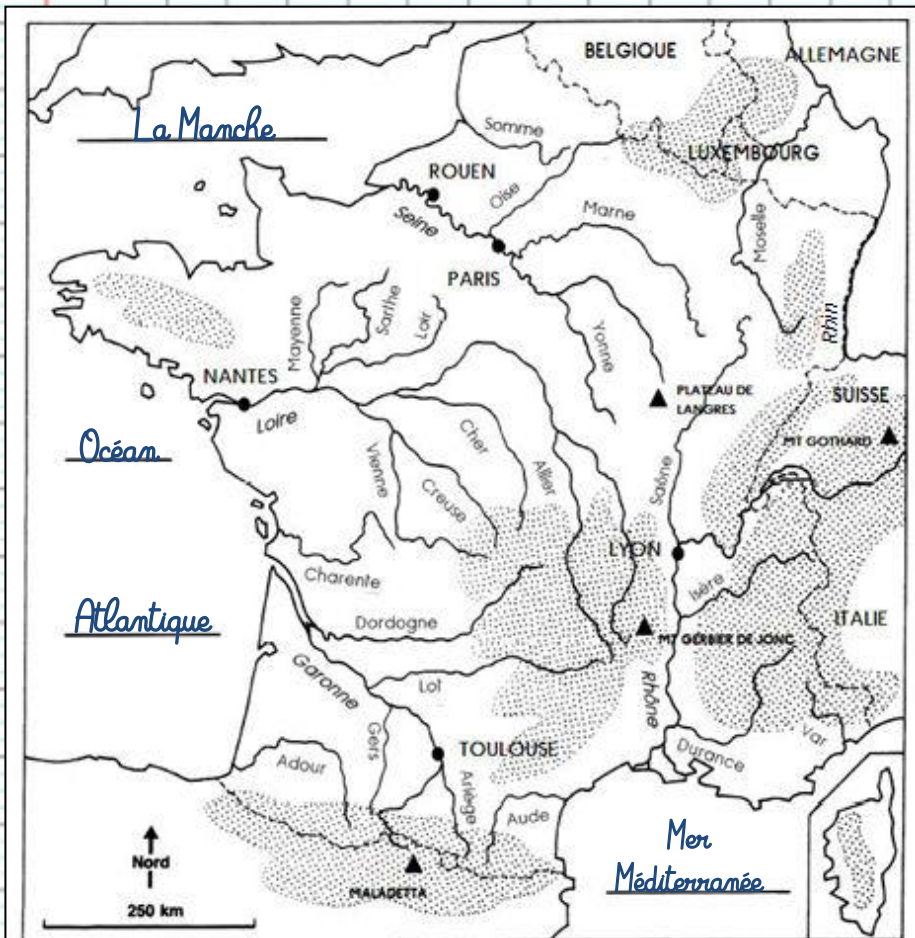


Lorsque l'embouchure s'élargit, on l'appelle un estuaire.

Je rétiens :

Les sources donnent naissance aux fleuves qui coulent d'une région élevée (l'amont) vers une région basse (l'aval) pour se jeter dans la mer ou l'océan. Les rivières sont des cours d'eau qui se jettent dans d'autres cours d'eau, ce sont des affluents des fleuves. L'endroit où les cours d'eau se rejoignent s'appelle le confluent. L'espace occupé par un cours d'eau s'appelle le lit. Si l'on suit le sens du courant, on trouve la rive gauche et la rive droite.

3. Les grands fleuves de France



1. Ecris le nom des mers ou des océans, puis repasse les fleuves et leurs affluents selon la légende :

Bleu	La Garonne et ses affluents
Violet	La Loire et ses affluents
Orange	La Seine et ses affluents
Vert	Le Rhône et ses affluents
Jaune	Le Rhin
Rouge	Les autres fleuves et rivières

2. En t'aidant de la carte, écris pour chacun de ces fleuves le nom de ses affluents.

a. Le bassin fluvial de la Loire : Mayenne, Sarthe, Loir, Vienne, Creuse, Cher, Allier

b. Le bassin fluvial de la Seine : Oise, Marne, Yonne

c. Le bassin fluvial de la Garonne : Gers, Lot, Ariège

d. Le bassin fluvial du Rhône : Saône, Isère, Durance

3. Complète le tableau suivant en t'aidant de la carte :

Prend sa source...	Fleuve	Se jette dans...
<u>Maladetta</u>	<u>La Garonne</u>	<u>Océan Atlantique</u>
<u>Plateau de Langres</u>	<u>La Seine</u>	<u>La Manche</u>
<u>Mt Gerbier de Jonc</u>	<u>La Loire</u>	<u>Océan Atlantique</u>
<u>Mont Gothard</u>	<u>Le Rhône</u>	<u>Mer Méditerranée</u>

4. Coche la bonne réponse dans le tableau ci-dessous :

→ est traversé par	La Garonne	La Seine	La Loire	Le Rhône
Paris		X		
Lyon				X
Toulouse	X			
Nantes			X	
Rouen		X		

Je retiens : La France est traversée par cinq grands fleuves : la Seine, la Loire, la Garonne, le Rhône et le Rhin (qui délimite une partie de la frontière avec l'Allemagne).