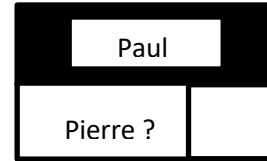


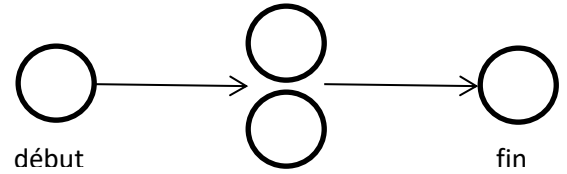
Problème 1 : Pierre a 15 jetons de plus que Carla qui a elle-même 25 jetons de moins que Jean. Carla a 30 jetons. Combien ont Pierre et Jean ?



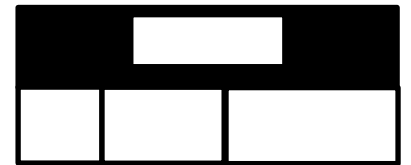
Problème 2 : Paul a 45 cerises, Pierre en a 20 de moins. Combien de cerises à Pierre ?



Problème 3 : Dans un casino, j' ai perdu 58 euros au Black Jack mais j'ai regagné 67 euros aux machines à sous. J'ai maintenant 200 euros ? Combien avais-je au début ?



Problème 4 : J'ai acheté 25 euros de sucrerie, des viennoiseries à 30 euros, Je ne sais plus combien j'ai payé les 2 jouets que j'ai achetés. Mais j'ai payé avec un billet de 50 euros et un autre de 20 et on m'a rendu 5 euros. Peux-tu m'aider ?



Problème 5 : Pour l'anniversaire de Thomas, j'ai fait 12 brochettes de 6 guimauves chacune. Combien ai-je de guimauves en tout ?

Problème 6 : J'ai 16 pages dans mon album. Je voudrais mettre le même nombre de photos sur chaque page : 8 photos . De combien de photos au total ai-je besoin ?

Problème 7 : J'ai 56 photos à ranger dans un album. Je voudrais mettre le même nombre de photos sur chaque page : 8 photos . De combien de pages ai-je besoin ?

Problème 8 : J'ai 56 photos à ranger dans un album. Je voudrais mettre le même nombre de photos sur chaque page : 8 photos . De combien de pages ai-je besoin ?