

Je suis au 20^{ème}
étage et je monte de
5 étages.

A quel étage est-ce
que j'arrive ?

J'ai 20€.

Mon frère Paul en a 5
de plus.

Combien Paul a-t-il
d'argent ?

J'ai acheté un DVD à
20€ et une clé USB à
5€.

Quel est le montant
de mes achats ?

J'avais déjà 20
bonbons et mon père
m'en a donné 5.

Combien ai-je de
bonbons à présent ?

J'ai 20€. Il me
manque 5€ pour
acheter un livre.

Quel est le prix du
livre ?

J'ai 20€ dans mon
porte-monnaie et 5€
dans ma poche.

Combien ai-je
d'argent ?

Je suis au 20^{ème} étage et je descends de 5 étages.

A quel étage est-ce que j'arrive ?

M. Dupont est au 5^{ème} étage et M. Dupré est au 20^{ème} étage.

Combien d'étages les séparent ?

J'ai 20€.

Mon frère Paul en a 5 de moins.

Combien Paul a-t-il d'argent ?

Un DVD coûte 20€.

Il me manque 5€ pour m'en acheter un.

Combien ai-je d'argent ?

J'avais 20 bonbons et j'en ai mangé 5.

Combien de bonbons ai-je à présent ?

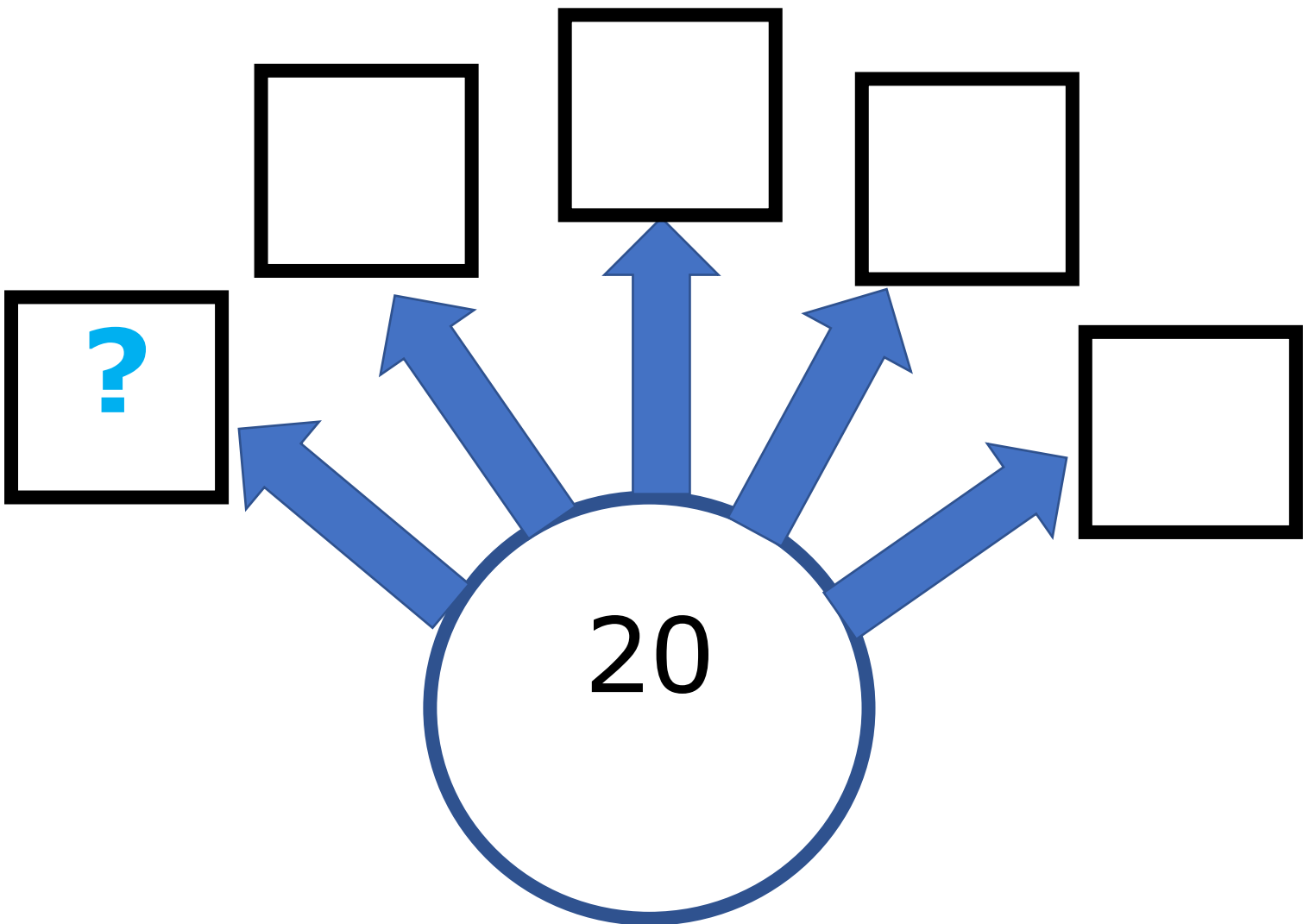
La caissière m'a demandé 5€ et je lui ai donné un billet de 20€.

Combien doit-elle me rendre ?

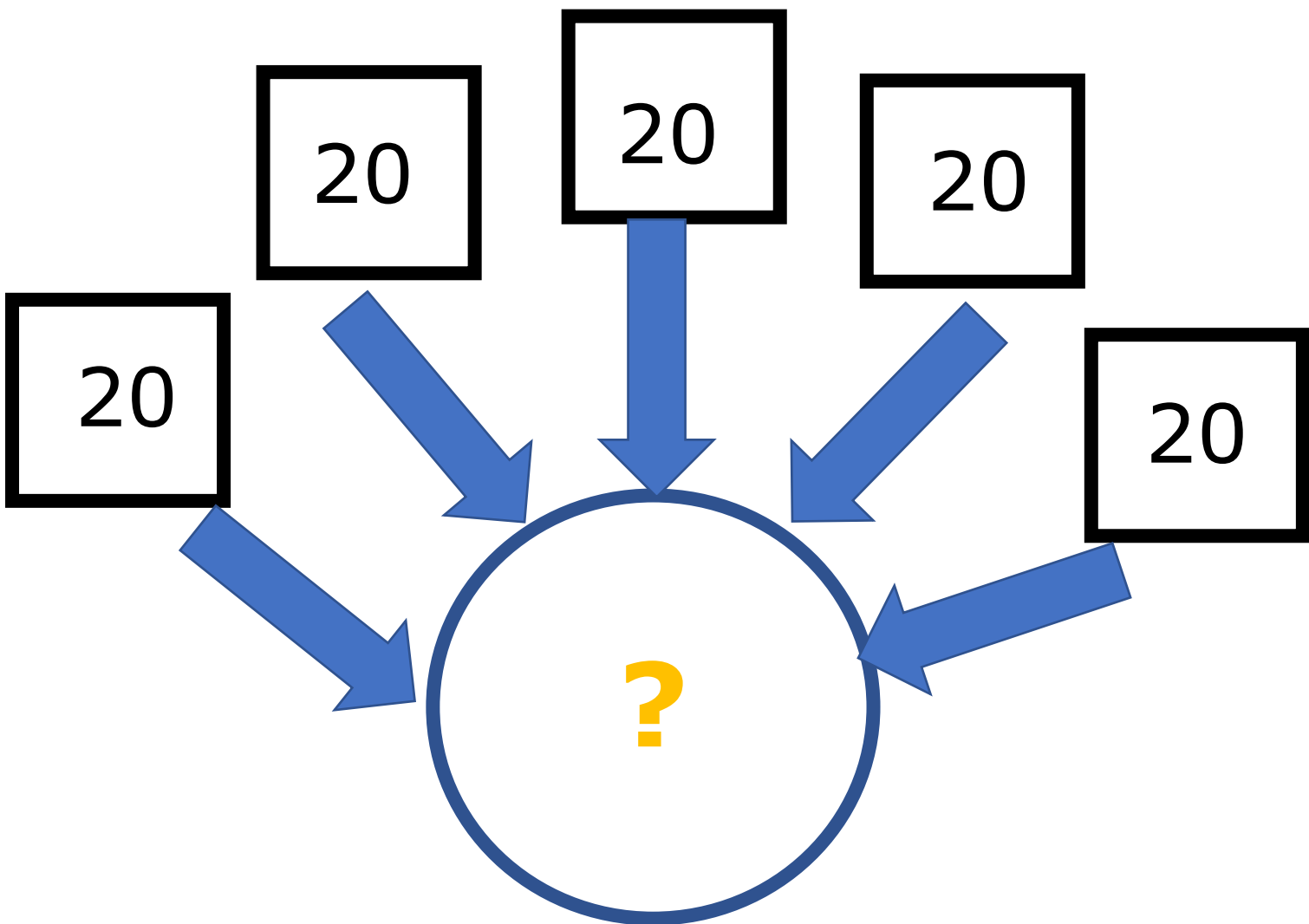
<p>J'ai acheté 5 DVD à 20€ pièce.</p> <p>Combien vais-je payer ?</p>	<p>J'ai 20€.</p> <p>Mon frère Paul en a 5 fois plus.</p> <p>Combien Paul a-t-il d'argent ?</p>
<p>J'ai acheté 5 paquets de 20 bonbons.</p> <p>Combien ai-je de bonbons ?</p>	<p>Combien de personnes peut-on transporter avec 20 voitures « 5-places » ?</p>
<p>Pour un anniversaire, chacun des 5 invités a donné 20€ pour faire un cadeau commun.</p> <p>Quel sera le montant du cadeau ?</p>	<p>Une mère de 5 enfants achète à chacun d'eux un nouveau vêtement qui coûte 20€.</p> <p>Quel est le montant de sa facture ?</p>

<p>J'ai acheté 5 stylos et j'ai payé 20€.</p> <p>Quel est le prix d'un stylo ?</p>	<p>J'ai 20€.</p> <p>Mon frère Paul en a 5 fois moins.</p> <p>Combien Paul a-t-il d'argent ?</p>
<p>5 enfants se partagent 20 bonbons.</p> <p>Combien auront-ils de bonbons chacun ?</p>	<p>20 personnes se rendent à un mariage.</p> <p>Combien de voitures « 5-places » seront nécessaires pour les transporter ?</p>
<p>Dans une classe de 20 élèves, le professeur a fait 5 groupes.</p> <p>Combien y a-t-il d'élèves dans chaque groupe ?</p>	<p>Un cahier coûte 5€.</p> <p>Combien de cahiers peut-on acheter avec 20€ ?</p>

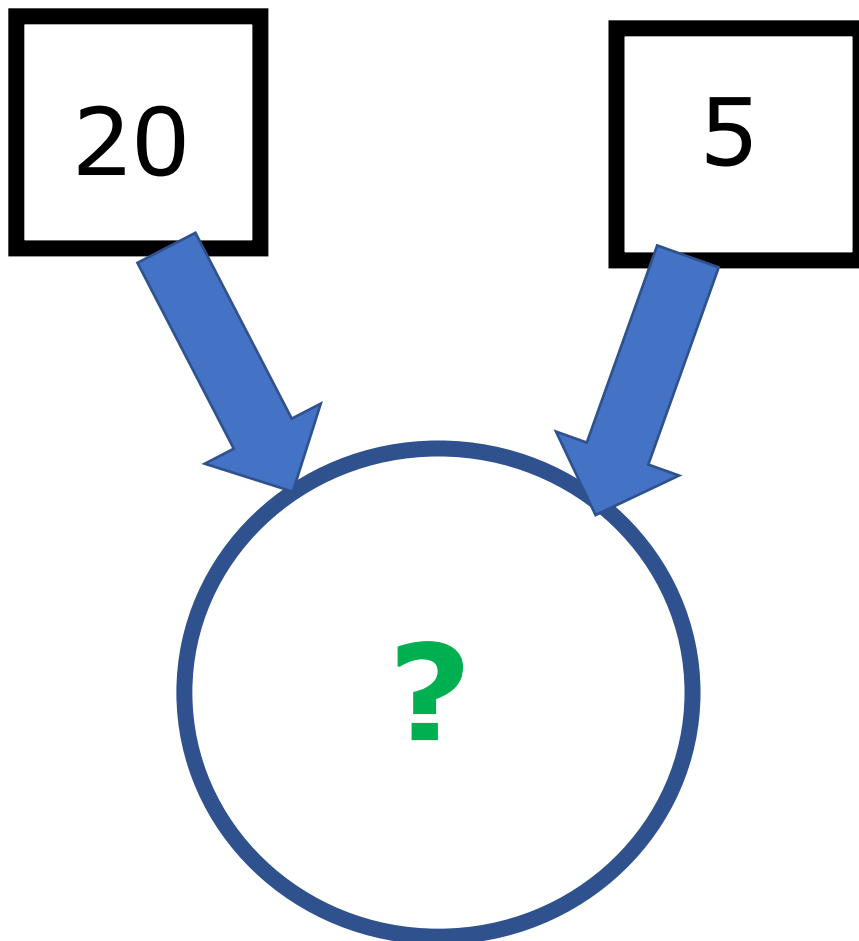
$$20 : 5$$



$$20 \times 5$$



$$20 + 5$$



$$20 - 5$$

